

FİDAN DİKİYORUZ

Pazar sabahıydı. Serhan heyecanla yatağından kalktı. Çünkü babasıyla kahvaltı yapabildiği tek gündü. Geri kalan zamanlarda babası çalışıyordu. Bu yüzden onu göremiyordu. Pazar günleri kahvaltı dışında farklı etkinlikler de yapıyorlardı. Hızlı adımlarla bahçeye çıktı. Çünkü babasının orada olduğunu biliyordu. Ablası da bahçedeydi. Birlikte fidan di-



kiyorlardı. Babası, Serhan'ı yanına çağırdı. "Su kabı getirir misin?" dedi. Serhan, üzgün üzgün su kabı getirmeye gitti. Babası, oğlunun üzgün olduğunu fark etti. "Neden üzgünsün?" diye sordu. Serhan, "Bana önemsiz işler yaptırıyorsun." dedi. Babası güldü. "Oğlum, bitki hayatı için su çok önemlidir. Senin yaptığın iş hepimizin yaptığından daha değerli." dedi. Serhan bunu duyunca üzüntüsü geçti. İşini daha ciddi yapmaya başladı.

SORULAR


1. Serhan neden heyecanla kalktı?

3. Bahçede kimler vardı?

2. Serhan uyanınca nereye gitti?

4. Serhan neden üzgündü?



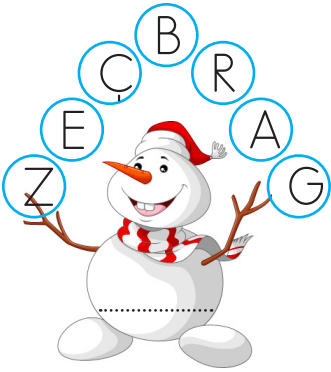

✏️ Aşağıdaki resmi boyamak için yönergeleri okuyalım. Okuduğumuz bu yönergelere göre resmi boyayalım. Yönergenin dışında kalan yerleri istediğimiz renge boyayalım.



YÖNERGELER

- ➔ Horozu kahverengiye boya.
- ➔ Tavuk beyaz olsun.
- ➔ Cıvıvleri sarıya boya.
- ➔ Çiftlik evi turuncu olsun.
- ➔ Bulutları boyama.
- ➔ Güneşi sarıya boya.
- ➔ Çimleri açık yeşile boya.
- ➔ Ağaç gövdesi kahverengi olsun.

✏️ Kardan adamın üzerindeki toplanlarla hayvan isimleri oluşturalım. Oluşturduğumuz isimleri kardan adamın üzerine yazalım. Kullanmadığımız harfleri boyayalım.



✏️ Aşağıda bazı sözcükler verilmiştir. Sözcüklerdeki ünlü harfleri bulalım. Sözcükteki yerlerini, yanındaki kutuya örnekteki gibi işaretleyelim.

aslan →

aile →

kurt →

dört →

kalem →

örgü →

silgi →

orman →

geyik →

kaya →

uyku →

örtü →

✏️ Aşağıdaki tabloda verilen heceleri örnekteki gibi eşleştirelim. Oluşan anlamlı kelimeleri yazalım.

1. Hece	2. Hece	Sözcük
seh	lik	sehpa
ter	ra
bay	gi
der	cir
şap	to
civ	pa
ma	civ
pa	sa
zin	rak
pal	ka





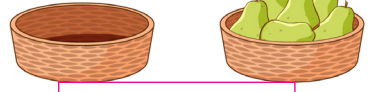





✏️ Aşağıdaki uzay araçlarındaki sözcüklerin hecelenişlerini ve hece sayılarını örnekteki gibi yapalım.



✎ Aşağıdaki kelimelerin zıt anlamlarını bulalım. Cümle içinde kullanalım.

güzel	çirkin	→	Çirkin ördek yavrusu suda yüzüyor.
uzun		→	
kalın		→	
büyük		→	
akıllı		→	
yaşlı		→	
siyah		→	

✎ Aşağıdaki görselleri ifade eden sözcükleri örnekteki gibi yazalım.

			
yaşlı			
genç			
			

✎ Aşağıdaki sözcüklerin eş anlamlılarını karşılarına yazalım.



Sözcük	Eş Anlamlısı
Kırmızı	
Siyah	
Yaşlı	
Kelime	
Büyük	
Tutsak	



Sözcük	Eş Anlamlısı
Konut	
Misafir	
Yürek	
Barış	
Cevap	
Soru	

✎ Aşağıdaki cümlelerdeki altı çizili sözcüğün yerine eş anlamlısını kullanarak cümleyi yeniden yazalım.

Yakaladığı balık ufak olunca denize geri attı.



Sahiplendiği kediye koyacağı adı düşünüp durdu.



Bu sene okula gidemediğim için çok üzgündüm.




























Hayvanlarla ilgili çok güzel bir hikaye yazdım.




Benim babam çok güçlü bir adamdır.



 Aşağıdaki boyalı alanlara gelmesi gereken noktalama işaretlerini yazalım.

-  Okulda futbol  voleybol ve hentbol turnuvası yapılacak 
-  Hey  bastığın yerlere dikkat et 
-  Minik köpek nasıl kaybolmuş 
-  Diş fırçasını aldı  yerine koydu 
-  Ah  Ayağıma çok şiddetli bastın 
-  18  12  2022 tarihinde sözleşmem bitiyor 
-  Manavdan kaç kilogram meyve aldın 
-  Asya  Elif  Gamze ve Seda çok iyi anlaşıyorlar 

 Aşağıdaki cümleleri, sonuna gelmesi gereken noktalama işaretiyle örnekteki gibi eşleştirelim.


Soru İşareti


Ünlem İşareti


Nokta

- Futbol oynamak için sahaya gittiler
- Ablanın arkadaşını gördün mü
- Oh, sonunda sınavdan geçer not aldım
- Ah, son anda yarışmayı kaybetti
- Çay bardağının desenini çok beğendi
- Aklından tuttuğun sayıyı söyledin mi
- Ne zaman babanın iş yerine gideceksin

✏️ Aşağıdaki cümleleri okuyalım. Numaraları kullanarak uygun görsellerle eşleştirelim.



1

1. Hasan koşu bandında koşuyor.



2. Şaban futbol topunu sektiriyor.

3. Eylem, kedisine mama veriyor.



4. Ali ile Ela, köpeklerini yıkıyor.

5. Furkan kitap okuyor.



6. Enes, yumuşak yatağında uyuyor.

✏️ Aşağıdaki harflerle isim yazalım. Yazdığımız isimle cümle oluşturalım.

HARF

İSİM

CÜMLE

H

A

M

S

U

E

✏️ Aşağıda verilen sözcüklerle anlamlı ve kurallı cümleler oluşturalım.



boş

akıtmamalıyız

yere

suyu



etmeliyiz

bakımımıza

dikkat

kişisel



ve

dengeli

beslenmeliyiz

düzenli



çevreyi

temiz

yaşadığımız

tutmalıyız



annem

yardım

bana

etti



önündeki

evinin

kokladı

papatyayı

✏️ Aşağıda yazılı olan özel adları uygun bölümlere yazalım.



Adana	Samsun	Ankara	Tarik
Boncuk	Kemal	Ayhan	Karabaş
Pamuk	Serap	Fino	İzmir

İNSAN ADLARI

.....
.....
.....
.....
.....

ŞEHİR ADLARI


.....
.....
.....
.....
.....

HAYVAN ADLARI

.....
.....
.....
.....
.....

✏️ Aşağıda özel adların yazıldığı roketlerin uç kısmını örnekteki gibi boyayalım.



 Aşağıdaki toplama işlemlerini yapalım.

$$\begin{array}{r} 12 \\ + 6 \\ \hline \end{array}$$

$$\begin{array}{r} 11 \\ + 4 \\ \hline \end{array}$$

$$\begin{array}{r} 7 \\ + 8 \\ \hline \end{array}$$

$$\begin{array}{r} 19 \\ + 1 \\ \hline \end{array}$$

$$\begin{array}{r} 8 \\ + 8 \\ \hline \end{array}$$

$$\begin{array}{r} 3 \\ + 7 \\ \hline \end{array}$$

$$\begin{array}{r} 5 \\ + 4 \\ \hline \end{array}$$

$$\begin{array}{r} 11 \\ + 3 \\ \hline \end{array}$$

$$\begin{array}{r} 10 \\ + 5 \\ \hline \end{array}$$

$$\begin{array}{r} 7 \\ + 6 \\ \hline \end{array}$$

$$\begin{array}{r} 13 \\ + 4 \\ \hline \end{array}$$

$$\begin{array}{r} 10 \\ + 2 \\ \hline \end{array}$$

 Aşağıdaki örneği inceleyerek çıkarma işlemlerini yapalım.

$$5 - 3 = 2 \quad \begin{array}{c} \triangle \\ \text{3} \\ \triangle \text{5} \quad \triangle \text{9} \\ \triangle \\ \text{9} - \text{5} = 4 \end{array} \quad \begin{array}{c} \triangle \\ \text{9} - \text{3} = 6 \end{array}$$


$$\begin{array}{c} \triangle \\ \text{6} \\ \triangle \text{9} \quad \triangle \text{14} \\ \triangle \end{array}$$


$$\begin{array}{c} \triangle \\ \text{8} \\ \triangle \text{5} \quad \triangle \text{15} \\ \triangle \end{array}$$


$$\begin{array}{c} \triangle \\ \text{6} \\ \triangle \text{16} \quad \triangle \text{7} \\ \triangle \end{array}$$


$$\begin{array}{c} \triangle \\ \text{17} \\ \triangle \text{7} \quad \triangle \text{3} \\ \triangle \end{array}$$


$$\begin{array}{c} \triangle \\ \text{10} \\ \triangle \text{3} \quad \triangle \text{14} \\ \triangle \end{array}$$


 Aşağıdaki toplama işlemlerinde verilmeyen sayıları bulup noktalı yerlere yazalım.



6 + = 14


8 + = 17



7 + = 15


9 + = 17



5 + = 11


3 + = 12


 Aşağıdaki çocukların para miktarlarına göre soruları cevaplayalım.




Mert




Eda




Can

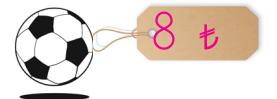
1. Mert ve Eda'nın paraları toplamı kaçtır?

.....

2. Can'ın parası Mert'in parasından kaç lira fazladır?

.....

3. Eda'nın yanda verilen topu almak için kaç liraya ihtiyacı vardır?



.....

 Aşağıdaki görsellerin ifade ettiği kesri boyayalım.



Tam
Yarım
Çeyrek



Tam
Yarım
Çeyrek



Tam
Yarım
Çeyrek



Tam
Yarım
Çeyrek



Tam
Yarım
Çeyrek



Tam
Yarım
Çeyrek

 Aşağıdaki cümleleri uygun sayılarla tamamlayalım.



6 yarım elma bütün elma eder.



4 bütün limon yarım limon eder.



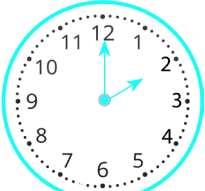
8 tane yarım bütün eder.



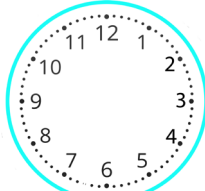
2 yarım 2 bütün bütün eder.



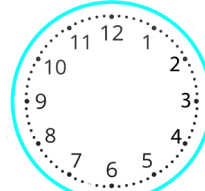
 Aşağıdaki saatlere istenilen yönergeye göre akrep ve yelkovan çizelim.



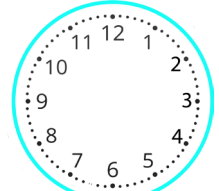
Saat 2




Saat 1

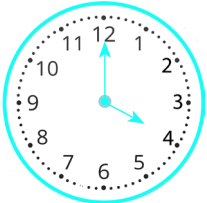


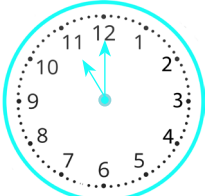
Saat 3







Saat 4


 Aşağıda verilen saatlerden 1 saat sonra ve 1 saat önce saatin kaç olduğunu boşluklara yazalım.

..... $\xleftarrow{1 \text{ saat önce}}$  $\xrightarrow{1 \text{ saat sonra}}$

..... $\xleftarrow{1 \text{ saat önce}}$  $\xrightarrow{1 \text{ saat sonra}}$

 Aşağıdaki geometrik şekilleri isimleriyle eşleştirelim.

Üçgen	•	
Kare	•	
Dikdörtgen	•	
Çember	•	

 Aşağıdaki geometrik cisimlere ait özellikler verilmiştir. Bu özellikleri uygun olan geometrik cismin karşısına yazalım.

Köşeleri olmayan, düz yüzleri olan	Düz yüzleri ve köşeleri olmayan.	Köşeleri ve düz yüzleri olan.
---------------------------------------	-------------------------------------	----------------------------------



.....

.....




.....

.....



.....

.....



.....

.....

 Aşağıdaki örüntülerin kuralını verilen boşluklara yazalım.



Örüntünün kuralı:



Örüntünün kuralı:

 Aşağıdaki problemleri çözelim.

1. Cebimde 18 liram var. Paramın 9 lirasını harcadım. Geriye kaç liram kaldı?



Çözüm :

2. Ayşe 20 sayfalık kitabın önce 5, sonra 7 sayfasını okuyor. Ayşe'nin okuması gereken kaç sayfası kalmıştır?



Çözüm :

3. Bir düzine legonun 8 tanesiyle kule yaptım. Geriye kaç lego kaldı?



Çözüm :

4. Ağaçtaki 17 kuşun 8 tanesi uçtu. Geriye kaç kuş kaldı?



Çözüm :

5. Sude 12 dilim kek hazırladı. 5 tanesini misafirlere ikram etti. 2 tanesini de kendi yedi. Geriye kaç dilim kek kaldı?



Çözüm :

6. Bir otobüste 16 yolcu vardır. İlk durakta 4 yolcu indi. İkinci durakta 6 yolcu bindi. Otobüste kaç yolcu oldu?



Çözüm :



- ★ Ülkemizin kurucusu Mustafa Kemal Atatürk'tür.
- ★ Atatürk bugünkü Yunanistan sınırındaki Selanik'te doğmuştur.
- ★ Annesinin Adı Zübeyde Hanım, babasının adı Ali Rıza Bey'dir. Kız kardeşi ise Makbule Hanım'dır.
- ★ Atatürk İstanbul'daki Dolmabahçe Sarayı'nda hayata gözlerini yummuştur.
- ★ Atatürk'ün mezarı Ankara'da bulunan Anıtkabir'dedir.



✏ Aşağıdaki resimlerin altına isimlerini yazalım.











✏ Aşağıya Atatürk'e duygularımızı anlatan bir metin yazalım.

.....

.....

.....

1. Aşağıdaki görsellerden hangisinin adı bir heceden oluşmuştur?



2. Aşağıdakilerden hangisi hecelerine yanlış ayrılmıştır?

A. Öğ - ret - men

B. uç - urt - ma

C. bi - sik - let

3. Kelebek ■
Dergi ▲
Maymun ●

Yukarıdaki sözcüklerin sözlük numarasına göre sıralaması hangi seçenekte verilmiştir?

A. ▲ ■ ● B. ● ▲ ■

C. ■ ▲ ●

4. Zaman çok kıymetli, değerini bilmek lazım.
Altı çizili sözcüğün eş anlamlısı hangi seçenekte verilmiştir?

A. Vakit

B. Saat

C. Dakika

5.



zayıf - şişman


Yukarıdaki görseller arasındaki anlam ilişkisi aşağıdaki hangi sözcüklerde vardır?

A. doktor - hekim

B. okul - mektep

C. güzel - çirkin

6. Aşağıdaki hayvanlardan hangisinin özel adı verilmiştir?



1. Sonucu 15 olan toplama işlemi hangisidir?

- A. $9 + 7$ B. $9 + 9$
C. $8 + 7$

2.

$$\begin{array}{r} 19 \\ - 8 \\ \hline \square \end{array} \quad \begin{array}{r} \square \\ - 5 \\ \hline \blacktriangle \end{array}$$

Yukarıda verilen çıkarma işlemlerinde "▲" yerine hangi sayı yazılmalıdır?

- A. 6 B. 5
C. 4

3.

$$\dots + 5 = 14$$

Yukarıdaki toplama işleminde noktalı yere hangi sayı yazılmalıdır?

- A. 8 B. 7
C. 9

4. Emre'nin 5 lirası vardı. Emreye annesi 6, babası 7 lira verdi. Emre'nin kaç lirası oldu?

- A. 18 B. 10
C. 13

5. Merve'nin parasının yarısı 7 liradır. Parasının tamamı kaç liradır?

- A. 15
B. 14
C. 16

6.

2 hafta gündür.

Yukarıda boş bırakılan yere hangisi gelmelidir?

- A. 12
B. 18
C. 14

1. Atatürk'ün doğum yeri aşağıdakilerden hangisidir?

- A. Ankara
- B. İstanbul
- C. Selanik

2.



Atatürk
..... hayata
gözlerini yummuştur.

Alper'in cümlesinde boş bırakılan yerlere hangisi gelmelidir?

- A. Dolmabahçe Sarayı'nda
- B. İzmir'de
- C. Ankara'da

3. ■ Annesinin Adı Zübeyde Hanım'dır.

● Babasının adı Ali Rıza Bey'dir

▲ Atatürk İstanbul'da doğmuştur.

Yukarıdaki sembollerle ifade edilen Atatürk ile ilgili bilgilerden hangileri doğrudur?

- A. ■ ▲
- B. ● ■
- C. ▲ ●

4. Anıtkabir aşağıdaki şehirlerin hangisinde yer alır?

- A. Selanik
- B. Ankara
- C. İzmir

TÜRKÇE

1- C

2- B

3- A

4- A

5- C

6- B

MATEMATİK

1- C

2- A

3- C

4- A

5- B

6- C

HAYAT BİLGİSİ

1- C

2- A

3- B

4- B