

Gamze masasının başında kitap okuyordu. Kapı açıldı ve içeri babası girdi. Elinde bir paket vardı. Gamze, babasının elindeki paketi görünce heyecanlandı. Babası hediyeği ona almıştı. Paketi masanın üzerine koydu. Hızlı ve dikkatli bir şekilde açtı. İçinden baykuş şeklinde bir saat çıktı. Saat çok hoşuna gitmişti. Babasına sarıldı.



1. ve 2. soruları metne göre cevaplayalım.

1. Gamze, babasının elindeki paketi görünce ne hissetti?

- A. Öfke
- B. Sinir
- C. Heyecan

2. Babası, Gamze'ye hediye olarak ne almıştı?

- A. Saat
- B. Kitap
- C. Boya

3. k y a a

Yukarıda verilen harfler kullanılarak hangi sözcük yazılmaz?

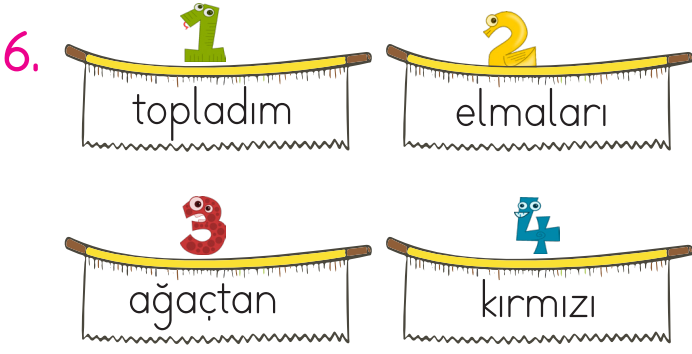
- A. ayak
- B. kaya
- C. arka

4. "kayısı" sözcüğünün ilk hecesi hangi seçenekteki görselin adında hece olarak kullanılmıştır?















5. Hangi cümlede tek harfli sözcük kullanılmıştır?

- A. O, yanıma gelmedi.
- B. Babam eve geldi.
- C. İrem kitap okuyor.



Yukarıdaki kelimelerle kurallı bir cümle oluşturmak istersek sıralama nasıl olur?

- A.    
- B.    
- C.    

7. Aşağıda bir cümleyi oluşturan kelimeler verilmiştir. Hangi kelime çıkarılırsa cümle oluşmaz?

- A. kırıldım      B. çok  
C. sana

8. Aşağıdaki kelimelerden hangisi "uzun" kelimesinin zıt anlamlısıdır?

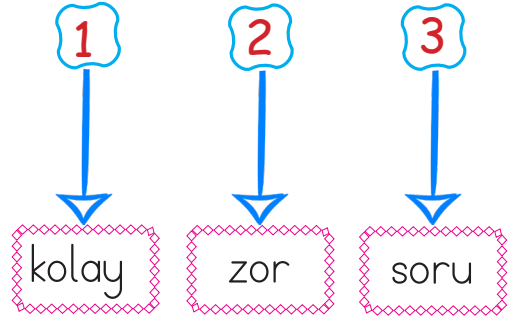
- A. kalın      B. kısa  
C. şişman

9. Aşağıdakilerden hangisi yandaki kelimenin zıt anlamlısı değildir?



- A. yaşlı  
B. ihtiyar  
C. uzun

10.



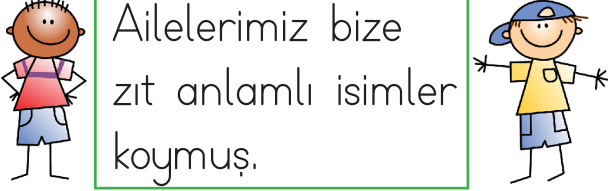
Yukarıdaki iki kelime birbirinin zıt anlamlısıdır. Bir tanesi dışarıda kalmaktadır.

Samet'in doğru yolu bulması için farklı olan kelimeyi seçmesi gerekiyor. Hangi yol doğrudur?

- A.       B.   
C. 

11. Hangi seçenekteki sözcükler zıt anlamlı değildir?

- A. ileri - geri
- B. dost - düşman
- C. siyah - kara


12.  Ailelerimiz bize zıt anlamlı isimler koymuş.




Kardeşlerin adları hangi seçenekteki olamaz?

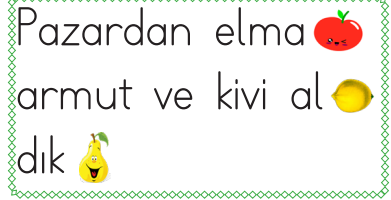
- A. Celal - Deniz
- B. Savaş - Barış
- C. Kuzey - Güney

13. Aşağıdaki isimlerden hangisi özel isimdir?




- A. Kalem
- B. Masa
- C. Ali

14.  Yukarıdaki sözcüklerle kurulacak kurallı cümlenin sonuna hangi noktalama işareti gelmelidir?

- A. 
- B. 
- C. 

15.  Pazardan elma, armut ve kivi aldık.

Yukarıdaki cümleye yerleştirilen işaretler, hangi noktalama işaretlerini ifade etmektedir?

			
A.	virgöl	kısa çizgi	nokta
B.	virgöl	virgöl	nokta
C.	nokta	kısa çizgi	virgöl

1.

7 kalem, 5 kalem  
daha 12 kalem  
eder.

Yukarıdaki ifadeye ait toplama işlemi, seçeneklerin hangisinde doğru olarak verilmiştir?

A.  $7 + 5 = 12$

B.  $5 + 7 + 12 = 24$

C.  $7 + 7 = 14$

2.



Yukarıdaki kaplumbağaların yanına kaç tane kaplumbağa daha gelirse toplam kaplumbağa sayısı 12 olur?

A. 5

B. 6

C. 7

3.

$$\begin{array}{r} 6 \\ + A \\ \hline 12 \end{array} \quad \begin{array}{r} 5 \\ + B \\ \hline 8 \end{array}$$

Yukarıdaki toplama işlemlerine göre  $A + B$  kaçtır?

A. 3

B. 6

C. 9

4.

$8 - 6$

12

$14 - 9$

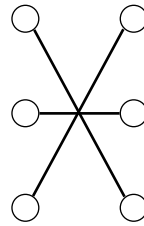
2

$7 + 5$

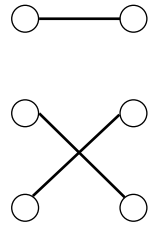
5

Yukarıdaki işlemlerle sonuçların eşleştirirsek son görünüşü hangisi gibi olur?

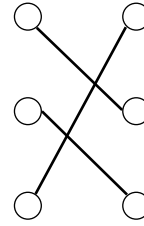
A.



B.



C.



5.



$6 - 4$



$3 - 0$



$9 - 8$

Yukarıdaki çıkarma işlemlerinin sonuçlarından hangisi en büyüktür?

A.



B.



C.



6.



Daha önce bir miktar cevizim vardı. Annem de 5 tane ceviz verdi. 13 cevizim oldu.

Yukarıdaki ifadeye göre Elçin'in daha önce kaç cevizini vardı?

- A. 8      B. 6      C. 4

7.


$$5 + 7 + A = 15$$



Yukarıdaki işlemde "A" yerine hangi sayı yazılmalıdır?

- A. 2      B. 3      C. 4

8.



Yukarıda verilenlere göre fark kaçtır?

- A. 6      B. 8      C. 14

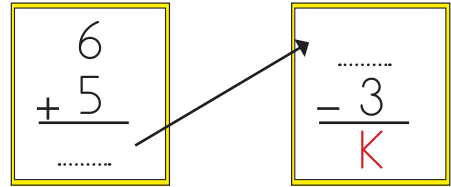
9.



Sibel'in kedilerinden 3 tanesi evden kaçınca görseldeki kadar kedisi kalmıştır. En başta kaç kedisi vardı?

- A. 12      B. 9      C. 6

10.



Yukarıdaki işlemlere göre "K" yerine hangi sayı gelmelidir?

- A. 7      B. 8      C. 11

11. Aşağıdaki paralardan hangisinin değeri daha azdır?



12. Dilâ'nın 15 lirası vardır. 5 liraya toka alırsa kaç lirası kalır?

A. 15 B. 20 C. 10

13. Ersin'in yaşı ablasının yaşından 6 eksiktir. Ablası 10 yaşında olduğuna göre Ersin kaç yaşındadır?

A. 4 B. 8 C. 16

14.



20 TL

Yukarıda verilen topu aşağıdaki para gruplarından hangisi ile alamayız?



15.



Yukarıdaki paralar ile aşağıdaki oyuncaıklardan hangisini satın alabiliriz?



1. Yaşam alanlarının güvenli kullanımı ile ilgili hangisi doğrudur?

- A. Dere kenarında oynamak
- B. İnşaat alanlarında oynamak
- C. Evin bahçesinde oynamak

2. 🌙 Buzdolabı

☀️ Priz ve kablolar

★ Telefon

Yukarıdakilerden hangisi evdeki tehlike kaynaklarından?

A. 🌙

B. ★

C. ☀️

3. Ulaşım araçlarında hangisini yapmamız tehlikelidir?

- A. Oturarak yolculuk etmek
- B. Pencereden sarkmak
- C. Emniyet kemeri takmak

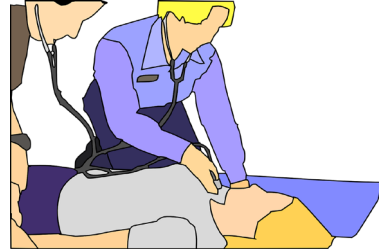
4.



Resimde belirtilen güvenli geçişin adı nedir?

- A. Yaya geçidi
- B. Okul yolu
- C. Üst geçit

5.



Yukarıdaki durumda aranan acil numarası aşağıdakilerden hangisidir?

- A. 112
- B. 155
- C. 110

6. Aşağıdakilerden hangisi teknolojik bir alettir?

- A. Masa
- B. Kitap
- C. Bilgisayar

7. Okula geliş ve gidişlerde dikkat edilecek kurallarla ilgili hangisi doğrudur?

- A. Araçların arasından koşarak geçmek
- B. Karşıdan karşıya geçerken önce sağa bakmak
- C. Trafik ışıklarının olduğu yoldan geçmek

8. Aşağıdakilerden hangisi güvenli oyun alanıdır?

- A. Su kanalları
- B. Parklar
- C. Kaldırımlar


9.

Mutfak	Ulaşım
Fırın	Uçak
Araba	Buzdolabı

Yukarıdaki teknolojik araç ve gereçlerden hangi ikisinin yeri değişirse doğru olur?

- A. Araba - Buzdolabı
- B. Fırın - Uçak
- C. Fırın - Buzdolabı

10.



Yukarıdaki teknolojik aracın kullanıldığı alan hangisidir?

- A. Mutfak
- B. Ulaşım
- C. Eğitim