


Hava çok güzeldi. Seda, köpeği Benekli'yi alıp dışarı çıktı. Evin yakınlarında bir park vardı. Parkta koşup eğlendiler. Oyunlar oynadılar. Benekli, Seda ile çok iyi vakit geçiriyordu. Artık eve dönme vakti gelmişti. Çünkü annesinden bir saatlik izin alabilmisti.



1. ve 2. soruları metne göre cevaplayalım.

1. Seda, köpeği ile nerede oynadı?

- A. Parkta
- B. Bahçede
- C. Ormanda

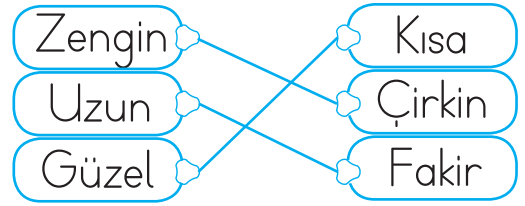
2. Seda'nın köpeğinin adı nedir?

- A. Pamuk
- B. Benekli
- C. Karabaş

3. Aşağıdakilerden hangisi "K" ve "R" harflerinin arasında değildir?

- A. M
- B. Ö
- C. S

4.



Yukarıda zıt anlamlı kelimeler eşleştirilmiştir.

Bu eşleşmelerden kaç tanesi yanlıştır?

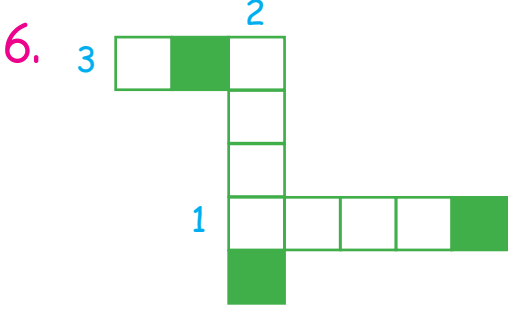
- A. 1
- B. 2
- C. 3

5.



Numaralandırılmış balonların içindeki sözcüklerden hangisinin yazımı yanlıştır?

- A. 1
- B. 2
- C. 3



1. "Mutlu" sözcüğünün zıt anlamlısı
2. "Büyük" sözcüğünün zıt anlamlısı
3. "Az" sözcüğünün zıt anlamlısı

Yukarıdaki bulmaca çözüldüğünde boyalı kutulardaki harflerle hangi sözcük oluşturulabilir?

- A. saç B. küs C. kon

7. Aşağıdakilerden hangisi "siyah" kelimesinin zıt anlamlısıdır?


- A. beyaz
B. kara
C. kırmızı

8. Bal yapan, iğnesi olan ve sokan böcek.

Tanıtımı yapılan hayvan aşağıdakilerden hangisidir?

- A.  B.  C. 

9.



Yukarıdaki sözcüklerle anlamlı ve kurallı cümle oluşturulduğunda sıralama nasıl olmalıdır?

- A. 1 - 2 - 3 - 4
B. 3 - 1 - 2 - 4
C. 2 - 4 - 1 - 3

10. Aşağıdakilerden hangisi harf değildir?

- A. 2 B. K C. A

11. Aşağıdakilerden hangisinin sonuna nokta konulmalıdır?

- A. Ayça kitap okuyor
- B. Denize girelim mi
- C. Oooo, çok güzel olmuş

12. Aşağıdakilerden hangisi cümle değildir?

- A. Benimle oynar mısın
- B. Gördüm
- C. Sabah kahvaltı

13. Aşağıdakilerden hangisi hecelerine doğru ayrılmıştır?

- A. kitap-
lık
- B. pat-
ates
- C. sek-
iz

14.

yaşlı	isim	kısa
küçük	genç	büyük
uzun	kalın	ince

Tahtadaki zıt anlamlı sözcükler eşleştirildiğinde hangisi dışarıda kalır?

- A. uzun
- B. isim
- C. yaşlı

15.

Ali  zaman - vakit

İsa  ak - beyaz

Can  uzak - yakın

Yukarıdaki tabloda hangi öğrencinin yazdığı kelimeler zıt anlamlıdır?

- A. İsa
- B. Can
- C. Ali

NİSAN		2021				
PZT	SA	ÇA	PE	CU	CT	PZ
			1	2	3	4
5	6	7	8	9	10	11
12	13	14	15	16	17	18
19	20	21	22	23	24	25
26	27	28	29	30		

1, 2 ve 3. soruları takvime göre cevaplayalım.

1. Ayın birinci günü hangi gündür?

- A. Perşembe
- B. Salı
- C. Cuma

2. "23 Nisan Ulusal Egemenlik ve Çocuk Bayramı" hangi güne denk gelir?

- A. Cuma
- B. Salı
- C. Perşembe

3. Takvim yaprağı hangi ayı göstermektedir?

- A. Çarşamba
- B. Nisan
- C. 2021

4.

DÜN	BUGÜN	YARIN
?		Cuma


Yukarıdaki tabloda "?" ile gösterilen yere hangisi yazılmalıdır?

- A. Salı
- B. Çarşamba
- C. Perşembe

5. Anıl saat altıda kalktıktan iki saat sonra kahvaltıya oturdu. Anıl saat kaçta kahvaltıya oturmuştur?

- A. Saat yedide
- B. Saat sekizde
- C. Saat beşte

6. SORUYA GEL



Yukarıda her hayvanın üzerinde yuvarlaklar verilmiştir. Bu yuvarlaklar hangi hayvanın üzerindeyse o hayvanın sayısını vermektedir. Yukarıdaki hayvanlardan 2 fil, 1 panda ve 1 kaplumbağa kaybolmuştur. Buna göre kaç hayvan kalmıştır?

- A. 11 B. 12 C. 13

7.



Yukarıdaki meyve ve sebzelerden 8 tanesi tüketilirse kaç tane kalır?


- A. 8 B. 12 C. 16

8. İhsan temmuz ayında yüzmeye başladı. İki ay sonra yüzmeyi bıraktı.

İhsan hangi ay yüzmeyi bırakmıştır?

- A. Haziran
B. Ağustos
C. Eylül

9.



Yukarıdaki karpuzlardan kaç yarım karpuz elde edilir?

- A. 2 B. 4 C. 8

10.



2 bütün 4 yarım eder.

6 yarım 2 bütün eder.

4 bütün 8 yarım eder.

Yukarıdakilerden kaç tanesi doğrudur?


- A. 1 B. 2 C. 3

11. Yandaki saat kaç göstermektedir?

- A. Saat: altı
B. Saat: on iki
C. Saat: on iki buçuk



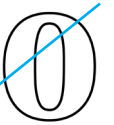
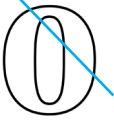
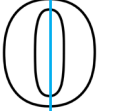
12.



Yukarıdaki yarım yumurtalar kaç bütün yumurtaya eşittir?

- A. 4 B. 6 C. 8

13. Aşağıdaki bütünlerden hangisi iki eş parçaya bölünmüştür?




- A. 
- B. 
- C. 

14.



Saat şu an on bir.
Beni iki saat önce yemeliydin.

Çocuklar, yumurtayı yemeleri gereken saati söylemişlerdir.
Hangi çocuğun verdiği yanıt doğrudur?

- A.  B. 
- C. 

15. Aşağıdaki paralardan hangisi 5 TL'den büyük, 20 TL'den küçüktür?

- A. 
- B. 
- C. 

1. Aşağıdaki davranışlardan hangisi güvenli bir davranıştır?

- A. Merdivenlerden koşarak inip çıkmak
 B. Evin penceresinden aşağı sarkmamak
 C. Evdeki tehlikeli malzemelerle oynamak


2. Hangisi daha büyük yerleşim yeridir?

- A. köy B. ilçe C. il

3. Aşağıdakilerden hangisi ili yönetir?

- A. Muhtar B. Vali
 C. Kaymakam

4. Aşağıdakilerden hangisi tarihi ve turistik yere örnektir?



5.  köy/mahalle

 il

 ilçe

Yukarıdaki yerleşim yerlerinin büyükten küçüğe doğru sıralanmış hali hangisidir?

A.   

B.   

C.   

6. Yerleşim yeri ve yöneticisi doğru eşleştirilen seçenek hangisidir?

- A. ilçe - kaymakam
- B. vali - köy
- C. kaymakam - il

7. 1 Polis imdat: 1-5-5

2 İtfaiye: 1-5-8

3 Acil yardım: 1-1-2

4 Jandarma imdat: 1-1-0

Yukarıda verilen acil durum numaralarından hangileri doğrudur?

- A. 1, 2
- B. 1, 3
- C. 2, 4

8. Aşağıdakilerden hangisi milli marşımızın adıdır?

- A. İstiklal Marşı
- B. Türk Marşı
- C. Cumhuriyet Marşı

9.



Acil durum numaralarını bilmeliyiz. Acil durum numaralarını boş yere meşgul etmemeliyiz.

Selin'in yukarıdaki ifadesine göre aşağıdakilerden hangisi doğrudur?

- A. Acil durum numaralarını sürekli aramalıyız.
- B. Acil durum numaralarını bilmek pek işimize yaramaz.
- C. Acil durum numaralarını öğrenmek önemlidir.

10.

- Düğünlerimiz
- Bayram ziyaretleri
- Boğa güreşleri

Yukarıdakilerden kaç tanesi kültürümüzü yansıtan unsurlardandır?

- A. 2
- B. 1
- C. 3