

## ZEYNEP

Zeynep kitap okumayı çok seviyordu. Evdeki tüm kitapları okumuştur. Eline yeni bir kitap geçince heyecanlanıyordu. Kitap okumak kelime haznesini geliştiniyordu. Yeni bilgiler öğrenmek Zeynep'i çok mutlu ediyordu. Çevresindeki tüm insanlara kitap okumaları gerektiğini anlatıyordu.



1. ve 2. soruları metne göre cevaplayalım.

1. Zeynep ne yapmayı çok seviyordu?

- A. Kitap okumayı
- B. Dans etmeyi
- C. Ders çalışmayı

2. Kitap okumak neyi geliştiniyordu?

- A. Dilini
- B. Kelime haznesini
- C. Zihnini

3. Aşağıdaki kelimelerden hangisi tek hecelidir?

- A. ayı
- B. kel
- C. asi

4. sa at kı yı

Yukarıdaki hecelerle hangi sözcük yazılamaz?

- A. saat
- B. atkı
- C. yıka

5. Özge Öğretmen, öğrencilerinden bir etkinlik hazırlamalarını istemiş. Etkinliğin konusu uçan hayvanlarmış.

Öğrenciler aşağıdaki etkinliklerden hangisini yapmış olamaz?

- A. 
- B. 

- C. 

6. Aşağıda satır sonuna sığmayan kelimelerden hangisinde yanlışlık yapılmıştır?

A. ke-  
lime

B. küt-  
üphane

C. de-  
ğirmen

7. "Kitap" sözcüğünün bütün harflerini birer kez kullanarak hangi sözcük oluşturulabilir?


- A. pak  
B. takip  
C. paket

8.  Bahçeye indik  
 Ahmet ile  
 Evin yanındaki

Yukarıdakilerden hangisi cümledir?

- A.  B.  C. 


### 9. SORUYA GEL



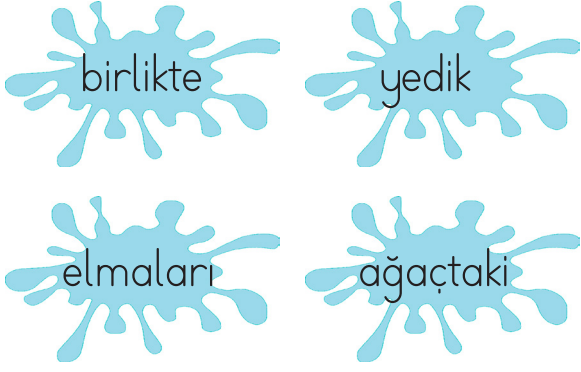
Görselde "?" yerine aşağıdakilerden hangisi gelmelidir?



10. Yaz mevsimini çok seviyorum. Yukarıdaki cümlede altı çizili kelimenin zıt anlamlısı aşağıdakilerden hangisidir?



11.



Yukarıdaki sözcüklerle kurulan anlamlı ve kurallı cümle hangisidir?

- A. Ağaçtaki elmaları birlikte yedik.
- B. Ağaçtaki elmaları yedik birlikte.
- C. Yedik ağaçtaki elmaları birlikte.

12. Akşam babamla sinemaya gideceğiz.

Yukarıdaki cümlede hangi sorunun cevabı yoktur?


- A. Nereye?
- B. Ne zaman?
- C. Kim?

13. Kirpiti nasıl yakmamız gerektiği konusunda pılan yaptık.

Altı çizili sözcüklerin doğru yazılışı hangi seçenekte verilmiştir?

- A. Kibrit - plan
- B. Kirbit - pılan
- C. Kirbit - plan

14. Aşağıdaki görselleri alfabetik sıraya göre sıralarsak en baştaki görsel hangisi olur?




15. Aşağıdaki cümlelerden hangisinde virgül yanlış kullanılmıştır?

- A. Annem, ve babam uyuyor.
- B. Pazardan erik, elma aldım.
- C. Ali, Sinan ve İşıl bize geldi.

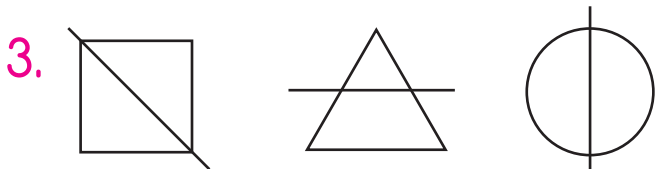
1. Okul servisindeki öğrencilerin 6'sı inince geriye 12 öğrenci kaldı. Buna göre öğrenciler inmeden önce serviste kaç öğrenci vardı?

- A. 6      B. 10      C. 18

2. Yanda verilen şeklin yarısının boyanmış olması için küçük parçalardan kaç tanesi boyanmalıdır?



- A. 1      B. 2      C. 3



Yukarıdaki şekillerden kaç tanesi iki eş parçaya bölünmüştür?

- A. 1      B. 2      C. 3

4.

Bugün salı ise dün .....★.....

Yarın pazar ise dün .....▲.....

Dün cuma ise bugün .....●.....

Yukarıdaki sembollerin yerine gelecek olan sözcükler hangi seçenekte doğru olarak verilmiştir?



- A. Pazar      Cuma      Salı  
 B. Pazartesi      Cuma      Cumartesi  
 C. Pazar      Salı      Cuma

5.

### HASAN DEDE VE AİLESİ



Hasan dede kendisi de dahil olmak üzere ailesindeki herkese yarım portakal vermiştir. Buna göre kaç portakalı yarıya bölmüştür?

- A. 3      B. 6      C. 12


6. Aşağıdaki nesnelere hangisinin köşesi yoktur?



7. Hangi şeklin tüm kenar uzunlukları eşittir?

- A. Çember  
B. Kare  
C. Üçgen

8.



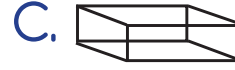
Yukarıdaki nesne için hangisi yanlıştır?

- A. Köşeleri vardır.  
B. Şekli kullanarak kare çizilebilir.  
C. Şekli kullanarak yuvarlak çizilebilir.

9.



Yan taraftaki nesne aşağıdaki geometrik cisimlerden hangisine benzemektedir?



10.

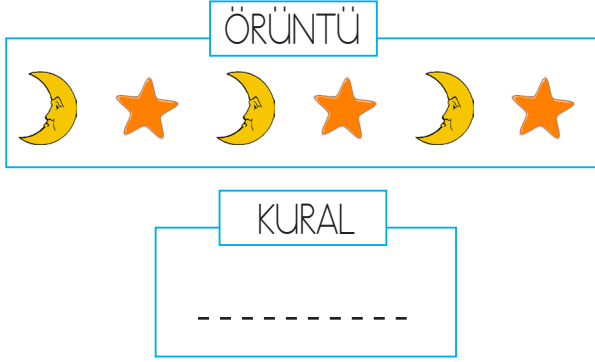


Duru ve Cengiz saat 08.00'da fidan sulamak için bahçeye gitmişlerdir. 2 saat bahçede kalıp eve dönmüşler.

Buna göre çocuklar eve döndüklerinde saat kaç olur?

- A. 09.00  
B. 10.00  
C. 11.00


11.



Yukarıdaki örüntünün kuralı aşağıdakilerden hangisidir?







- A. 1 ay, 1 yıldız
- B. 1 yıldız, 1 güneş
- C. 3 ay, 3 yıldız

12. SORUYA GEL



Öğretmeni, Hakan'dan "1 mor çiçek, 1 sarı çiçek, 1 kırmızı çiçek" örüntüsünü oluşturmasını istiyor. Hakan örüntüde iki çiçeğin yerini karıştırıyor.

Hakan hangi çiçeklerin yerlerini değiştirirse hatayı düzeltmiş olur?

- A.  
- B.  
- C.  

13. İpek, ablasıyla kıyafet almak için mağazaya gidiyor. Görevli, istediği kıyafetin 4 gün sonra geleceğini söylüyor.

İpek, mağazaya salı günü gittiğine göre kıyafet mağazaya ne zaman gelecektir?

- A. Pazartesi
- B. Çarşamba
- C. Cumartesi

14. Aşağıdakilerden hangisinde kış mevsimi ayları verilmiştir?

- A. Aralık - Ocak - Şubat
- B. Nisan - Mayıs - Haziran
- C. Şubat - Mart - Nisan

15. SORUYA GEL



Ali yukarıdaki bilyeleri, toplamaları 10 olacak şekilde ikili eşleştiriyor.

Bu işlem sonucunda kaç bilyeyi eşleştirmemiştir?

- A. 2
- B. 4
- C. 6

1.



Köyün yöneticisi aşağıdakilerden hangisidir?

- A. Vali
- B. Muhtar
- C. Kaymakam

2.



Resimde belirtilen yerin adı hangisidir?

- A. Balıklıgöl
- B. Anıtkabir
- C. Sümela Manastırı

3. Aşağıdakilerden hangisi şehirlerimizden biri değildir?

- A. İstanbul
- B. Ankara
- C. Milan



4. Atatürk'ün annesinin adı nedir?

- A. Zübeyde Hanım
- B. Makbule Hanım
- C. Lütfiye Hanım

5. Hangisi daha büyük yerleşim yeridir?

- A. İlçe
- B. İl
- C. Köy

6. Aşağıdakilerden hangisi tarihi ve turistik yere örnektir?



7. ....

Yüreği güzel çocuk  
Uyanma vaktidir şimdi  
Bugün senin bayramın  
Her yeri süsleyelim hadi

Yukarıdaki şiirde çocuğa seslenildiğine göre başlık hangisi olmalıdır?

- A. 29 Ekim
- B. 23 Nisan
- C. 19 Mayıs

8. Aşağıdakilerden hangisi bayramlarda çocukların daha çok hoşuna gider?

- A. Temizlik yapılması
- B. Bayramlık kıyafetler alınması
- C. Yemek yapılması

9. Bayramlarda en yoğun yaşanan duygu aşağıdakilerden hangisidir?

- A. Üzüntü
- B. Kızgınlık
- C. Mutluluk

10. Aşağıdaki durumlardan hangisi bayramla ilgilidir?

- A. Büyüklerin elini öpmek
- B. Piknik yapmak
- C. Denizde yüzmek