

## Aysun'un Bir Fikri Var

Aysun ve arkadaşları mahallelerindeki parkta oyun oynarlardı. Oyun oynamak, arkadaşlarla zaman geçirmek eğlenceliydi ama bir sorun vardı. Belediye çalışanları temizlik yapsa da parkı kullanan diğer insanlar yeteri kadar çevreyi temiz tutmuyorlardı. Bu durum Aysun ve arkadaşlarını oldukça üzüyordu. Aysun'un aklına bir fikir geldi. Aysun,



- Arkadaşlar, sizlerin de benim gibi üzgün olduğumu biliyorum. Benim bir fikrim var; bugün oyun oynamak yerine parkın temizliğini ve bakım işlerini yapabiliriz, dedi.

Arkadaşları, bu fikri çok beğendiler, hemen aralarında iş bölümü yaptılar. Mert ve Hasan temizliğe başladılar. Aysun ile Ahmet ise çiçeklere ve ağaçlara su verdiler. Çevredeki insanlar şaşkınlık içinde Aysun ve arkadaşlarını izliyorlardı. Dört arkadaşın bu çabası diğer insanlara da örnek olmuştu. Biraz yoruldu ama buna değmişti, oyun oynayacakları parkları çok temiz olmuştu.



Mert,

- Arkadaşlar, park oldukça temiz oldu ama her zaman temiz kalması için de bir şey yapmalıyız, dedi.

Bu konu hakkında kısa bir süre düşünüp karara vardılar. Parkın kolaylıkla görülebilecek yerlerine temizlikle ilgili hazırladıkları afişleri asacaklardı. Ayrıca çevrelerinde temizlik kurallarına uymayanları nazik bir şekilde uyaracaklardı. Dört arkadaşın davranışları kısa sürede mahallede yaşayan insanlardan da destek topladı. Sadece park değil mahalledeki sokaklar da oldukça temiz görünmeye başladı. Çocuklar yaşadığımız çevre sadece bize ait değil, diğer insanların ve hayvanların kullandığı ortak alandır. Temiz çevre, temiz bir toplum için el ele vermeli üzerimize düşen sorumlulukları yerine getirmeliyiz.



1) Metne uygun 3 başlık yazalım.



2) Aysun ve arkadaşları nerede oynuyorlarmış?


3) Aysun ve arkadaşlarının parkla ilgili sorunu nedir?


4) Aysun parktaki sorun için nasıl bir çözüm bulmuş?


5) Daha temiz bir çevre için neler yapılabilir? Aşağıya yazalım.

.....

.....

.....

.....

.....

.....

.....

.....

Aşağıdaki cümlelerden doğru olana "D", yanlış olana "Y" yazalım.

- ( ) Hitap sözcüklerinden sonra virgül konulur.
- ( ) Özel isimlere gelen ekler ünlem işareti ile ayrılır.
- ( ) Karşılıklı konuşmalarda cümlelerin başına kesme işareti konur.
- ( ) Satır sonuna sığmayan sözcükleri kısa çizgi ile ayırınız.

Aşağıdaki soruları cevaplayalım, doğru seçeneği işaretleyelim.

1. Aşağıdaki cümlelerin hangisinin sonuna nokta konmalıdır?

- A) Kalemimi gördün mü
- B) Ah, dilim yandı
- C) Rüzgar sert esiyor

2.

Eyvah, çantamı evde unuttum

Yukarıdaki cümlelerin sonuna hangi noktalama işareti gelmelidir?

- A)
- B)
- C)

 Aşağıdaki cümlelerden kurallı olanları devrik, devrik olanları kurallı yapalım.



Kaybetmiş iki kalemini de. ....



Türkiye'nin başkenti Ankara'dır. ....



Bahar temizliğine başladı annem. ....



Okula uğrayacak babam. ....



Ablam ödevlerimde yardım etti. ....

 Aşağıda verilen kelimeleri kullanarak anlamlı ve kurallı cümle oluşturalım.



kedimdir - Pamuk - benim  
.....



için - topladım - annem - çiçek  
.....



sevdiğim - en - ilkbahar - mevsim  
.....




var - üstünde - kuş - ağacın  
.....



yaz - bu - köye - gideceğiz  
.....



kaldı - okula - geç - ablam  
.....

 Aşağıdaki cümlelerde "-mi" soru ekinin yazımından kaynaklanan hataları düzelterip cümleyi tekrar yazalım.


Hafta sonu sinemayamı gitsek? .....

Beni biraz dinlermisiniz? .....

Kalemimi alabilirmiyim? .....

Akşamları erkenmi yatarsın? .....

✏️ Aşağıda verilen ifadeleri eşleştirerek sebep - sonuç cümleleri oluşturalım.



- Geç uyuduğu için
- Meraklı olduğu için
- Sağlıklı olmak için
- Çalışkan olduğundan
- Çok çalıştığından
- Kar yağdığı için



- spor yapıyor.
- takdir ediliyor.
- başarılı oldu.
- çok soru soruyor.
- sabah geç uyandı.
- yollar kapalı.

✏️ Aşağıdaki cümlelerin sonuçları verilmiştir. Bunlara uygun nedenler yazalım.



İstediği mesleğe sahip oldu



Televizyonu kapattım.



Ekmeği fazla aldım.




Doktora gittim.



Erkenden uyudu.

✏️ Bu görsellere uygun karşılaştırma ifadeleri yazalım.




← kadar →

.....



← gibi →

.....



← daha →

.....



← gibi →

.....



Aşağıdaki cümlelere, altı çizili sözcüklerin yanıtı olabilecek sorular yazalım.



Aşağıdaki cümlelerde altı çizili sözcükler hangi sorunun yanıtıdır?



Erdinç neyi evde unutmuş?



Erdinç defteri evde unutmuş.



Arabalar hızlı hızlı ilerliyordu.

Ne?  Niçin?  Ne zaman?

Kim?  Nasıl?



Öğretmenim okula gelmedi.



Ali ekmek almak için fırına gitti.

Ne?  Niçin?  Ne zaman?

Kim?  Nasıl?



Ablam iyi görünmüyor.



Sincaplar ormanda yaşar?

Ne?  Niçin?  Ne zaman?

Kim?  Nerede?



Serhan ilaç içti.



Yarın pikniğe gideceğiz.

Ne?  Niçin?  Ne zaman?

Kim?  Nasıl?



Sude, ablasından yardım aldı?



Babam arabayı dikkatli kullanır.



Cem babasının gazetesini getirdi.

Ne?  Niçin?  Ne zaman?

Kim?  Nasıl?



Annem akşam için hazırlık yaptı.



Manavda taze meyveler vardı.

Ne?  Niçin?  Nerede?

Kim?  Nasıl?



Karan çok heyecanlı görünüyor.



Oylum, resim çizdi.



Annem masal anlattı.

Ne?  Niçin?  Ne zaman?

Kim?  Nasıl?

✏️ Aşağıdaki atasözlerindeki boş bırakılan yerleri uygun olan sözcüklerle dolduralım.



Komşu komşunun ..... muhtaçtır.

şası



Taşıma suyla ..... dönmez.

yarına

külüne



İşleyen demir ..... tutmaz.



Ak akçe ..... gün içindir.

fırtına



Körle yatan ..... kalkar.

değirmen

kara



Bugünün işini ..... bırakma.

yatsıya

ok



Rüzgar eken ..... biçer.



Yalancının mumu ..... kadar yanar.

pas



Atılan ..... geri dönmez.

✏️ Aşağıdaki deyimleri anlamları ile eşleştirelim.

İçine atmak

Çok acıkmak

Dilinde tüy bitmek

Çok sessiz, sakin, kendi halinde

Karnı zil çalmak

Derdini sıkıntısını kimseye söylememek

Yüreği ağzına gelmek

Tekrar tekrar anlatmaktan usanmak

Ağzı var dili yok

Gereksiz konuşarak karşısındakini yormak


Kulak kabartmak

Çok korkmak


Kafa ütölemek

Belli etmeden dinlemeye çalışmak


 Aşağıda verilen saatlerin okunuşlarını işaretleyelim.



- 01.30  
 02.30




- 04.00  
 12.00




- 22.15  
 11.15




- 07.15  
 06.45



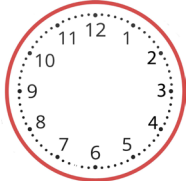
- 15.30  
 04.30



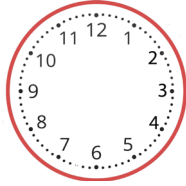
- 12.00  
 17.00

 Aşağıda okunuşları verilen saatleri, akrep ve yelkovanlarını çizerek tamamlayalım.

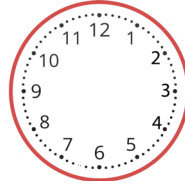
07.45



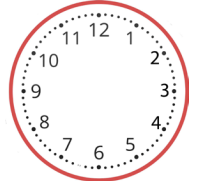
09.00



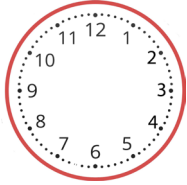
01.15



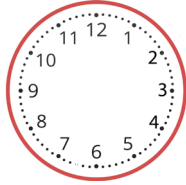
12.30



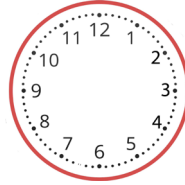
22.45



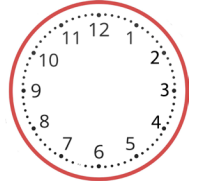
08.00



10.15



02.45



 Aşağıda okunuşları verilen saatleri, dijital saatlerle eşleştirelim.



Saat iki buçuk

Saat dörde çeyrek var

Saat beşi çeyrek geçiyor

Saat on bir

Saat altı buçuk


03.45


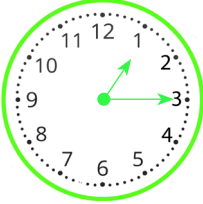

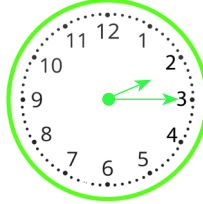
17.15


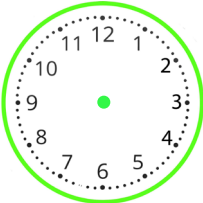

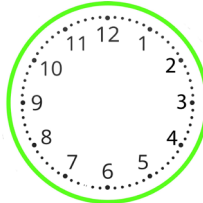
11.00


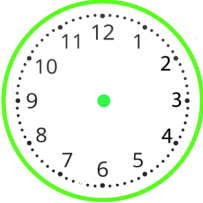

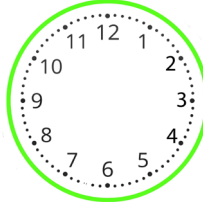
02.30


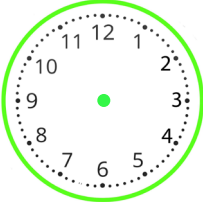

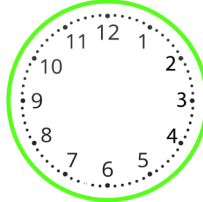
06.30


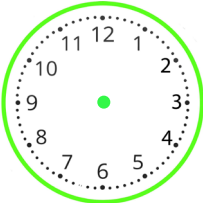

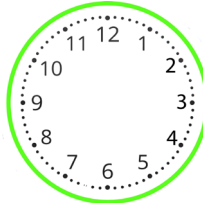
 Dijital saat verilen saatleri analog saat üzerinde belirtelim.  
Belirtilen süre sonrasındaki zaman farkını dijital ve analog saat üzerinde belirtelim.


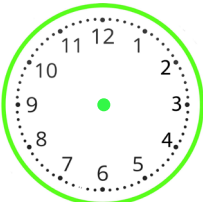

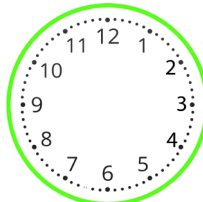
gösterimi   1 saat sonra  gösterimi 

gösterimi   2 saat sonra  gösterimi 

gösterimi   3 saat sonra  gösterimi 

gösterimi   30 dakika sonra  gösterimi 

gösterimi   30 dakika önce  gösterimi 

gösterimi   1 saat önce  gösterimi 



## Bunları Bilelim

☞ Bir yılda dört mevsim vardır. Her mevsimde üç ay vardır.

## İlkbahar



Mart  
Nisan  
Mayıs

## Yaz



Haziran  
Temmuz  
Ağustos

## Sonbahar



Eylül  
Ekim  
Kasım

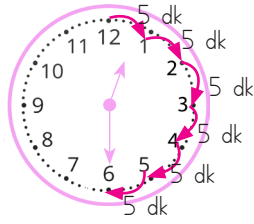
## Kış



Aralık  
Ocak  
Şubat

☞ Bir hafta yedi günden oluşur. Hafta içi; pazartesi, salı, çarşamba, perşembe ve cumadır. Hafta sonu cumartesi ve pazardır.

☞ Bir yıl = 365 gün 6 saat = 12 ay = 52 haftadır.



1 gün = 24 saattir.

1 saat = 60 dakikadır.

Yarım saat = 30 dakikadır.

✎ Aşağıdaki boşlukları dolduralım.

## Haftanın günleri

Pazartesi








Bir gün önce

Pazartesi

Bir gün sonra



Bir gün önce

Çarşamba

Bir gün sonra



Bir gün önce

Cuma

Bir gün sonra



Bir gün önce

Pazar

Bir gün sonra

Aşağıda şemalarda verilen görsellerin hangi mevsime ait olduğunu belirtelim. Bu mevsimin aylarının adlarını yazalım.

İlkbahar

.....

.....

.....

.....

.....

.....

.....

.....

.....

.....

.....

.....

.....

.....

.....

Aşağıdaki takvim yaprağına göre soruları cevaplayalım.

MAYIS						
Pt	Sa	Ça	Pe	Cu	Ct	Pz
		1	2	3	4	5
6	7	8	9	10	11	12
13	14	15	16	17	18	19
20	21	22	23	24	25	26
27	28	29	30	31		

1. Mayıs ayının ilk günü hangi gündür?

.....

2. Mayıs ayının son günü hangi gündür?

.....

3. Mayıs ayının kaçınıcı günleri cumadır?

.....

Aşağıdaki cümleleri okuyalım, doğru olanların başındaki kutucuğu işaretleyelim.

1 gün 23 saattir.  1 yıl 12 aydır.  Yılın ilk ayı şubattır.

1 hafta 7 gündür.  Kış mevsimi 3 aydır.  Yılın son ayı aralıktır.

✏ Aşağıda verilen zaman ifadelerinden birbirine eşit olanları aynı renge boyayalım.

1 ay

52 hafta

2 saat

60 dakika

365 gün

30 gün

1 saat

12 ay

4 hafta


120 dakika

2 hafta


14 gün

✏ Aşağıdaki soruları verilen görsellere göre cevaplayalım.


Uyanma




Okula Gidiş




Okuldan Dönüş




Spor



Akşam yemeği



Uyuma



1. Emre'nin uyanma ve okula gitme saatlerini yazalım.

.....

2. Emre okulda kaç saat kalmıştır?

.....

3. Emre okuldan geldikten iki saat sonra spor yaptığına göre spora başlama saatini akrep ve yelkovan çizerek belirtelim.

.....

4. Uyuma ve uyanma saatleri verilen Emre kaç saat uyumuştur?

.....



Ali saat 14.00'da ders çalışmaya başlamış, 16.00'da çalışmasının bitirmiştir. Ali kaç saat ders çalışmıştır?



Çözüm:



Betül her gün 10 saatini uyuyarak, 6 saatini de okulda geçirmektedir. Betül'ün bir günde kaç saatlik zamanı kalmaktadır?



Çözüm:



Ayşe, bir ayda 20 gün okula, diğer günlerde spora gidiyor. Ayşe, bir ayda kaç gün spora gitmiştir?



Çözüm:



Günde 3 ölçek şurup içen Bengü, şurubunu 2 haftada bitirmiştir. Bengü, kaç ölçek şurup içmiştir?



Çözüm:



Emel 12.30'da okula gidiyor. Beş buçuk saat okulda kaldığına göre eve saat kaçta döner?



Çözüm:



Annem haftada 8 saat spor yapıyor. Buna göre annem ayda kaç saat spor yapar?



Çözüm:



Hasan Bey, her 3 ayda bir doktor kontrolüne gitmektedir. Hasan Bey, yılda kaç kez kontrole gider?



Çözüm:



Can'ın babası hafta içi günde 5 saat çalıştığına göre bir haftada kaç saat çalışır?



Çözüm:

 Aşağıdaki problemleri dikkatle okuyalım. Problem çözme adımlarını uygulayarak soruları çözelim.

1. Bora saat 10.00'da evden çıkıp alışverişe gitmiştir. Eve döndüğünde saat 14.30'u gösterdiğine göre Bora'nın alışverişi kaç saat sürmüştür?



Çözüm:

2. 19.00'da yürüyüşe çıkan Ahmet Bey 1 saat 15 dakika sonra eve dönmüştür. Buna göre Ahmet Bey eve geldiğinde saat kaç gösterir?



Çözüm:

3. Sema 3 hafta 4 gün tatile gitmiştir. Sema kaç gün tatil yapmıştır?



Çözüm:

4. Bir su pompası dört saatte bir yarım saat dinlendirilerek günde 12 saat çalıştırılıyor. Su pompası günde kaç saat dinlenmiş olur?



Çözüm:

5. 09.00 ile 15.00 arası okulda olan Sonay'ın bir haftada okulda geçirdiği zaman kaç saattir?



Çözüm:



Dinî bayramlarımız, dinimizce kutsal sayılan günlerdir. Dinî bayramlarda aile ve akraba ziyaretleri yapılır. Dini bayramlarda yardımlaşma ve dayanışma bağları güçlenir. Ramazan ve Kurban Bayramları olmak üzere iki tane dini bayramımız vardır. Bu bayramlar dinimiz açısından kutsal ve önemli günlerdir.

 Aşağıdaki cümleleri uygun sözcüklerle tamamlayalım.

şeker

arife

özenli

mutluluk

kurban eti

ziyaret

kolonya



Dini bayramlarda sevgi ve ..... artar.



Bayram günü herkes ..... giyinir.



Dini bayramlarda misafirlere şeker ve ..... ikram edilir.



Kurban bayramında kesilen ..... ihtiyacı olanlara dağıtılır.



Ramazan Bayramı'na ..... Bayramı da denir.



Dini bayramlardan bir önceki güne ..... günü denir.



Dini bayramlarda aile büyükleri ..... edilir.

 Aşağıdaki cümlelerden doğru olanlara "D", yanlış olanlara "Y" yazalım.



Dini bayramlarda çocuklara şeker ve harçlık verilir.



Çocuklar bayramları sevmezler.



Bayramlar birlik, beraberlik duygularını geliştirir.



Oruç tuttuktan sonra yapılan bayram kurban bayramıdır.



Dini bayramlar sadece bizim ülkemizde kutlanır.

1.

Adem, babası ..... doktor olmak istiyor.

Verilen cümledeki boşluğa hangi sözcük gelmelidir?

- A. kadar
- B. farklı olarak
- C. gibi

2.

Müdür Bey okula her zaman erken gelir.

Yukarıdaki cümlede hangi sorunun yanıtı yoktur?

- A. Kim?
- B. Niçin?
- C. Nereye?

3. Aşağıdakilerden hangisi çalışmak ile ilgilidir?

- A. Damlaya damlaya göl olur.
- B. İşleyen demir ışıldar.
- C. Sakla samanı gelir zamanı.

4.

Aşağıdakilerden hangisi deyim değildir?

- A. Dost acı söyler
- B. Etekleri zil çalmak
- C. Göze girmek

5.

Aşağıdaki cümlelerin hangisinde sebep - sonuç ilişkisi yoktur?

- A. Yorgun olduğundan erken uyudu.
- B. Hatasını anladığı için özür diledi.
- C. Kardeşim siyah saçlıdır.

6.

Pazar günü köye .....

Verilen cümle hangisi ile tamamlanırsa soru cümlesi olur?

- A. gittik
- B. gidecek misin
- C. gidecekmış

1. Şubat ayı, 4 yılda bir ..... gün çeker.

Yukarıda boş bırakılan yere hangisi gelmelidir?

- A. 29
- B. 90
- C. 31

DÜN	BUGÜN	YARIN
?		Cuma

Yukarıdaki tabloda "?" ile gösterilen yere hangisi yazılmalıdır?

- A. Salı
- B. Çarşamba
- C. Perşembe

3. Aşağıdakilerden hangisi ilkbahar mevsimi ayı değildir?

- A. Nisan
- B. Mayıs
- C. Haziran

NİSAN				2021		
PZT	SA	ÇA	PE	CU	CT	PZ
		1	2	3	4	5
6	7	8	9	10	11	12
13	14	15	16	17	18	19
20	21	22	23	24	25	26
27	28	29	30	31		

4, 5 ve 6. soruları takvime göre cevaplayalım.

4. Ayın altıncı günü hangi gündür?

- A. Pazartesi
- B. Salı
- C. Çarşamba

5. "23 Nisan Ulusal Egemenlik ve Çocuk Bayramı" hangi güne denk gelir

- A. Cuma
- B. Salı
- C. Perşembe

6. Takvim yaprağı hangi ayı göstermektedir?

- A. Çarşamba
- B. Nisan
- C. 2020



1. Aşağıdakilerden hangisi şeker bayramı olarak bilinir?

- A. Ramazan Bayramı
- B. Kurban Bayramı
- C. Çocuk Bayramı







2.  Eş, dost ziyaret edilir.

 Okullar süslenir.

 El öpülür.

 Şiirler okunur.

Yukarıdakilerden hangileri dini bayramlarda karşılaşılan durumlardandır?

- A.  
- B.  
- C.  

3. Aşağıdaki bayramlardan hangisinde komşularımızı ziyaret ederiz?

- A. Okuma Bayramı
- B. Zafer Bayramı
- C. Kurban Bayramı




4. Aşağıdakilerden hangisi dinî bayramlar için yaptığımız hazırlıklardan biridir?

- A. Sınıfı süslemek
- B. Şiir ezberlemek
- C. Kolonya ve şeker bulundurmak

5.

Ramazan Bayramı
Kurban Bayramı
Cumhuriyet Bayramı
Zafer Bayramı

Tablodaki milli bayramlar boyanacaktır. Yukarıdaki tablonun boyalı hali hangisidir?

- A. 
- B. 
- C. 

6. Aşağıdaki ifadelerden hangileri dinî bayramlarımızla ilgilidir?

- A. Büyükler ziyaret edilir.
- B. Sadece ülkemizde kutlanır.
- C. 1 tane dini bayramımız vardır.

## Cevap Anahtarı

### Türkçe

1. C
2. B
3. B
4. A
5. C
6. B

### Matematik

1. A
2. B
3. C
4. A
5. C
6. B

### Hayat B.

1. A
2. B
3. C
4. C
5. C
6. A