

Sınıf Kitaplığı

Merhaba benim adım Sude. Öğretmenimiz, her cuma olduğu gibi hafta sonu okumamız için kitap vermişti. Sınıfımızın kütüphanesi oldukça zengindi. Kitaplar sayesinde hem keyifli zaman geçiriyor hem de öğreniyorduk. Bu hafta "Güneş Sistemi" adlı kitabı almıştım. Güneş, Dünya ve gezegenler hakkında birçok bilgi öğrenmiştim. Gelecek hafta okuyacağım kitabı heyecanla bekliyordum.

1, 2 ve 3. soruları metne göre cevaplayalım.

1. Öğretmenleri kitabı hangi gün veriyormuş?

- A. Pazar
- B. Salı
- C. Cuma


2. Sude'nin bu hafta aldığı kitabın adı nedir?

- A. Güneş Sistemi
- B. Dünya ve Güneş
- C. Gezegenler


3. Metnin başlığı aşağıdakilerden hangisidir?

- A. Kitaplar Dostumuz
- B. Sınıf Kitaplığı
- C. Kitap Okumanın Faydaları.

4. Hangisinin adında daha çok harf vardır?



5.



Yukarıdaki sözcükler harf sırasına göre sıralanırken bir yerde hata yapılmıştır.

Hangi iki sözcüğün yeri değiştirilirse hata düzeltilmiş olur?

- A. pişman
üzgün B. pişman
hatalı
- C. üzgün
hatalı

6.



Alfabetik sıralamada yukarıdaki sayılara karşılık gelen harfleri yan yana yazdığımızda oluşan sözcük aşağıdakilerden hangisidir?

- A. erik
- B. elma
- C. eski

7. Aşağıda verilen varlıkların hangisinde sessiz (ünsüz) harf sayısı diğerlerinden fazladır?

A.



B.



C.



8. Yukarıda verilen heceler ile aşağıdaki sözcüklerden hangisi yazılmaz?

- A. zimba
- B. lazım
- C. bazı

Soruya Gel!

9.

Mert aşağıda verilen sözcüklerden bir heceli olanları sarı kovaya, iki heceli olanları mavi kovaya, üç heceli olanları pembe kovaya atacaktır.



- | | | |
|----------|----------|--------|
| •etek | •hava | •börek |
| •at | •arkadaş | •muz |
| •lokanta | •dost | •saat |



Yukarıda anlatılan ifadeye göre en az sözcük olan kova ile en fazla sözcük olan kova aşağıdakilerden hangisinde doğru olarak verilmiştir?

A.



B.



C.



10.



Aşağıda verilen sözcüklerden hangisi yukarıda verilen görselin ikinci hecesiyle başlar?

- A. nota
- B. kayak
- C. yatak

11. Damlaya damlaya göl olur.

Yukarıdaki atasözünde kaç hece vardır?

- A. 9
- B. 10
- C. 11

12.



Ayça'nın söylediği kelimelerin zıt anlamlıları sırasıyla hangi seçenekte verilmiştir?

- A. Genç - kuru - geç
- B. Yaşlı - kuru - zaman
- C. Genç - yaş - geç

13.

kolay

yavaş

hızlı

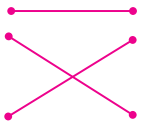
zor

taze

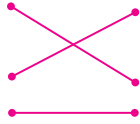
bayat

Yukarıdaki zıt anlamlı sözcükleri eşleştirirsek hangi şekli elde ederiz?

A.



B.



C.



15.

acı

tatlı


Yukarıdaki sözcükler arasındaki anlam ilişkisi aşağıdaki sözcüklerin hangisinde vardır?

A. yaşlı ihtiyar

B. kirli temiz

C. rüya düş

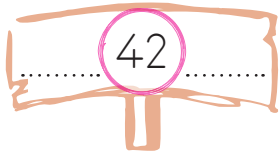
1.



Yukarıda verilen çiçeklerin sayısı aşağıdakilerden hangisine eşittir?

- A. 18 B. 19 C. 20

2.



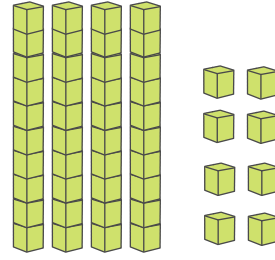
Yukarıda verilen sayıdan önce ve sonra gelen sayılar aşağıdakilerden hangisinde verilmiştir?

- A. 41 - 43
B. 40 - 43
C. 41 - 44

3. Aşağıda okunuşları verilen sayıların hangisinde yanlışlık yapılmıştır?

- A. 34 → kırk üç
B. 27 → yirmi yedi
C. 62 → altmış iki

4.



Yukarıda onluk ve birliklerle modellenen sayı aşağıdakilerden hangisidir?

- A. B.
C.

5.




Yukarıdaki muzları bir desteye tamamlamak için kaç tane muz eklenmelidir?










- A. B.
C.

Soruya Gel!

6.



Ezgi boyama kitabında yan yana verilen nesnelere boyayacaktır. Kurbağa ve tilkileri bir desteye, aslanları ise bir düzineye tamamlamak isteyen Ezgi'nin boyaması gereken kurbağa, tilki ve aslan sayısı kaçtır?

- A.  8  9  10
- B.  7  8  11
- C.  7  9  10


7.






Yukarıda verilen simitlerin sayısı ile ilgili aşağıdaki ifadelerden hangisi doğrudur?

- A. Onlar basamağındaki rakam 1'dir.
- B. 1 desteden 8 fazladır.
- C. 1 düzineden 7 fazladır.

8.



Görseldeki arıların sayısını en yakın hangi çocuk tahmin etmiştir?

- A.  25
- B.  28
- C.  34

9. 37 sayısının onlar basamağındaki rakam 3, birler basamağındaki rakam 1 artırıldığında oluşan sayının onluk ve birliklerine ayrılmış hali hangisi olur?

- A. 7 onluk, 8 birlik.
- B. 4 onluk, 9 birlik.
- C. 6 onluk, 8 birlik.

10. 76 sayısındaki 7 rakamının basamak değeri aşağıdakilerden hangisidir?

- A. 70
- B. 7
- C. 60

11.



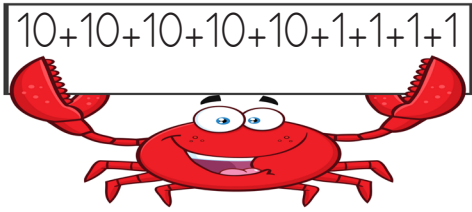
86 sayısındaki rakamların basamak değerleri hangi seçenekte doğru verilmiştir?

A. $\begin{array}{r} 8 \quad 6 \\ \rightarrow 60 \\ \rightarrow 8 \end{array}$

B. $\begin{array}{r} 8 \quad 6 \\ \rightarrow 6 \\ \rightarrow 80 \end{array}$

C. $\begin{array}{r} 8 \quad 6 \\ \rightarrow 6 \\ \rightarrow 8 \end{array}$

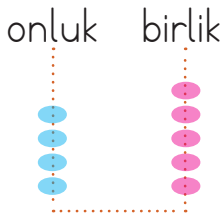
12.



Yukarıda çözümlenişi verilen sayı aşağıdakilerden hangisidir.

A. 44 B. 34 C. 54

13.



Yukarıdaki abaküsün birliklerinden 2 boncuk alınıp onluklara aktarılıyor. Bu durumda hangi sayı elde edilir?

A. 42 B. 63 C. 51

Soruya Gel
14.


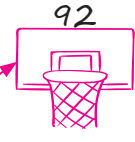
Ege



Can



Arda



Yukarıda isimleri verilen çocukların ellerindeki topu attığı potaya ait bilgilere göre aşağıdaki ifadelerden hangisi yanlıştır?

- A. Ege birler basamağı 9 olan en küçük iki basamaklı sayının olduğu potaya atmıştır.
- B. Can birler basamağı 2 olan en büyük iki basamaklı sayının olduğu potaya atmıştır.
- C. Arda onlar basamağı 9 olan en büyük iki basamaklı sayının olduğu potaya atmıştır.

15. Onlar basamağı 3, birler basamağı 2 olan sayıya bir deste eklenirse sonuç kaç olur?

A. 42 B. 22 C. 32

1. Aşağıdakilerden hangisi fiziksel özelliklerimizdendir.?

A. Gitar çalmayı seviyorum.


B. Yardımsever biriyim.

C. Göz rengim mavi.

2. Aşağıdakilerden hangisi kişisel özelliklerimizden bahsetmektedir?

A.  Biraz kısa boyluyum.

B.  Kitap okumayı seviyorum.

C.  Uzun saçlarım var.

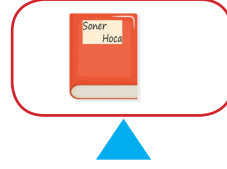
3. Aşağıdakilerden hangisi sınıfta ortak kullanılanlara örnek gösterilemez.

A. 

B. 

C. 

4.



Yukarıda verilenlerden hangileri ders araç gereçlerindedir?

A.   

B.   

C.   

5.



Tüm arkadaşlarıma saygılı davranırım.



Arkadaşımı yeteneğine göre seçerim.



Arkadaşlarım arasında ayırım yapmam.

Yukarıdakilerden hangisinin davranışı yanlıştır?

A. 

B. 

C. 

6. Başarılı olmak için çalışmalıyız.

Yukarıdaki cümlede noktalı yere aşağıdakilerden hangisi gelmelidir?

- A. sürekli
B. planlı
C. akşam

7. Batuhan esmer ve kiloludur. Esra sarışın ve uzun boyludur. Yukarıdaki açıklamalar çocuklar arasındaki hangi farklılığı açıklamaktadır?

- A. Fiziksel
B. Duygusal
C. Yetenek

8.



Yukarıdaki araç gereç hangi dersle ilgilidir?

- A. Türkçe
B. Matematik
C. Görsel Sanatlar

9. Aşağıdaki ifadelerden hangisi yanlıştır?

- A. Resim defteri her zaman çantamızda olmalıdır.
B. Okul çantamız ağır olmamalıdır.
C. Okul çantamızı ders programına göre hazırlamalıyız.

10.

1. Ders	TÜRKÇE
2. Ders	TÜRKÇE
3. Ders	HAYAT BİLGİSİ
4. Ders	MATEMATİK
5. Ders	SERBEST ETKİNLİK
6. Ders	MÜZİK

Yukarıda pazartesi gününün ders programı verilmiştir. Ahmet bu programa göre kaçınıcı ders flüt çıkarmalıdır?

- A. 2. ders
B. 4. ders
C. 6. ders

1.



Görseldeki hayvan hangisidir?

- A. zebra
- B. gorilla
- C. kangaroo

2.



Aşağıdakilerden hangisi yukarıdaki görselin son harfi ile başlar?

- A. milkshake
- B. train
- C. laptop

3. A: What is that?


B: That is a



Verilen görsel göre noktalı yere hangisi yazılmalıdır?

- A. ice cream
- B. milkshake
- C. radio

4.



Yukarıda verilen görselde eksik olan şey hangisidir?

- A. train
- B. wagon
- C. taxi

5.



Yukarıdaki görsellerin ilk harflerini kullanarak hangi kelimeyi elde ederiz?

- A. cafe
- B. judo
- C. cake