

SİNEK KUŞU

Sinek kuşları dünyanın en küçük kuşlarıdır. Ayrıca en hızlı kanat çırpma kuşlarıdır. Hızlı kanat çırpışları için kanatlarını göremeyiz. Uzun, iğne gibi gagaları vardır. Çiçeklerin içindeki sıvıyı gagaları sayesinde alabilirler.



1 ve 2. soruları metne göre cevaplayalım.

1. Aşağıdakilerden hangisi sinek kuşları ile ilgili değildir?

- A. Hızlı kanat çırpmaları
- B. Çok küçük olmaları
- C. Kalın gagalarının olması

2. Çiçeklerin içindeki sıvıyı nasıl alırlar?


- A. Gagaları sayesinde
- B. Kanatları ile
- C. Kuyruğu sayesinde

3. Aşağıda resmi verilen varlıklardan hanginin adı sesli harfler başlar?

A.




B.



C.



4.



Yukarıdaki heceler kullanılarak aşağıdaki hangi sözcük yazılamaz?

- A. traktör
- B. mantar
- C. orman

5.

şüphe



sağlık



sihhat



kuşku



nehir

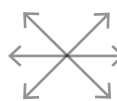


ırmak

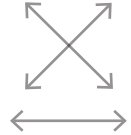


Yukarıdaki sözcükler eş anlamlıları ile eşleştirilirse hangi şekil elde edilir?

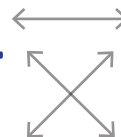
A.



B.



C.



6. pahalı →
zengin →
hafif →
sIVI →

Bulmacadaki sözcüklerin zıt anlamları kutucuklara yazıldığında sarı bölümdeki harfler hangi sözcüğü oluşturur?

- A.uslu B.ufak C.ucuz

7.  taze kısa kırmızı
dört ekşi dar

Tablodaki sözcüklerden "elma" sözcüğünün özelliklerini belirtmek için kullanılanlar boyandığında hangi sözcükler dışarıda kalır?

- A. kısa B. ekşi C. kısa
dört dar dar

8. "Babam eve heyecanla geldi." cümlesiyle ilgili olarak verilen;

Gelen kişi bellidir.

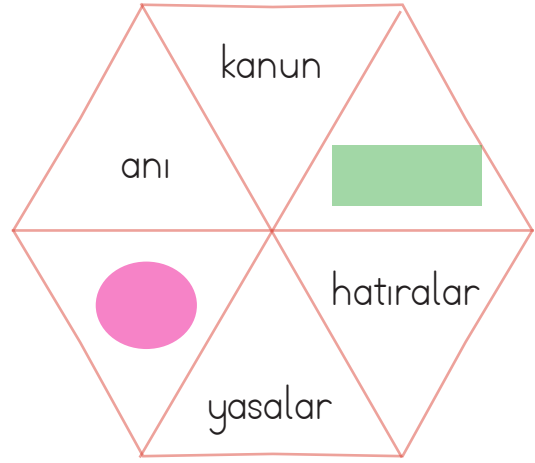
Nereye geldiği bellidir.

Nereden geldiği bellidir.

ifadelerinden hangisi yanlıştır?

- A. B. C.

9. SORUYA GEL



Yukarıdaki sözcükler belli bir kurala göre dizilmiştir. Verilen kurala göre renkli kısımlara hangi sözcükler yazılamaz?

- A. Kelime - Sözcükler
B. Kent - Şehirler
C. Ceza - Ödüller

10. Bu kolyeyi Soner'e, şu kazağı Ecem'e aldım.

Yukarıdaki cümlede tür adı ve özel ad olan sözcüklerin cümle içindeki sırası hangi seçenekte verilmiştir?

- | | <u>Tür adları</u> | <u>Özel adlar</u> |
|----|-------------------|-------------------|
| A. | 2, 5 | 3, 6 |
| B. | 2, 3 | 5, 6 |
| C. | 1, 4 | 3, 6 |

11. ● Ambulans geldi.
▲ Kaza oldu.
■ Yaralıyı ameliyata aldılar.
Yukarıdaki cümlelerin oluş sırasına göre sıralanması hangi seçenekte ifade edilmiştir?




- A. ● ▲ ■
B. ▲ ● ■
C. ▲ ■ ●

12. ○ Herşeyi çantama koydum.
○ Ankara'ya hızlı trenle gittik.
○ Rauf amca yalnız yaşardı.
○ Çarşamba günü hava yağışlı.
Yukarıdaki cümlelerde yazım yanlışı yapılan cümlelerin başındaki kutucuk kırmızıya, yazım yanlışı yapılmayanlar maviye boyandığında hangisi doğru olur?

- A. ● ● ● ●
B. ● ● ● ●
C. ● ● ● ●

13. Dedem() ninem ve teyzem
Trabzon()da yaşıyorlar()
Yukarıdaki cümlede kullanılması gereken noktalama işaretleri hangi seçenekte verilmiştir?

- A. , , ? B. , ' ?
C. , ,

14.  Bir elin nesi var, iki elin sesi var.
Adem
 Bugünün işini yarına bırakma.
İpek
 Birlikten kuvvet doğar.
Nedim

Yukarıda isimleri verilen çocuklardan hangileri aynı konulu atasözlerini söylemişlerdir?

- A. İpek, Adem
B. Adem, Nedim
C. Nedim, İpek

15. Aşağıdaki öğrencilerden hangisi "yüz" kelimesini "surat, çehre" anlamında kullanmıştır?

- A.  Sınavdan yüz aldım.

- B.  Havuzda yüzdüm.

- C.  Yüzümde sivilce var.

1.

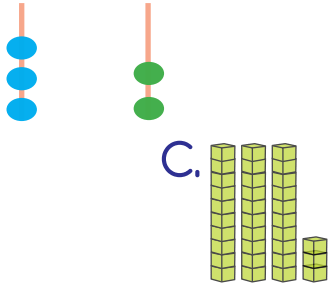


Vazoda verilen çiçek sayısı için aşağıdakilerden hangisi söylene-
mez?

- A. 1 düzineden 9 eksiktir.
B. 7 tane daha çiçek eklenirse bir desteye eşit olur.
C. Bir desteye eşit olması için 10 çiçeğe daha ihtiyaç vardır.

2. Aşağıdakilerden hangisi 33 sayısının gösterilişi değildir?

- A. Onluk Birlik B. $30 + 3$




3.

	4	6	12	16
19	24	8	15	20
17	18	10	14	

Yukarıdaki tavşan 4'er ritmik say-
ma yaparak havuca ulaşacaktır.
Buna göre tavşanın kullandığı yol
hangi seçenekte belirtilmiştir?

- A. B. C.

4.



Yukarıdaki çocuklar satırlarda ve-
rilen sayılardan en büyüğünü
belirleyip yuvarlandığı onluğu boş
bırakılan yere yazacaktır. Çocuklar
etkinliği tamamladığında boş bırakı-
lan yerlerin görünümü nasıl olur?

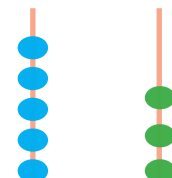
- A. $\begin{matrix} 20 \\ 30 \\ 40 \end{matrix}$ B. $\begin{matrix} 40 \\ 30 \\ 50 \end{matrix}$ C. $\begin{matrix} 40 \\ 50 \\ 30 \end{matrix}$

5. $9 + 16 + 39$ işleminin sonucu hangi
abaküsle ifade edilmiştir?

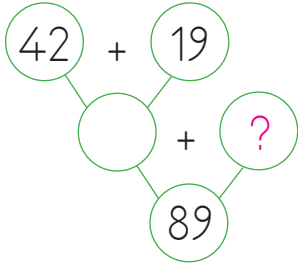
- A. Onluk Birlik B. Onluk Birlik



C. Onluk Birlik



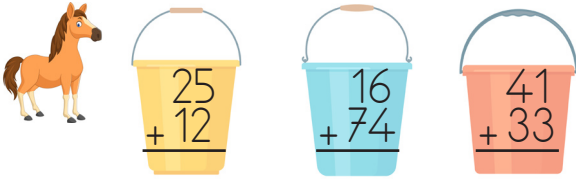
6.



Yukarıdaki şemada soru işareti yazan yere hangi sayı gelmelidir?

- A. 30 B. 29 C. 28

7.



Yukarıdaki at, verilen toplama işlemlerinden tahmini ve gerçek sonucu aynı olan kovadan su içecektir. At hangi kovadan su içer?

- A.  B.  C. 

8.

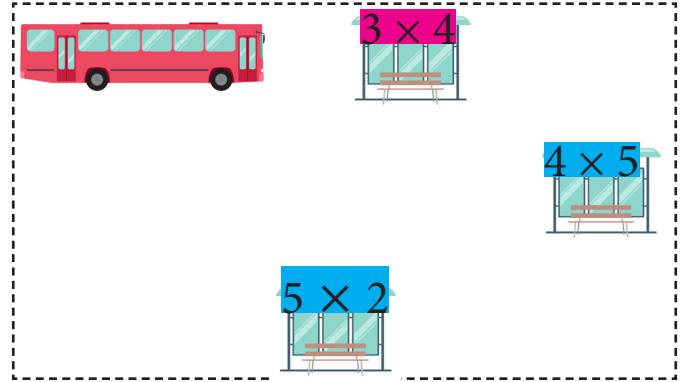
$$62 > A > 43$$

$$B = 24$$

Yukarıdaki ifadeye göre A'nın en büyük değeri için A - B işleminin sonucu kaç olur?

- A. 30 B. 37 C. 47

9. SORUYA GEL






Yukarıdaki otobüste 19 yolcu vardır. Otobüs, durakların üzerinde yazan kırmızı renkle belirtilen çarpma işlemi kadar yolcu indirecek, mavi renkle belirtilen çarpma işlemi kadar da yolcu bindirecektir. Son durumda yolcu sayısı kaç olur?







- A. 41 B. 35 C. 37







10. Ali 89 liranın bir kısmı ile ayakkabı alınca geriye 37 lirası kaldığına göre ayakkabının fiyatı ne kadardır?

- A. 52 B. 43 C. 32


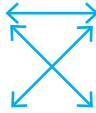

11.  5 geometrik şeklin birleşmesi ile oluşmuştur.
 6 yüzeyi vardır.
 Geometrik cismi oluşturan geometrik şekillerden 2 tanesi üçgendir.



Yukarıdaki ifadelerden hangileri üçgen prizmayla ilgilidir?

- A.  
 B.  
 C.  

12.  
 
 







Aynı kuralı taşıyan örüntüler eşleştirilirse hangi ifade doğru olur?

- A.  B.  C. 

13.  

Tabaklardaki domatesleri aşağıdaki işlemlerden hangisi ile ifade edemeyiz?




- A. $4 + 4$ B. 4×4 C. 2×4

14.   
  

Bulutlardaki işlemlerin sonuçları yağmur damlalarının içinde verilmiştir.

Hangi damlanın içindeki sonuç yanlıştır?

- A.  B.  C. 


15.  5 TL  2 TL
 3 TL

Yukarıda sebzelerin kilogram fiyatları verilmiştir. Buna göre 2 kilo biber, 3 kilo patates, 4 kilo soğan alan biri kaç TL öder?

- A. 28 B. 24 C. 30


1. Aşağıdakilerden hangisi ev adresimizde yer almaz?

- A. Kapı numarası
- B. Sokak adı
- C. Telefon numarası

2.  Yardıma ihtiyaç duyan insanlara

Yukarıdaki boşluk hangi ifade ile tamamlanamaz?

- A. yardım etmeliyiz
- B. karşı duyarlı olmalıyız
- C. güvenmemeliyiz

3.  Yemek yerken peçete kullanmalıyız.

Emre'nin ifadesi aşağıdakilerden hangisi ile alakalıdır?

- A. Yemekte görgü kuralları
- B. Beslenmenin önemi
- C. Sağlıklı ve dengeli beslenme

4. İzlemiyorsak televizyonu kapatmalıyız.
- Kalorifer açıkken evi uzun süre havalandırmalıyız.
- Damlayan musluğu hemen tamir ettirmeliyiz.

Yukarıda verilen ifadeleri "doğru, yanlış" olarak değerlendirdiğimizde aşağıdakilerden hangisi oluşur?

- A. D, D, Y
- B. D, Y, D
- C. D, Y, Y




5. Aşağıdaki görsellerden hangisi istektir?



6. Aşağıdakilerden hangisi kişisel bakıma örnek değildir?


- A. Dişlerimizi fırçalamak.
- B. Saçlarımızı taramak.
- C. Çevremize çöp atmamak.


7. Aşağıdakilerden hangisinin davranışı yanlıştır?

- A.  Yemeklerimi vaktinde yemeye özen gösteririm.
- B.  Yemekten önce abur cubur yerim.
- C.  Yemekten önce ellerimi yıkarım.

8. Her semtte bulunan ve aile hekiminin görev yaptığı sağlık kuruluşu hangisidir?

- A. Özel Hastane
- B. Diş hekimi
- C. Sağlık Ocağı

9.  Kış mevsiminde portakal ve mandalina tüketirim.

 Kış mevsiminde bol bol karpuz tüketirim.

 Yaz mevsiminde kiraz, şeftali tüketirim.

Yukarıdakilerden hangileri mevsimine göre beslenmeye uygun ifadelerdir?

A.  

B.  

C.  

10. Aşağıdakilerden hangisi yazın Güneş'in etkisiyle bizi rahatsız eder?

A. 

B. 

C. 

1. Boşluğa gelmesi gereken doğru ifade aşağıdakilerden hangisidir?

A: We play

- A) skip rope
B) hide and seek
C) ride a bike



2. I ride a bike.

Yukarıdaki ifadeyi söyleyen biri aşağıdakilerden hangisini kullanır?


A)



B)



C)



3. Boş bırakılan yere gelmesi gereken ifade hangisidir?


A: Let's

- A) play the guitar
B) slide
C) fly a kite



4. Yandaki boşluğa hangi seçenek gelmelidir?

- A) slide
B) walk
C) jump



5. Yanda verilen ifadede boş bırakılan yeri tamamlayan seçenek aşağıdakilerden hangisidir?

- A) skip
B) swing
C) play

