

RAMAZAN BAYRAMI

Kültürümüzde dini bayramların özel bir yeri vardır. Ramazan Bayramı diğer adıyla Şeker Bayramı her yıl Ramazan ayının sonunda kutlanır. Her bayramda olduğu gibi bu bayramda da, toplum bireyleri arasında kaynaşma ve dayanışma sağlanmış olur. İnsanlar, birlikte hareket etme duygusunu kazanırlar ve bu günlerde imkânlarını başkalarıyla paylaşmaya daha çok özen gösterirler.

1, 2 ve 3. soruları metne göre cevaplayalım.

1. Ramazan Bayramının diğer adı nedir?

- A. Çocuk Bayramı
- B. Dini Bayram
- C. Şeker Bayramı

2. Ramazan Bayramı ne zaman kutlanır?

- A. Ramazan ayı sonunda
- B. Ramazan ayı başlangıcında
- C. İlkbahar başlangıcında

3. Hangisi Ramazan Bayramı'nda yaşanan durumlardan biri değildir?

- A. Dayanışma sağlanmış olur.
- B. İnsanlar arasında paylaşım artar.
- C. Sadece aileler arasında kutlanır.

4. Aşağıdaki sözcüklerden hangisinde satır sonunda yazılırken hata yapılmıştır?

A.



.....bahç-
emizde

B.



.....bahçe-
mizde

C.



.....bah-
çemizde

5.

—	laf - söz
—	zaman - vakit
—	yıl - sene
—	netice -

Verilen sözcükler incelendiğinde noktalı yere hangi sözcük yazılmalıdır?

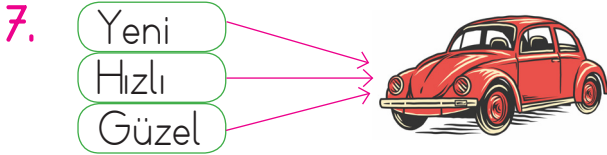
- A. verim
- B. sonuç
- C. ilk

6.

Adlar	Özel	Cins	Tekil	Çoğul
İzmir	✓		✓	
Elmalar		✓		✓
?	✓			✓

Yukarıdaki tabloda "?" ile belirtilen yere hangisi yazılabilir?

- A. Köyler B. İstanbul
C. Adanalılar



Yukarıdaki şemada özellik belirten sözcüklerin yerine zıt anlamlıları yazılırsa şema nasıl olur?

- A. Eski B. Eski C. Yaşlı
Yavaş Süratli Yavaş
Çirkin Çekici Sade

8. Ödevlerimi aksatmadan yaparım. → Çünkü → ?

Yukarıdaki cümle hangisi ile tamamlanırsa yanlış olur?

- A. Sorumluluklarımların farkındayım.
B. Derstlerimden geri kalamam.
C. Okul takımına girmek isityorum.

9. SORUYA GEL



1	Ali	İzmirli	Okul
	Masa	Kalemler	Sude
	Elma	Ankara	Can
	Defter	Silgi	Kuşlar

Yukarıdaki karınca 1. kutudaki sözcükten başlayarak aşağıdaki kurala göre hareket edecektir; Bulunduğu sözcük özel isimse birbirim aşağı, tür adı ise bir birim sağa hareket edecektir.

Buna göre karınca 5. hamlesinde hangi sözcüğün üzerinde olur?

- A. Silgi B. Kuşlar C. Can

10. Aşağıdaki cümlelerin hangisinde varlığın özelliğini belirten sözcük yoktur?

- A. Babam çanta aldı.
B. Abim sarı beresini bana verdi.
C. Öğretmenim zor sorular sordu.

11.

Aydınd'an	Esmâ'nın
Balıkesir'e	Serhani'in

Yukarıdaki tablodan kesme işare-
tinin yanlış kullanıldığı bölümleri
çıkarırsak nasıl görünür?

- A. B.
- C.

12.

Kiraz(1) muz(2) erik(3) al-
dım.

Yukarıdaki cümlede numaralandı-
rılmış yerlerin hangisinde, virgül
kullanılmalıdır?

- A. 2, 3
B. 1, 2
C. 1, 2, 3

13. Hangi cümlede yazım yanlışı
vardır?

- A. Parka gidelim mi?
B. Gül Sokaktamı oturuyorsun?
C. Tiyatroya gelecek misin?

14.



Bazı hayvanlar evcildir,
..... kedi, köpek,
kuş.

Bu cümlede boş bırakılan yere
gelecek destekleyici ve açıklayıcı
ifade hangisidir?

- A. örneğin B. gibi
C. veya

15.

Ben küçücük bir ağacım
Yurdumun bir bahçesinde,
Topraklar tüterken görün,
Dallarım çiçeklesin de.

Her şeyimle yararlıyım,
İnsanoğluna dünyada,
Çiçeğim, yaprağım, gölgem
İri dallı zerdalimle. Halim Yağcıoğlu

Yukarıdaki şiir için hangisi söyle-
nemez?

- A. İki kıtadan oluşmuştur.
B. Konusu ağacın faydaları.
C. Dokuz dizeden oluşmuştur.

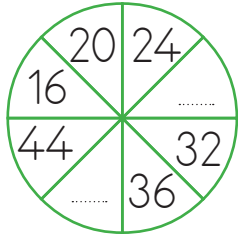
1.



Torbadaki sayıları kullanarak yazılabilecek en küçük iki basamaklı sayı hangisidir?

- A. 15
B. 10
C. 1


2.



Yukarıdaki sayılar bir örüntü oluşturduğuna göre noktalı yerlere gelmesi gereken sayıların toplamı kaçtır?

- A. 68 B. 76 C. 80

3.



Yukarıda verilen kalemlere kaç kalem daha eklersek 1 düzineden 6 fazla kalem elde ederiz?

- A. 14 B. 12 C. 10

4.



$$39 + 23$$



$$17 + 73$$



$$26 + 62$$

Ahmet Bey toplama işlemi tahmini ve gerçek sonucu aynı olan işlemin belirttiği arabayı alacaktır. Buna göre Ahmet Bey hangi arabayı alır?

A.




B.



C.



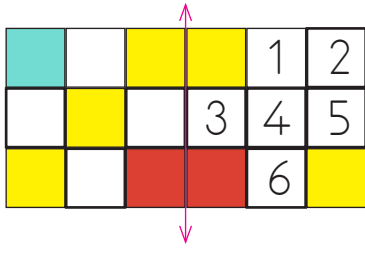
5.



Yukarıda verilen çıkarma işleminde eksilen sayı 70'e yuvarlanan en küçük sayı ise çıkan sayı kaçtır?

- A. 40 B. 41 C. 45


6.



Yukarıdaki şeklin simetrik olması için kaç numaralı kutuların boyanması gerekiyor?

A. 2, 4 B. 1, 5, 3 C. 2, 4, 6

7.



6 limon ve 4 bardak su ile 1 sürahi limonata yapılıyor. Buna göre 3 sürahi limonata için gereken su miktarı (bardak sayısı) ile limon sayısının toplamı kaçtır?

A. 30 B. 32 C. 28

8. Aşağıdakilerden hangisi çember modeline bir örnek oluşturabilir?



9. SORUYA GEL



Yukarıdaki mumlar 30 dakika aralıkla yakılıyor ve her mum 15 dakikada tükeniyor.

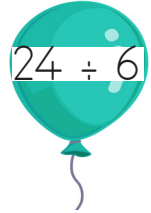
1. sıradaki mumun yakılma saati verildiğine göre 2 ve 3 numara ile belirtilen mumlar hangi saatte tükenir?

A. 10:40 - 10:30

B. 09:40 - 09:50

C. 10:15 - 10:45

10.









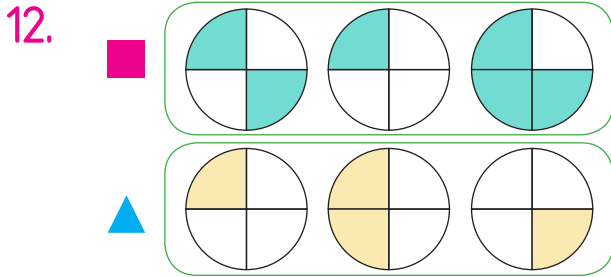
Yukarıdaki balonlar üzerinde verilen işlemlerden hangisinin sonucu diğerlerinden farklıdır?







11.	Tamamı	Yarısı	Çeyreği
			

Tabloda sembollerle gösterilen yerlere kaç elma çizilmelidir?

- A.  — 12  — 6
 B.  — 9  — 3
 C.  — 6  — 4



Yukarıda ifadelerle ilgili verilenlerden hangisi yanlıştır?

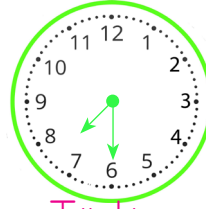
- A.  , 3 yarımdan oluşmuştur.
 B.  , 1 bütünden oluşmuştur.
 C.  ve  birbirine eşittir.

13. Suat saat yedide kitap okumaya başladı. Kitabı kırk beş dakika okudu.

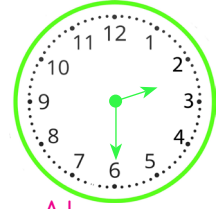
Suat kitap okumayı saat kaçta bitirmiştir?

- A. 09:45
 B. 07.45
 C. 10:30

14. Aşağıda iki ülkenin aynı zamandaki saatleri verilmiştir.



Türkiye



Almanya

Buna göre iki ülke arasındaki zaman farkı nedir?

- A. Beş saat
 B. Dört buçuk saat
 C. Beş buçuk saat

15.

Bir yıl: ay
 Bir ay: hafta
 Bir hafta: gün




Yukarıda verilen tabloda noktalı yerlere sırası ile hangi sayılar yazılmalıdır?

- A. 12 - 7 - 4
 B. 7 - 12 - 4
 C. 12 - 4 - 7

1. "Yemeğe domates koyalım, bu mevsimde hem taze hem de lezzetli olur" diyen birinin hangi mevsimde olduğu söylenebilir?

- A. Kış
- B. Yaz
- C. İlkbahar

2. Aşağıdaki ulaşım araçlarından hangisi ile uzun bir seyahat yapmamız uygun olmaz?

- A. 
- B. 
- C. 

3. Ulaşım; insanların bir yerden başka bir yere gitmesidir. Buna göre ulaşım araçlarının genel adı nedir?

- A. Taşıt
- B. Araba
- C. Otobüs

4.



Komşumuz Hasan amca yaşlı ve kendine bakmakta zorluk yaşıyor.

Yaşlı komşularının bakımı ile zorluk yaşadığını gören Esmâ hangi kurumu arayarak yardım isteyebilir?

- A. Sosyal Destek Hattı - 183
- B. Polis İmdat - 155
- C. Afad - 122

5.



Teknolojik aletleri yeni aldığımızda mutlaka bakmalıyız.

Yukarıdaki ifadede boş bırakılan yere hangisi yazılmalıdır?




- A. Üretildiği ülkeye
- B. Kullanıcı yorumlarına
- C. Kullanma kılavuzuna

6. ■ Bir büyükten yardım istemeli-
dirler.
▲ Hemen koşup topu almalıdırlar.
● Varsa yedekteki topları ile
oyuna devam etmelidirler.

Oyun alanının dışına topu kaçan
çocukların hangi davranışı tehlikeli
olur?

- A. ● B. ▲ C. ■

7. Milli bayramlarımızla ilgili ifadeler-
den hangisi yanlıştır?

- A.  Milli bayramlarımızı mil-
letçe coşkuyla kutlarız.
B.  Dini bayramlarda akraba-
larımızı ziyaret ederiz.
C.  Ramazan Bayramı milli
bayramlarımızdandır.

8. Ülkemizin kuzey, güney ve ba-
tısında bulunan denizler hangi
seçenekte doğru yazılmıştır?

Kuzey Güney Batı

- A. Karadeniz Akdeniz Ege
B. Akdeniz Ege Karadeniz
C. Akdeniz Karadeniz Ege

9.



Mustafa Kemal Atatürk çocukluk
yıllarında, biriktirdiği parasının
yarısı ile kitap aldığını anılarında
anlatmıştır.

Buna göre Atatürk'ün çocuklu-
ğu ile ilgili hangisi söylenebilir?

- A. Çok parası olduğu
B. Az kitap okuduğu
C. Okumayı çok seven bir
çocuk olduğu

10. Aşağıdakilerden hangisi dini
bayramlara ait bir görsel olabi-
rir?

A.



B.



C.



1. Hangi seçenek doğrudur?

A.



On the table.

B.



In the house.

C.



Under the chair.

2. The are under the car.

Hangisi doğrudur?



A. birds

B. rabbits

C. dogs

3. Boşluğa hangi kelime gelmelidir?

A. bananas

B. cherries

C. pears

I like



4. Betül: watermelon?

Ahmet: No,

Boşluklara hangileri gelmelidir?

A. Do you like / I do. B. Do you like / I don't. C. Do you like / I can

5. Eşleştirmelerden hangisi yanlıştır?

A.




Strawberry

B.



Pear

C.



Melon