

YENİ KOMŞU

Seda, o gece uzun süre uyuyamadı. Çok yalnızım, hiç arkadaşım yok diye düşündü. Seda'nın bu üzüntüsü sabah kahvaltısında da sürdü. Üzgün bir şekilde pencereden dışarıyı seyrederken içi eşya dolu bir kamyon gördü. Kamyon, yanlarındaki apartmanın önüne yanaşmıştı. Adamlar ve ona yardım eden küçük bir kız çocuğu eşya taşıyorlardı. Bir arkadaşı olacağını düşünen Seda, gülümsemeye başlamıştı.

1, 2 ve 3. soruları metne göre cevaplayalım.

1. Seda, gece neden uyuyamamış?

- A. Arkadaşlarını özlediği için
- B. Gece uykusu kaçtığı için
- C. Hiç arkadaşı olmadığı için

2. Seda, üzgün bir şekilde pencereyi seyrederken ne görmüş?

- A. İçi eşya dolu bir kamyon
- B. Dışarıda oynayan çocuklar
- C. Eski komşularını

3. Seda neden gülümsemeye başlamış?

- A. Sabah olduğu için
- B. Okula gideceği için
- C. Bir arkadaşı olacağı için

4.



Yukarıdaki sözcükler sözlük sırasına göre dizildiğinde sıralama nasıl olur?

- A. 3,1,2
- B. 2,1,3
- C. 1,3,2

5.



Yukarıdaki sözcükle ilgili ifadelerden hangisi yanlıştır?

- A. Satır sonunda doğru yazılmıştır.
- B. 3 heceden oluşmuştur.
- C. Dört tane ünlü harfi bulunmaktadır.

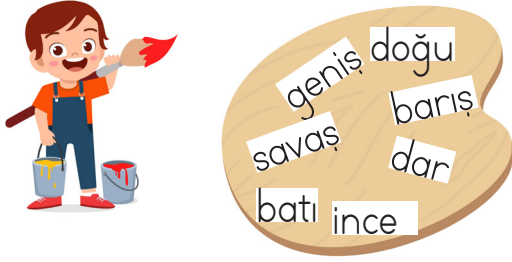
6.



Aşağıdaki cümlelerin hangisinde yukarıda verilen sözcüklerden birinin eş anlamlısı kullanılmamıştır?

- A. Babam, bana yeni ayakkabı aldı.
 B. Sınıf başkanlığı için rey kullandım.
 C. Yaşlı adama yardım ettim.

7.



Emre yukarıda verilen sözcüklerden birbiri ile zıt anlamlı olanları boyayacaktır. Buna göre boşta kalan sözcüğün zıt anlamlısı hangisidir?

- A. kalın B. eski C. yaşlı

8.



Ben soruların tamamını çözdüm.

Yukarıdaki cümleden hangi sözcük çıkarılırsa cümlenin anlamı değişmez?

- A. çözdüm B. soruların C. ben

9. SORUYA GEL



Sema torbadan 2 kart çekip kartta yazan özelliklere göre cümle kuruyor. Alper ise Sema'nın kurduğu cümleyi soru cümlesi yapıyor.




Sema torbadan sarı ve pembe kartları çektiğine göre hangisi Alper'in cümlesi olabilir?

- A. Bahçede top oynamadın mı?
 B. Oynadın mı top bahçede?
 C. Oynamadın mı top bahçede?




10. "Arkadaş" sözcüğü aşağıdaki noktalama işaretlerinden hangisinden sonra büyük harfle başlamaz?

- A. virgöl
 B. nokta
 C. soru işareti

11. Aşağıdaki cümlelerin hangisinde kesme işareti ile ayrılması gereken bir sözcük yoktur?

- A.  Aliye oyuncak aldım.
 B.  Ecenin annesi doktormuş.
 C.  Babam çiçekleri suladı.

12. Aşağıdaki cümlelerden hangisinde yazım yanlışı yapılmıştır?

- A.  Ankara'da çok kar yağmış.
 B.  İzmir de deprem olmuş.
 C.  Adana da sıcakmış.

13.  Akan su yosun tutmaz.

Yukarıdaki cümle için aşağıdakilerden hangisi söylenemez?

- A. Çalışmanın önemini anlatan bir cümledir.
 B. Atasözüdür.
 C. Söyleyeni bellidir.

14.



Emel okuldan geldi,
elini yıkadı, yemek yedi.

Yukarıdaki cümlede iş, oluş, hareket bildiren kaç sözcük vardır?

- A. 3 B. 2 C. 4

15.



Yukarıdaki görselde anlatılmak istenen nedir?

- A. Bütün çöpleri geri dönüşüm kusunna atmalıyız.
 B. Çiçeklere zarar vermemeliyiz.
 C. Çöpleri, çöp kutusuna atmalıyız.

1.	23	72
	2 onluk+3 birlik	7 onluk+2 birlik

56
6 onluk+5 birlik

Yukarıdaki sayılardan hangisi onluk ve birliklerine yanlış ayrılmıştır?

- A. 72 B. 56 C. 23

66	33	51
45	85	77
84	72	25


Kutuların içinde yazan sayılardan aynı onluğa yuvarlananlar boyanacaktır. Buna göre boyanmayan sayı hangisidir?

- A. 85 B. 72 C. 51

3.	18	44
	27	36





Ece yukarıdaki 3 kutuyu kullanarak toplamı 81 olan sayıyı bulmak istiyor. Buna göre Ece'nin kullanmadığı kutunun içindeki sayı kaçtır?

- A. 27 B. 36 C. 44

4.	
	84
	67
	—

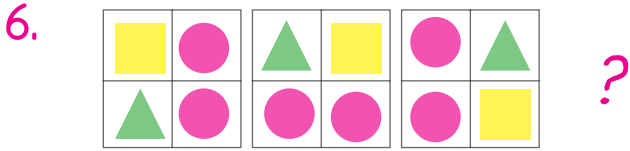
Yukarıdaki çıkarma işleminde gerçek sonuç ile tahmini sonuç arasındaki fark kaçtır?

- A. 4 B. 7 C. 5

5.		=	
		=	

Yukarıdaki sıvı ölçme araçları incelendiğinde bir sürahi su kaç kepçe ile dolar?

- A. 16 B. 24 C. 28


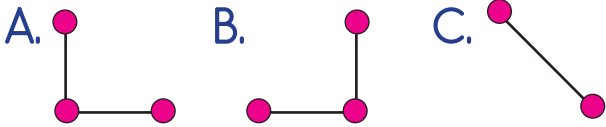


Yukarıdaki geometrik şekiller bir örüntü oluşturmaktadır. Örüntü devam ettirildiğinde en altta bulunan geometrik şekiller hangi seçenekte verilmiştir?

- A. B. C.

- 7.
- $3 \times \dots = 3$ $7 \times \dots = 0$
- $9 \times \dots = 9$ $5 \times \dots = 5$

Yukarıdaki çarpma işleminde verilmeyen sayılardan aynı olanlar eşleştirildiğinde hangisi doğru olur?



Peynirleri farelere eşit olarak dağıttığımızda her fareye kaç dilim peynir düşer?

- A. 6 B. 7 C. 8

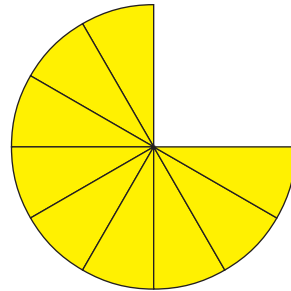
9. SORUYA GEL



Babası, Yusuf'a görseldeki kadar para veriyor. Kardeşleri ile eşit olarak paylaşmasını istiyor. Eşit olarak paylaşmak için sadece 50 lirayı bozdurması gerekiyor. Yusuf, 50 lirayı nasıl bozdurursa eşit paylaşım yapabilir?



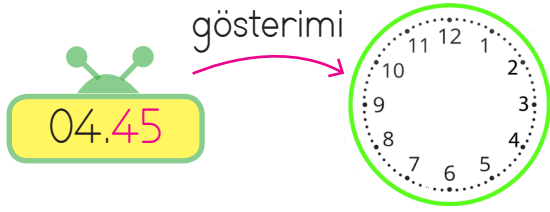
10.



Yukarıdaki pizzanın her dilimi 6 lira olduğuna göre kaç liralık pizza tüketilmiştir?

- A. 18 B. 20 C. 24

11.



Yanda verilen saati çizmek istersek akrep ve yelkovan için hangisi doğru olur?

- A. Akrep 4 ile 5'in arasında, yelkovan 9'un üzerinde olur.
 B. Akrep 4'ün, yelkovan 6'nın üzerinde olur.
 C. Akrep 5'in, yelkovan 9'un üzerinde olur.

12.



Aşağıdakilerden hangisi yukarıda verilen para miktarından daha fazladır?

- A.
 B.
 C.

Otoparktaki taşıt sayısı

Taşıt	Taşıt sayısı
Otomobil	★★★★
Kamyonet	★★
Otobüs	★★★
Motosiklet	★

Her şekil "3" taşıtı temsil etmektedir.

13, 14 ve 15. soruları tabloya göre cevaplayalım.

13. Otoparkta en fazla ve en az bulunan taşıtların farkı kaçtır?

- A. 10
 B. 9
 C. 8

14. Otoparka kaç kamyonet daha gelirse kamyonet sayısı 15 olur?

- A. 9
 B. 10
 C. 11

15. Otobüs ile kamyonet sayısının toplamı otomobil sayısından kaç fazladır?

- A. 5 B. 4 C. 3

1. Zamanının çoğunu teknolojik araçlara ayıran bir çocuk için hangisi söylenemez?

- A. Arkadaşlık ilişkileri zayıflayabilir.
- B. Aile ilişkileri çok güçlü olur.
- C. Göz rahatsızlıkları yaşayabilir.

2.



Merhaba, benim adım Leyla. Ülkemizde savaş çıkınca buraya göç ettik. İlk başta zorlandık ama sonra alıştık.

Hangisi Leyla'nın yaşadığı zorluklardan biri olamaz?

- A. Dil sorunu
- B. Yemek sorunu
- C. Aile içi iletişim sorunu




3. Aşağıdakilerden hangisi İstiklal Marşı'nın özelliklerinden biri değildir?

- A. Şairi Mehmet Akif Ersoy'dur.
- B. 10 kıtadır.
- C. Sadece gençler için yazılmıştır.

4.



Yukarıdaki şemadan güvenli oyun alanlarını çıkardığımızda aşağıdakilerden hangisini elde ederiz?

- A. 
- B. 
- C. 

5.

Yardımlaşma, paylaşma artar.

?

Akrabalar ziyaret edilir.

Kolonya ve bayram şekeri ikram edilir.

Yukarıdaki ifadede soru işareti ile belirtilen yere hangisi yazılamaz?

- A. Kurban Bayramı
- B. Ramazan Bayramı
- C. Cumhuriyet Bayramı

6.

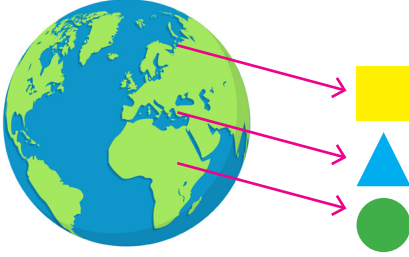


Başkentimize öğretmen olarak atandım. Öğrencilere eğitim vererek ÷lkeme hizmet edeceğim.

Yukarıdaki öğretmenin tayini hangi ilimize çıkmıştır?

- A. İstanbul
- B. Ankara
- C. Adana

7.



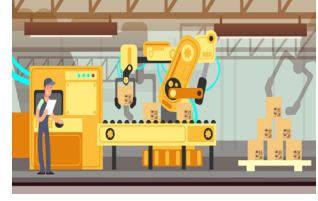

Yukarıda verilen dünya modelinde ÷lkemizin konumu hangi sembolle gösterilmiştir?

- A. ●
- B. ■
- C. ▲

8. Aşağıdaki ÷lkelerden hangisinden ÷lkemize daha az göç gelir?

- A. İtalya
- B. Suriye
- C. İran

9.




Yukarıdaki resimler hangi üretim faaliyeti ile ilgilidir?

- A. Hayvancılık
- B. Tarım
- C. Sanayi

10. Emre'nin, kedisi Pamuk için hangi ihtiyaçları karşılaması önemlidir?

- A. Oyun - Eğitim
- B. Barınma - Beslenme
- C. Gezme - Eğlenme

1.



I am horse.
I

Hangi kelime doğrudur?

- A. can fly
- B. can dance
- C. can run

2.



Monkeys can

Hangi ifade kullanılır?

- A. climb
- B. fly
- C. sing

3.



Yukarıda görseli verilen hayvan hangisidir?

- A. snake
- B. frog
- C. cow

4.

I orange



I cherry



Boşluklara hangi kelimeler gelmelidir?

- A. don't like / like
- B. like / don't like
- C. like / like

5.



Aşağıdakilerden hangisi doğrudur?

- A. three yellow bananas
- B. two green apples
- C. four yellow bananas