

ASLI'ININ EN SEVDİĞİ DERS

Aslı pazartesi sabahı çok mutlu uyandı. Haftanın ilk günüyü ve görsel sanatlar dersi vardı. Diğer dersleri de seviyordu ama resim yapmak, el sanatlarıyla uğraşmak onu bir başka mutlu ediyordu. Aslı ve arkadaşlarının bu haftaki etkinlikleri kalemlik kutusu yapmaktı. Bu kalem kutusu benzerlerinden farklı olarak tümüyle fermuarlar birleştirilerek hazırlanıyordu. Ders sonunda renge- renk kalemlik hazırды.

1, 2 ve 3. soruları metne göre cevaplayalım.

1. Aslı'yı en çok mutlu eden ders hangisiymiş?

- A. Matematik
- B. Türkçe
- C. Görsel sanatlar

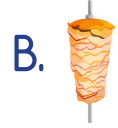
2. Aslı ve arkadaşları hangi etkinliği yapmışlar?

- A. Kalem kutusu
- B. Serbest etkinlik
- C. Kara kalem çalışmaları

3. Aslı ve arkadaşları etkinlik için hangi malzemeyi kullanmışlar?

- A. Renkli kağıtlar
- B. Fermuarlar
- C. Boya kalemleri

4. Hangisinin adında daha çok harf vardır?



5.



Yukarıda verilen sözcük için aşağıdakilerden hangisi söylenemez?

- A. Harf sayısı 8'dir.
- B. 3 heceden oluşmaktadır.
- C. Ünsüz harf sayısı 4'tür.

6.



Alfabetik sıralamada yukarıdaki sayılara karşılık gelen harfleri yan yana yazdığımızda oluşan sözcük aşağıdakilerden hangisidir?

- A. Roka
- B. Toka
- C. Soda

7. Aşağıda verilen sözcüklerin hangisinde sesli (ünlü) harf sayısı diğerlerinden fazladır?

- A.  kalemlik
- B.  ilkokul
- C.  bilgisayar

8. Aşağıda verilen sözcüklerden hangisinin hece sayısı yanlış verilmiştir?

- A.  cevap (3)
- B.  yatak (2)
- C.  nota (2)

Soruya Gel 😊

9.

Suat



Benim yaşadığım ilin, son hecesi iki seslidir.

Seda



Benim yaşadığım il, 4 hecelidir.

Ela



Benim yaşadığım ilin ilk hecesi alfabemizin 11 ve 29. harflerinden oluşmaktadır.

Yukarıda anlatılan ifadeye göre Suat, Seda ve Ela'nın yaşadığı iller sırasıyla aşağıdakilerden hangisi olabilir?

- A. Adana, Diyarbakır, İzmir
- B. Adıyaman, Bursa, Muş
- C. Ağrı, İstanbul, Ankara

10. Aşağıda verilen varlıkları oluşturan hecelerden hangisi hem sözcük hem de hecedir?

A.



B.






C.



11.

Annem eve erken geldi.

Yukarıdaki cümlede altılı çizili sözcüğün zıt anlamlısı aşağıdakilerden hangisidir?

- A.  vakit B.  zaman
- C.  geç

12.



Yukarıdaki görseller arasındaki anlam ilişkisi aşağıdaki sözcüklerin hangisinde vardır?

- A. yaş - kuru
B. zaman - vakit
C. yaşlı - ihtiyar

13.

kolay

yıl

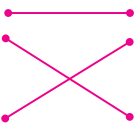
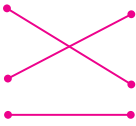
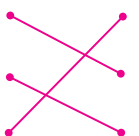
sene

basit

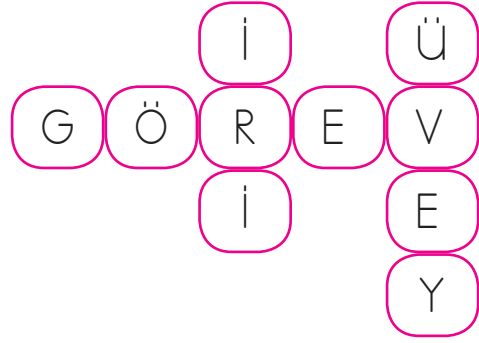
anı

hatıra

Yukarıdaki eş anlamlı sözcükleri eşleştirirsek hangi şekli elde ederiz?

- A. 
- B. 
- C. 

14.



Yukarıdaki bulmacada verilen sözcüklerden hangisinin eş anlamlısı aşağıda verilmemiştir

- A. öz
B. büyük
C. vazife


15.

Mektep, hekim, okul, doktor,
otlak

Yukarıdaki sözcükler eş anlamlılarıyla eşleştirilirse hangisi dışarıda kalır?

- A. mektep
B. hekim
C. otlak

1.



Yukarıda verilen kuşların sayısı aşağıdakilerden hangisine eşittir?

- A. 18 B. 19 C. 20

2.



Yukarıda verilen sayıdan önce ve sonra gelen sayılar aşağıdakilerden hangisinde verilmiştir?

- A. 54 - 55
B. 55 - 57
C. 55 - 58

3. Aşağıda okunuşları verilen sayıların hangisinde yanlışlık yapılmıştır?

- A. 54 → kırk beş
B. 63 → altmış üç
C. 82 → seksen iki


4.



Aşağıda okunuşları verilen sayılardan hangisinin onluk-birlik şeklinde yazılışı yukarıda verilmemiştir?

- A. Otuz beş
B. Yirmi üç
C. Otuz iki

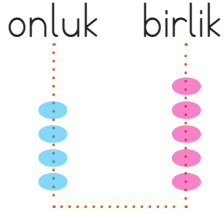
5.



Yukarıdaki balıkların sayısı ile ilgili aşağıdakilerden hangisi söylenemez?

- A. Bir desteden 7 fazladır.
B. 1 onluk 7 birlikten oluşur.
C. Bir düzineden 6 fazladır.

6.



Abaküste gösterimi yapılan sayının basamak değerleri toplamı aşağıdakilerden hangisidir?

A.



B.

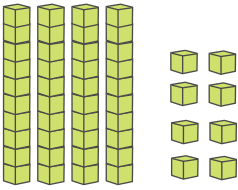


C.

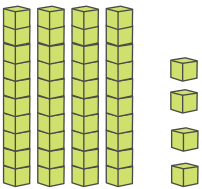


7. 23 sayısının onlar basamağındaki rakam 2, birler basamağındaki rakam 1 artırıldığında oluşan sayının onluk ve birliklerine ayrılmış hali hangisi olur?

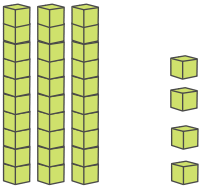
A.



B.



C.



8.



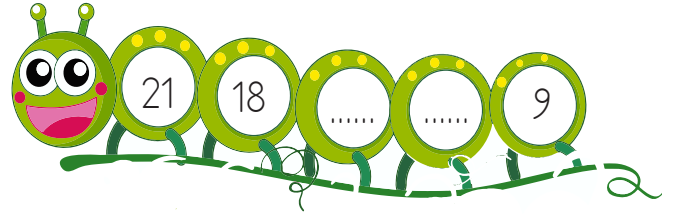
Yukarıda verilen sayıdan başlayarak ileriye doğru beşer ritmik sayarken söylediğimiz sekizinci sayı, kaç onluk kaç birlikten oluşur?

A. 3 onluk, 0 birlik.

B. 4 onluk, 0 birlik.

C. 5 onluk, 5 birlik.

9.



21'den başlayarak geriye doğru üçer ritmik sayma yaparken aşağıdaki sayılardan hangisini söylemeyiz?

A. 16

B. 15

C. 12

10. 84 sayısındaki 8 rakamının basamak değeri aşağıdakilerden hangisidir?

A. 80

B. 8

C. 40

11.



Yukarıda verilen sayı örüntüsü için aşağıdakilerden hangisi söylenemez?

- A. Üçer azalmıştır.
- B. Örüntü devam ettirilirse sıradaki sayı 27 olur.
- C. 6. sırada söylenecek sayı 25'tir.

12. Aşağıdaki sayı örüntülerinden hangisi farklı bir kurala göre dizilmiştir?

- A. 21 24 27 30 33
- B. 42 45 48 51 54
- C. 12 16 20 24 28

13.



Yukarıdaki sayı örüntülerinde kuralı bozan sayı aşağıdakilerden hangisidir?

- A. 29
- B. 34
- C. 22

Soruya Gel
14.



Ege

3'ten başlayıp 42'ye kadar üçer ritmik saydım.



Efe

Ege'nin söylediği 4. sayıdan başlayarak 32'ye kadar dörder ritmik saydım.



Ela

Efe'nin söylediği 3. sayıdan başlayarak 50'ye kadar beşer ritmik saydım.

İsimleri verilen çocuklar yukarıdaki açıklamalara göre ritmik sayma yapmışlardır. Ege, Efe ve Ela'nın söylediği 2. sayılar sırasıyla aşağıdakilerden hangisidir?

- A. 6 - 12 - 35
- B. 6 - 16 - 25
- C. 9 - 20 - 30

15.






Yukarıdaki örüntüde "?" yazan yere hangi sayı gelmelidir?

- A. 11
- B. 12
- C. 13




1. Aşağıdaki çocuklardan hangisi kendini tanıtan bilgilere yer vermiştir?

- A. Annemi çok seviyorum.
- B. Dün sinemaya gittik.
- C. Adım Soner, 8 yaşındayım.

2. Aşağıdakilerden hangisi kişisel özelliklerimizden bahsetmektedir?

- A.  Biraz uzun boyluyum.
- B.  Tenis oynamayı seviyorum.
- C.  Kahverengi saçlarım var.

3. Çantasını hazırlayan Tunar'ın aşağıdakilerden hangisini çantasına koymasına gerek yoktur?




- A.  
- B. 

4. Sevgi matematik dersinde defterinin yanında olmadığını fark etti.

Sevgi bu durumu bir daha yaşamamak için ne yapmalıdır?

- A. Matematik defteri her zaman çantasında olmalıdır.
- B. Matematik dersine girmemelidir.
- C. Çantasını ders programına göre hazırlamalıdır.

5. Sınıfta alınan kararlarla ilgili aşağıdakilerden hangisi doğrudur?

-  Kararları öğretmen tek başına almalıdır.
-  Alınan kararlarda herkesin söz hakkı olmalıdır.
-  Kararları sınıf başkanı almalıdır.

- A.  B.  C. 

6. Aşağıdaki kişisel bakımlardan hangisini tek başımıza yapamayız?

A. Tırnaklarımızı kesmek

B. Dişlerimizi fırçalamak

C. Ellerimizi yıkamak

7. Aşağıdaki çocuklardan hangisinin özel bir yeteneği vardır?



8. Aşağıdakilerden hangisinde okulun adresi tarif edilmiştir?

A. Okulumuz Ova Mahallesi, Yunus Sokak'ta bulunmaktadır.

B. Okulumuz 3 katlı ve mavi renklidir.

C. Okulumuz yolun sonundadır.

9.



Farklı görüşlere göstermeliyiz.

Yukarıdaki ifadede boş bırakılan yere aşağıdakilerden hangisi gelmelidir?

A. sabır

B. saygı

C. dikkat

10.



Enes

Tuna

Yukarıda görselleri verilen çocuklar için aşağıdaki ifadelerden hangisi yanlıştır?

A. Enes Tuna'ya göre zayıftır.

B. Tuna Enes'ten daha kiloludur.

C. Enes ve Tuna'nın boyları aynıdır.

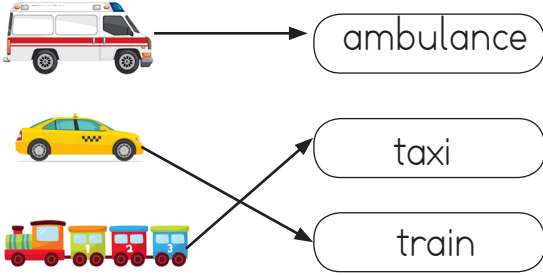
1.



Harfleri karışık olarak verilen sözcüğü ifade eden resim hangisidir?



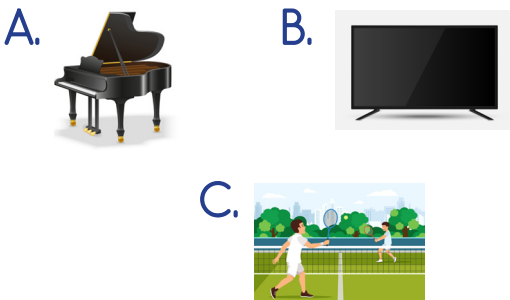
2.



Yukarıdaki eşleştirmelerden kaç tanesi hatalıdır?

- A. 3
B. 1
C. 2

3. Hangisinin ilk harfi farklıdır?



4.



go....dorn.....n....

Verilen görsele göre eksik harfler hangi seçenekte sırası ile verilmiştir?

- A. o, i, m, g
B. o, m, i, g
C. o, m, g, n

5.



..... are you?

I'm great, thanks.



Boşluğa hangisi gelmelidir?

- A. Is
B. How
C. What