

## CUMHURİYET BAYRAMI

Cumhuriyetimizin kurulduğu 29 Ekim tüm ülkede coşkuyla kutlanır. Okullarda sınıflar ve panolar süslenir. Öğrencilerin hazırladığı programla şarkılar söylenir, şiirler okunur. Çocuklar okulda ve sokaklarda ellerinde Türk bayrakları ile dolaşırlar. Yalnızca sokaklarda değil evlerde de al bayrağımız dalgalanır.

1, 2 ve 3. soruları metne göre cevaplayalım.

1. Cumhuriyet Bayramı ne zaman kutlanır?

- A. 19 Mayıs
- B. 23 Nisan
- C. 29 Ekim

2. Okullarda nasıl bir hazırlık yapılır?

- A. Sadece şiir okunur.
- B. Yarışmalar düzenlenir.
- C. Sınıflar, panolar süslenir.

3. Cumhuriyet Bayramı okul dışında nerelerde kutlanır?


- A. Sokaklarda, evlerde
- B. Okul servisinde
- C. Marketlerde

4. Aşağıdakilerden hangisinin isminde daha çok harf vardır?



5. "l" ile "n" arasındaki harf: .....  
"t" ile "ü" arasındaki harf: .....  
"y" harfinden sonraki harf: .....

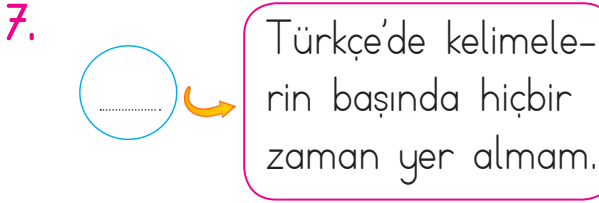
Yukarıdaki noktalı yerlere gelmesi gereken harflerle hangi görselin adını oluştururuz?





Yukarıdaki kelimelerle anlamlı ve kurallı bir cümle oluşturmak istersek hangi iki kelimenin yerini değiştirmemiz gerekir?


- A. küçük - ağaca  
B. kondu - kuş  
C. küçük - kondu





Yukarıda kendini tanıtan harf aşağıdakilerden hangisidir?


- A. S      B. Ğ      C. O

8. Aşağıdaki öğrencilerden hangisi zıt anlamlı kelimeleri bir arada kullanmıştır?

A.  Annemle bahçede oyun oynadık, çok eğlendik.

B.  Okul servisinden inerken dikkatli olmalıyız.

C.  Ak akçe kara gün içindir.



Yukarıdaki kelimeler arasındaki anlam ilişkisi aynıdır. Soru işareti olan yere hangi kelime gelmelidir?

- A. beyaz      B. al      C. mavi

### 10. SORUYA GEL



Ayça, Sude ve Sema arasındaki konuşma aşağıdaki gibidir; Ayça, Sude'ye alışveriş merkezinden neler aldığını sorar. Sude neler aldığını tek tek söyler. Sema da şaşkınlığını ifade eden bir cümle kurar. Yukarıdaki bilgilere göre Ayça, Sude ve Sema'nın kurdukları cümlelere uygun noktalama işaretleri aşağıdakilerden hangisi olabilir?

    Ayça              Sude              Sema    

- A. ?      ,      .  
B. ?      ?      !  
C. ?      ,      !

11. Yarışmada 5( ) mi oldu( )

Aşağıdakilerden hangisi bu cümlede ayraçla belirtilen yerlerin herhangi birinde kullanılamaz?

- A. virgül  
B. nokta  
C. soru işareti

12. Aşağıdaki sözcüklerden hangisi satır sonunda yanlış bölünmüştür?

- A. 

sa-
at

  
B. 

ka-
lem

  
C. 

sal-
ata

13. 

Yaslı adam bankta oturup gazete okuyordu.
---

Tahtadaki cümlede altı çizili sözcüğün yerine hangisi yazılırsa cümlenin anlamı değişmez?

- A. genç  
B. ihtiyar  
C. amca

14. 

	öretmen
	portakal
	sipor
	çare

Kutularla verilen sözcüklerin yazımlarına göre doğru-yanlış olarak sınıflandırılışı hangi seçenekte verilmiştir?

- |    | Doğru | Yanlış |
|----|-------|--------|
| A. |       |        |
| B. |       |        |
| C. |       |        |

15. 


eğitim	penbe
plan	süpriz

Yukarıdaki tabloda yazımı yanlış olan sözcüklerin bulunduğu kutular boyanırsa hangi görüntü oluşur?

- A. 



  
B. 


  
C. 

Yukarıdaki görselde verilen kalemelerin sayısının 25 olması için kaç kalem daha gereklidir?

- A. 6      B. 4      C. 2



Yusuf, defterine çizdiği elmaların sayısını bir desteye tamamlayacaktır. Defterine kaç elma daha çizmelidir?

- A. 2      B. 3      C. 4



Hangi sayının 2 fazlası 1 düzineye eşittir?

Erdi'nin sorusunun yanıtı aşağıdakilerden hangisidir?

- A. 8      B. 10      C. 12

4.

36

Karttaki sayıyı hangi öğrenci onluk ve birliklerine doğru olarak ayırmıştır?



6 onluk  
3 birlik



3 onluk  
6 birlik



3 onluk  
3 birlik










5.



Yukarıdaki sayı örüntüsünün kuralını bozan sayı hangisidir?

- A. 8      B. 12      C. 15

## 6. SORUYA GEL

Yukarıdaki görselde "?" yerine aşağıdakilerden hangisi gelmelidir?

- A.  B.  C. 

7.



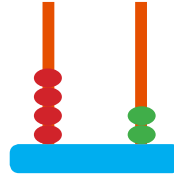
Okan

Okul numaram 54 sayısının en yakın onluğuna eşittir?

Okan'ın okul numarası aşağıdaki işlemlerden hangisinin sonucuna eşittir?

- A.  $\begin{array}{r} 25 \\ +25 \\ \hline \end{array}$  B.  $\begin{array}{r} 37 \\ +23 \\ \hline \end{array}$  C.  $\begin{array}{r} 29 \\ +24 \\ \hline \end{array}$

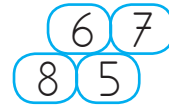
8.



Abaküste gösterilen sayıdan başlayarak ileriye doğru üçer ritmik sayma yapan Harun, 5. saymada hangi sayıyı söyler?

- A. 46 B. 51 C. 54

9.



Aşağıdaki toplama işlemlerinden hangisinin sonucu yukarıdaki bulmacada verilmemiştir?

- A.  $\begin{array}{r} 43 \\ +24 \\ \hline \end{array}$  B.  $\begin{array}{r} 43 \\ +42 \\ \hline \end{array}$  C.  $\begin{array}{r} 33 \\ +33 \\ \hline \end{array}$

10. Onluğa yuvarlandığında "80" sayısını veren en büyük sayı kaçtır?

- A. 86 B. 85 C. 84

## 11. SORUYA GEL

Adem



Seda



Hasan



15		26		24		28	
	14		21		63		52
16		20		33		30	

Yukarıdaki isimleri verilen öğrenciler tombala kartındaki sayıları kullanarak aşağıdaki işlemleri yapmışlardır:

**Adem:** 1. satırda 20'ye yuvarlanan sayıları topladım.

**Seda:** 2. satırda en büyük ve en küçük sayıları topladım.

**Hasan:** 3. satırda beşer ritmik sayarken söylediğimiz sayıları topladım. Buna göre sırasıyla Adem, Seda ve Hasan'ın bulduğu sayılar aşağıdakilerden hangisidir?

A. 40, 77, 60

B. 39, 77, 50

C. 39, 74, 50

12. Aşağıdaki sayılardan hangisi 28'den küçük, 10'dan büyüktür?

A. 30

B. 17

C. 5

13. Kemal bir bilet kuyruğunda baştan dördüncü, sondan sekizincidir. Buna göre bilet kuyruğunda kaç kişi vardır?

A. 11

B. 12

C. 13

14.

9	12	15	■	21
---	----	----	---	----

Yukarıdaki ritmik saymada ■ ile gösterilen yere yazılacak doğal sayı aşağıdakilerden hangisidir?

A. 17

B. 18

C. 20

15.

■	33
	+ 30
<hr/>	

●	79
	+ 30
<hr/>	

◆	47
	+ 24
<hr/>	

Sembollerle verilen işlemlerin sonuçları büyükten küçüğe sıralandığında hangisi en sonda yer alır?

A. ■


B. ●

C. ◆

1. 

alınan
siyah saç
mutlu

üzgün
kısa boy
sinirli
- Yukarıda verilenlerden kaç tanesi duygusal özelliklerimizdendir?
- A. 4      B. 3      C. 5



▲ Fatma kahverengi, düz saçlı ve gözlüklüdür.

● Yener'in saçları kahverengidir.

■ Feryal düz ve siyah saçlıdır.

Öğrencilerin özellikleri ile ilgili verilen ifadelerden hangileri doğrudur?

- A. ■ ●      B. ▲      C. ▲ ■ ●

3. Grup çalışması ile ilgili aşağıdaki ifadelerden hangisi yanlıştır?
- A. Görevimizi zamanında yapmalıyız
- B. İstedığımız görevi istediğimiz zaman yapabiliriz.
- C. Görev dağılımını adaletli yapmalıyız.
4. Sınıfla ilgili bir karar alınacağına aşağıdakilerden hangisini yapmalıyız?
- A. Hiç görüş bildirmemeliyiz.
- B. Herkesin fikrini hoşgörülle dinlemeliyiz.
- C. Farklı fikrimiz varsa da söylememeliyiz.
5. Aşağıdaki verilen bilgilerden hangisi yanlıştır?
- A. İhtiyaçlarımıza öncelik vermeliyiz.
- B. İsteddiğimiz her şeyi alabiliriz.
- C. Kumbaramızda para biriktirebiliriz.

6.



Silgini kullanabilir miyim?

Samet'in sorusuna verilebilecek en doğru yanıt hangisidir?

- A. Hayır, veremem.
- B. Kendine silgi alsana.
- C. Tabi kullanabilirsin.

7. Grupla yaptığımız çalışmalarla ilgili aşağıda verilen bilgilerden hangisi yanlıştır?

- A. Grup çalışması iş birliği içinde yapılır.
- B. Grup çalışmalarında kendi başımıza kararlar alabiliriz.
- C. Grup çalışmalarını yaparken sorumluluk duygumuz gelişir.

8. Aşağıdaki davranışlardan hangisi okul kurallarına uymaz?

- A. Koridorda koşmak
- B. Merdivenden yavaşça inmek.
- C. Derse zamanında girmek

9.

Sınıfla ilgili kararlar .....  
..... alınmalıdır.

Yukarıdaki ifadede boş bırakılan yere hangisi yazılmalıdır?


- A. sadece öğretmen tarafından
- B. öğrencilerin katılımıyla
- C. müdür tarafından

10. Aşağıdakilerden hangisi arkadaşımıza karşı sergilediğimiz olumsuz bir davranıştır?

- A. Yardıma ihtiyacı olan arkadaşımıza yardımcı olmak
- B. Arkadaşlarımıza karşı kibar davranmak
- C. Arkadaşlarımızla sert ve kırıcı konuşmak



1.



Kelimelerin doğru sıralanışı hangisidir?

- A. Is a that radio.
- B. That is a radio.
- C. A radio is that.

2. Ahmet aşağıdaki ifadelerden hangisinde kendisinden uzak bir nesneyi ifade etmiştir?



- A. This is a television.
- B. This is a cake.
- C. That is a ambulance.

3.



My ..... is Kübra.

Boş bırakılan yere hangisi gelmelidir?

- A. name
- B. what
- C. this

4.

How .... I'm .....  
you? thanks.



Yukarıdaki diyalogda noktalı yerlere sırası ile hangi sözcükler gelmelidir?

- A. is, good
- B. are, fine
- C. ok, are

5.



Good .....

Yukarıdaki cümle hangisi ile tamamlanamaz?

- A. morning
- B. night
- C. fine