

## ROBOTLARLA TANIŞMA

Arif yeni bilgiler öğrenmeyi, araştırmayı seven bir öğrenciydi. Öğretmeni ders sonunda robotlarla ilgili araştırma ödevi vermişti. Robot hakkında edinilen bilgiler sınıf ortamında paylaşılacaktı. Arif, anne ve babasının yardımını da alarak birçok bilgi edindi. Robot hakkında öğrendikleri onu çok heyecanlandırmıştı. O günden sonra bir robot tasarlayanın hayalini kuran Arifin heyecanı ve mutluluğu gözlerinden okunuyordu.

1, 2 ve 3. soruları metne göre cevaplayalım.

1. Öğretmenin Arife verdiği ödev nedir?

- A. Eldeli Toplama İşlemi
- B. Eş Anlamlı Kelimeler
- C. Robotlarla İlgili Araştırma


2. Arif ödevini yaparken kimlerden yardım almıştır?

- A. Ablasından
- B. Anne ve babasından
- C. Kuzeninden

3. Ödevini yapan Arifin hayali nedir?

- A. Mühendis olmak
- B. Öğretmen olmak
- C. Robot tasarlamak

4.



Aşağıdakilerden hangisi alfabetik sıradada "H" ve "M" sesleri arasında yer almaz?

- A. K
- B. P
- C. L

5.



3



2



4

Yukarıdaki görseli verilen kelimeler hece sayıları ile eşleştirilirse hangi şekli elde ederiz?

A.




B.



C.



6.  Yanımızdan geçen araba çok sürat yapıyordu.

Yukarıdaki cümlede altı çizili sözcük yerine aşağıdaki sözcüklerden hangisini yazarsak cümlenin anlamı değişmez?

- A. hız  
B. kaza  
C. tehlike

7.  uzun  mektep  
 okul  kısa


Yukarıda verilen sözcükler eş anlamlılarıyla eşleştirilirse hangileri dışarıda kalır?

- A.    
B.   
C. 


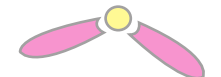

8. 

Yukarıda görseli verilen nesnenin ismine ait sözcüklerle ilgili aşağıdakilerden hangisi söylenemez?

- A. 3 heceden oluşur.  
B. Ünsüz harf sayısı 4'tür.  
C. 6 sestem oluşmuştur.

9. 


Yukarıdaki çiçeğin yapraklarında yazan sözcüklerle anlamlı ve kurallı cümle oluşturulacaktır. Seçilen sözcüklerin yazılı olduğu yapraklar koparıldıktan sonra çiçeğin son görüntüsü hangisidir?

- A.  B.   
C. 

10. 




Yukarıda verilen sözcüklerle ilgili aşağıdakilerden hangisi yanlıştır?

- A. Pembe kutucuklarda yer alan sözcükler zıt anlamlıdır.  
B. Sarı kutucuklarda yer alan sözcükler eş anlamlıdır.  
C. Yeşil kutucuklarda yer alan sözcüklerin eş anlamlıları yoktur.







11.  Of ( ) Yoruldum ( )

Yukarıdaki cümlede ayraç ( ) içinde sırasıyla hangi noktalama işaretleri kullanılmalıdır?




- A. nokta - nokta  
B. ünlem - virgül  
C. ünlem - nokta

12.  Sila, pamuğa mama aldı.  
 Bu hafta izmire gideceğiz.  
 Okulda eğitim devam ediyor.



Yukarıdaki cümlelerin hangilerinde büyük harfin yazımı ile ilgili yanlışlık yapılmıştır?



- A.   B.    
C.  

13. Aşağıdaki sözcüklerden hangisinin yazımında yanlışlık yapılmamıştır?

- A.  Bir kaç  
B.  herkez  
C.  sürpriz




14. SORUYA GEL

 ve  ifadeleri birbiri ile eş anlamlıdır.

 ve  ifadeleri birbiri ile zıt anlamlıdır.

Aşağıdaki seçeneklerin hangisinde sözcükler bu açıklamaya uygun düzenlenmiştir.

- A.  yoksul  fakir  zengin  
B. zor kolay basit  
C. kuru ıslak yaş


15.  Annemin yemeklerini severim.  
 Öğretmenimiz bizim için emek eden  
 Arkadaşlarımla oyun oynamayı severim.

 Defterimi evde

Yukarıdaki ifadelerden hangileri anlamlı ve kurallı cümledir?

- A.   B.    
C.  

1.




Onluk: kırmızı boncuk  
Birlik: mavi boncuk

Yukarıdaki abaküste 64 sayısını oluşturmak için renklerine göre kaç boncuğa ihtiyaç vardır?

- A. 4 kırmızı, 6 mavi
- B. 6 kırmızı, 4 mavi
- C. 5 kırmızı, 6 mavi

2.



Yukarıda verilen ağaçtaki kiraz sayısı için aşağıdaki ifadelerden hangisi yanlıştır?

- A. Bir desteden 6 fazladır.
- B. 1 onluk, 6 birlikten oluşur.
- C. Bir düzineden 5 fazladır.

3. Aşağıda okunuşları verilen sayıların hangisinde yanlışlık yapılmıştır?

- A.  $47 \rightarrow$  kırk yedi
- B.  $52 \rightarrow$  elli iki
- C.  $35 \rightarrow$  elli üç

4.




4, 8, ....., 32

Yukarıda verilen ritmik sayma kuralına göre 20 ile 30 arasında hangi sayıları söyleriz?

- A. 22, 26
- B. 24, 28
- C. 21, 25

5.



Yukarıda görseli verilen hayvanların ayakları toplamının en yakın olduğu onluk aşağıdakilerden hangisidir?

- A. 40
- B. 50
- C. 60

6. Aşağıdaki işlemlerden hangisinin sonucu 6 birlik, 7 onluktan oluşmaz?

A. 
$$\begin{array}{r} 30 \\ + 46 \\ \hline \dots \end{array}$$

B. 
$$\begin{array}{r} 55 \\ + 21 \\ \hline \dots \end{array}$$

C. 
$$\begin{array}{r} 27 \\ + 32 \\ \hline \dots \end{array}$$

7. Aşağıdaki toplama işlemlerinden hangisinin sonucu diğerlerinde büyüktür?

A. 
$$\begin{array}{r} 38 \\ + 41 \\ \hline \dots \end{array}$$

B. 
$$\begin{array}{r} 20 \\ + 56 \\ \hline \dots \end{array}$$

C. 
$$\begin{array}{r} 50 \\ + 36 \\ \hline \dots \end{array}$$

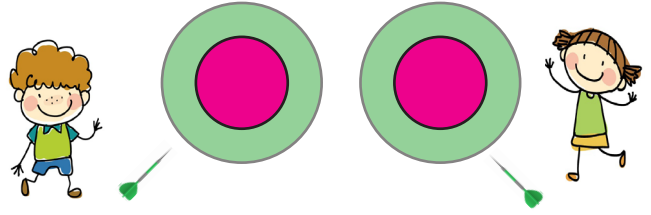
8. Rakamlarının basamak değerleri 50 ve 7 olan sayı ile iki destenin toplamı aşağıdakilerden hangisinde ifade edilmiştir?

A.  $75 + 20$

B.  $57 + 20$

C.  $52 + 70$

9. SORUYA GEL



Yukarıda verilen dart oyununda kırmızı renkli kısım onlar basamağını, yeşil renkli kısım ise birler basamağını ifade etmektedir. 10 atış yapan oyuncularından Emre, 4 kırmızı 6 yeşil, Sude ise 3 kırmızı 7 yeşil hedefi tutturmuştur. Emre ve Sude'nin elde ettiği sayıların toplamı aşağıdakilerden hangisidir?

A. 73

B. 83

C. 93

10.

$$\begin{array}{r} 24 \\ + 19 \\ \hline 4 \blacksquare \end{array}$$

$$\begin{array}{r} 35 \\ + 17 \\ \hline \blacktriangle 2 \end{array}$$

Yukarıda toplama işlemlerinde verilmeyen toplananlar aşağıdakilerden hangisidir?

A. 

■	3
▲	5

B. 

■	4
▲	7

C. 

■	5
▲	7

11.

$$\begin{array}{r} 68 \\ - 41 \\ \hline \dots \end{array}$$

Aşağıda verilen çıkarma işlemlerinden hangisinin sonucu, yukarıdaki işlemin sonucuna eşittir?

A. 
$$\begin{array}{r} 57 \\ - 31 \\ \hline \dots \end{array}$$

B. 
$$\begin{array}{r} 76 \\ - 49 \\ \hline \dots \end{array}$$

C. 
$$\begin{array}{r} 93 \\ - 28 \\ \hline \dots \end{array}$$

12.

 = 53     = 64     = 95

Yukarıda sembollerin belirttiği sayılara aşağıdaki çıkarma işlemlerinden hangisinin sonucu yanlış verilmiştir?

A. 
$$\begin{array}{r} \triangle \\ - \square \\ \hline 42 \end{array}$$

B. 
$$\begin{array}{r} \triangle \\ - \bullet \\ \hline 31 \end{array}$$

C. 
$$\begin{array}{r} \bullet \\ - \square \\ \hline 12 \end{array}$$

13. Bir çıkarma işleminde eksilen, 50 sayısına yuvarlanan en küçük sayı, çıkan ise 29'dur. Verilenlere göre fark kaçtır?

A. 29

B. 16

C. 22


14.


  $43 + 27$


  $60 - 25$

  $90 - 70$

Yukarıdaki işlemlerle ilgili verilen ifadelerden hangisi yanlıştır?

A.  İşleminin sonucu 7 desteye eşittir.

B.  İşleminin sonucu 3 onluk, 5 birlikten oluşur.

C.  İşleminin sonucu 6 onluktan oluşur.

15.



54 sayısının rakamlarını yer değiştirdim.

Bulduğum sayı, 7 onluktan kaç eksiktir?


A. 25

B. 26

C. 22


1. Aşağıdaki çocuklardan hangisi fiziksel özelliği ile ilgili bilgi vermiştir?


A.  Spor yapmayı severim.


B.  Düz, sarı saçlıyım.

C.  Temizliğe önem veririm.

2. Aşağıdaki çocuklardan hangisinin sergilediği davranış yanlıştır?

A.  Farklı düşüncelere saygı duyarım.

B.  Başkasına ait eşyayı kullanmadan önce izin alırım.

C.  Sınıfta istediğim yere otururum.


3. İstek ve ihtiyaçlarımızı belirtmeden önce ..... sözcüklerini kullanmalıyız.

Boş bırakılan yere aşağıdakilerden hangisi yazılmalıdır?

A.  nezaket

B.  bildiğimiz

C.  kaba

4.  Türkçe defterimi evde unuttum.

Arda bu durumu bir daha yaşamamak için ne yapmalıdır?


A. Türkçe defteri her zaman çantasında olmalıdır.

B. Türkçe dersine girmemelidir.

C. Çantasını ders programına göre hazırlamalıdır.

5. Sınıfta alınan kararlar ilgili aşağıdakilerden hangisi doğrudur?

 Kararları öğretmen tek başına almalıdır.

 Alınan kararlarda herkesin söz hakkı olmalıdır.

 Kararları sınıf başkanı almalıdır.

A. 

B. 

C. 

6.



Can ve Erman basketbol oynadılar. Oyun sonunda Erman daha fazla sayı elde etti.

Oyun sonunda aşağıdaki hangi davranış uygun olur?

- A. Can'ın Erman'ı tebrik etmesi.
- B. Erman'ın Can ile alay etmesi.
- C. Can'ın üzülp ağlaması.

7. Aşağıdaki çocuklardan hangisinin özel bir yeteneği vardır?

A.



B.



C.



8. Oyun oynamak ..... ilişkilerimizi güçlendirir.

Boş bırakılan yere aşağıdakilerden hangisi yazılmalıdır?

- A. kazanmak
- B. arkadaşlık
- C. kurallara

9.



Oyun sırasında yanlışlıkla arkadaşşıma çarptım.

Seda anlattığı olaydan sonra hangi davranışı sergilemelidir?

- A. Hiçbir şey olmamış gibi davranmalı.
- B. Üzgün olduğunu belirtip arkadaşından özür dilemeli.
- C. Çarptığı arkadaşına sinirlenmeli.

10. Grup çalışması ile ilgili aşağıdakilerden hangisi yanlıştır?

- A. Görevimizi zamanında yapmalıyız.
- B. Görev dağılımı eşit ve adil olmalı.
- C. Grup başkanı istediği gibi davranmalı.



1.




Görsellerin ilk harfleri sırasıyla hangi seçenekte verilmiştir?

- A. S - L - K
- B. K - S - L
- C. K - L - S

2.

This is ..... radio



Boş bırakılan yere hangi ifade gelmelidir?

- A. that
- B. an
- C. a

3.



Görsele göre Seda, aşağıdaki hangi ifadeyi kullanabilir?

- A. Good night!
- B. Good Morning!
- C. Good afternoon!

4.




What is your name?

Yukarıdaki soruya hangi cevabı veremeyiz?

- A. I'm Cem
- B. Thanks
- C. My name is Okan

5.



Aşağıdakilerden hangisi verilen görseli ifade eder?

- A. turn left
- B. turn right
- C. sit down