

## Ayça'nın Ödevi

Ayça okulunu, arkadaşlarını ve öğretmenini çok seven bir çocuktur. Öğretmeninin verdiği ödevleri itina ile yapardı. Gerek duyduğunda annesinden de yardım isterdi. En sevdiği derslerden olan matematik ödevini yaparken bir problemi anlamamıştı. Bu normal durum karşısında annesinden yardım istedi. Annesi önce problemleri nasıl çözmesi gerektiğini hatırlattı. Ödevini yapmanın mutluluğu gözlerinden okunan Ayça, annesine teşekkür etti.

1, 2 ve 3. soruları metne göre cevaplayalım.

1. Ayça ödevleri için kimden yardım istemiş?

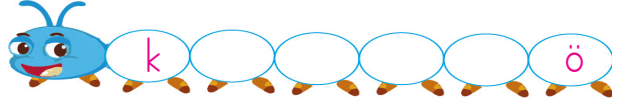
- A. Annesi
- B. Babası
- C. Kardeşi

2. Ayça hangi dersin ödevini yaparken zorlanmış?

- A. Türkçe
- B. Matematik
- C. Hayat Bilgisi

3. Ödevini yapan Ayça kendini nasıl hissetmiş?

- A. İstekli
- B. Üzgün
- C. Mutlu

4. 

Aşağıdakilerden hangisi alfabetik sıraya göre tırtılın üzerindeki eksik harflerden biri değildir?

- A. M
- B. O
- C. R

5.



Yukarıdaki görseli verilen nesnenin adı ile ilgili aşağıdakilerden hangisi yanlıştır?

- A. Üç heceden oluşmuştur.
- B. Üç sestem oluşan bir hecesi vardır.
- C. Son hecesi iki sestem oluşur.

6.



Yukarıda görselin ismindeki harfleri kullanarak aşağıdakilerden hangisi yazılamaz.

- A. kaş
- B. paşa
- C. şans

7.




Yukarıdaki köpek birbiri ile zıt anlamlı olan sözcüklerin yazılı olduğu kemikleri yiyecektir. Kalan sözcük hangisidir?

- A. aktif
- B. pasif
- C. hareket

8. Aşağıdaki cümlelerin hangisinde "fakir" sözcüğünün hem eş hem de zıt anlamlısı kullanılmıştır?

- A. Bu olayın artı ve eksi yönleri düşünülmesi.
- B. Zenginler yoksullara yardım etmeli.
- C. Okullar kar tatili ilan edildi.

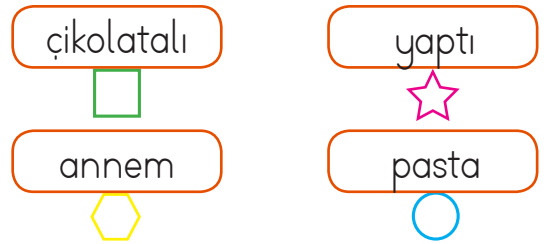
9. SORUYA GEL



Yukarıda rakamlar harflerin alfabetik sırasını belirtmektedir. Buna göre "görev" kelimesinin eş anlamlısı hangi sembolle ifade edilmiştir?


- A.
- B.
- C.

10.




Yukarıdaki sözcüklerle anlamlı ve kurallı bir cümle oluşturulursa sıralama nasıl olur?

- A.
- B.
- C.

11.  Babam manavdan elma( ) muz( ) çilek aldı( )

Yukarıdaki cümlede ayraç ( ) içinde sırasıyla hangi noktalama işaretleri kullanılmalıdır?

- A. (.) (.) (.)  
B. (.) (.) (.)  
C. (;) (.) (.)

12.  Kardeşim ..... babamın gelmesini bekliyordu.




Cümlede boş bırakılan yere aşağıdakilerden hangisi getirilirse "Nasıl?" sorusunun cevabı verilmiş olur?

- A. heyecanla                      B. köpeği  
C. akşam

13. "Ocak" sözcüğü aşağıdaki cümlelerin hangisinde "yılın ilk ayı" anlamında kullanılmıştır?

- A. Ocak ayında doğdum.  
B. Ocakta yemek pişiyor.  
C. Babam bozulan ocağı tamir etti.




14. Aşağıdaki cümlelerin hangisinde yazım yanlışı yapılmamıştır?

- A.  Minik kedi pamuk oyun oynamak istiyordu.  
B.  Perşenme günü okullar tatil.  
C.  Karne gününü heyecanla bekliyorum.


- 15.

tepsi	anne	ayça
adana	atatürk	okul

Yukarıdaki sözcüklerden her zaman büyük harfle yazılması gerekenler maviye boyanacaktır. Boyalı kısım hangi seçenekte doğru ifade edilmiştir?

- A.                       B.   
C. 


1.



Resimdeki çocukların el ve ayak parmakları sayısı toplamı kaç onluktan oluşur?

- A. 4
- B. 6
- C. 8

2.



Kitaplıktaki kitapların sayısı için aşağıdaki ifadelerden hangisi yanlıştır?

- A. 2 desteden oluşmaktadır.
- B. 1 onluk, 9 birlikten oluşur.
- C. Bir düzineden 7 fazladır.

3.



Akvaryumda balığın yediği yem sayıyla ilgili aşağıdaki ifadelerden hangisi yanlıştır?

- A. 4 rakamının basamak değeri 40'tır.
- B. 50 sayısına yuvarlanabilen en küçük sayıdır.
- C. 4 desteden 6 fazladır.

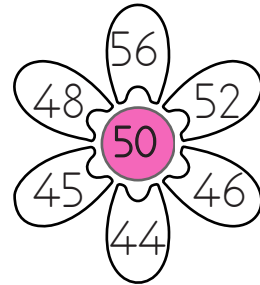
4.






Yukarıda verilen sayıdan başlanarak dörder ritmik sayılacaktır. Aşağıdakilerden hangisi söylenen sayılardan biri değildir?

- A. 16
- B. 15
- C. 19

5.



Yukarıda 50 sayısına yuvarlanabilen sayılar boyanacaktır. Boyanan yapraklar aşağıdakilerden hangisinde ifade edilmiştir?

- A. 
- B. 
- C. 

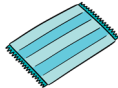
6.



24 TL



11 TL



32 TL

Yukarıda etiket fiyatları yazan ürünlerin toplam fiyatı kaç TL'dir?

A. 73

B. 67

C. 77

7.



Yukarıdaki toplama işleminin sonucu ile ilgili aşağıdaki ifadelerden hangisi yanlıştır?

A. Eldeli toplama işlemidir.

B. Onlar basamağında 7 rakamı bulunur.

C. 90 sayısına yuvarlanır.

8. Bir çıkarma işleminde eksilen 54, çıkan onlar basamağı 2 olan en büyük iki basamaklı sayı ise fark kaçtır?



9. SORUYA GEL



Sude bilgisayar için 4 rakamdan oluşan şifre oluşturacaktır. Şifre için anne ve babasının yaşları toplamı ve farkını yan yana kullanacaktır. Annesi 28 babası 40 yaşında olduğuna göre oluşan şifre aşağıdakilerden hangisi olamaz?



10.



Yukarıda trenin boş olan koltuk numaralarına eşit olan işlem sonucuna göre yolcu alınacaktır. Çıkarma işlemi sonucuna göre aşağıdakilerden hangisi trene binemez?

A.  $70 - 36$ B.  $50 - 26$ C.  $70 - 34$

11.



Yukarıda verilen sayılarla ilgili aşağıdakilerden hangisi yanlıştır?

- A. En büyük sayı en küçük sayıdan 37 fazladır
- B. Onlar basamağı 5 olan sayı birler basamağı 4 olan sayıdan 28 eksiktir.
- C. Onlar basamağı 4 olan sayı 4 desteden 7 eksiktir.

12.

 = 40     = 50     = 80

Aşağıdakilerden hangisi yukarıdaki herhangi iki sayının farkına eşit değildir?

- A. 10      B. 20      C. 30


13.


$$\begin{array}{r} 93 \\ - 28 \\ \hline \dots \end{array} \quad \begin{array}{r} \dots \\ - 14 \\ \hline \dots \end{array}$$


Aşağıdakilerden hangisi yukarıdaki çıkarma işlemlerinin sonuçlarından birine eşit değildir?

- A. 65      B. 51      C. 61

14.

  $13 + \dots = 43$

  $24 + \dots = 62$

  $32 + \dots = 45$

Yukarıda sembollerle belirtilen toplama işlemlerinin hangisinde verilmeyen toplanan en büyüktür?



- A. 
- B. 
- C. 

15.

Özge 27 sayısı ile aklından tuttuğu sayıyı toplayınca 50 sayısını elde ediyor

Özge'nin aklından tuttuğu sayı kaçtır?

- A. 25      B. 26      C. 23

1.  Soner futbol oynamayı seviyor.  
 Ecem kitap okumayı seviyor.

Yukarıdaki çocukların farklı olan hangi özelliği belirtilmektedir?

- A. Fiziksel                      B. Bireysel  
 C. Kalıtsal

2. 


Sınıf kuralları oluşturulurken aşağıdakilerden hanginin görüşü alınmaz?


- A. Ailemizin  
 B. Sınıf arkadaşlarımızın  
 C. Öğretmenimizin.


3. Sınıf panosu hazırlanırken ..... hareket edilmelidir.

Boş bırakılan yere aşağıdakilerden hangisi yazılmalıdır?

- A.  kararsız  
 B.  ortak  
 C.  kaba


4.  Emre Okulun çevresindeki kurumları bilmemiz gerekir.

 Buse Evimizin yakın çevresini bilmek tarif etmeyi kolaylaştırır.

 Can İsteyen herkese evimizin adresini vermeliyiz.


Yukarıdaki öğrencilerden hangisi yanlış bilgi vermiştir?

- A. Emre                      B. Buse  
 C. Can

5. 

Aşağıdakilerden hangisi grupta çalışırken gösterilecek güzel davranışlardan biri değildir.

- A. Dürüstlük  
 B. Hoşgörü  
 C. Asabiyet

6.  Farklı özelliklere sahip olmamız ..... durumdur.

Boş bırakılan yere aşağıdakilerden hangisi yazılmalıdır?

- A. Önemsiz
- B. Doğal
- C. Aynı

7. Aşağıdakilerden hangisi, okul ve sınıf eşyalarını özenli kullanmamızın nedenlerindedir?

- A. Okul müdürümüzü kızdırmamak
- B. Öğretmenlerimizi üzmemek.
- C. Bizden sonra gelenlerin de bu eşyaları kullanabilmelerini sağlamak.

8. Aşağıda verilen dinleme kurallarından hangisi doğrudur?

- A. Konuşan kişinin sözünü kesmemeliyiz.
- B. Dinlerken konuşmacının yüzüne bakmamalıyız.
- C. Dinleme sırasında başka işlerle ilgilenmeliyiz.

9. Aşağıdaki ifadelerden hangisi yanlıştır?

- A. Sınıf aydınlık olduğunda ışıkları yakmamalıyız.
- B. Okulumuzu ve çevremizi korumak için çöpleri yerlere atmamalıyız.
- C. Sıramızın üzerini çizerek resim yapabiliriz.

10. Grup çalışması ile ilgili aşağıdakilerden hangisi yanlıştır?

- A. Görevimizi zamanında yapmalıyız.
- B. Görev dağılımı eşit ve adil olmalı.
- C. Grup başkanı istediği gibi davranmalı.



1.

right X .....

Yukarıdaki sözcüğün zıt anlamlısı karşısına yazılacaktır. Hangisi yazılırsa doğru olur?

- A. left
- B. turn
- C. open

2.



..... is a lemon.

Boş bırakılan yere hangi ifade yazılmalıdır?

- A. That
- B. This
- C. an

3.



Yukarıdaki resme uygun olan ifade hangisidir?

- A. Close the window.
- B. Open the door.
- C. Open the window.

4.

A : Hello, my name is Can.  
B : Hi, ..... Enes.

Boş bırakılan yere hangisi gelmelidir?

- A. Hello
- B. Thanks
- C. my name is

5.



Aşağıdakilerden hangisi görselle ilgili değildir?

- A. draw
- B. color
- C. sit down