

Kütüphane Sevgisi

Aysun kitap okumayı özellikle de kitap kokusunu çok severdi. Fırsat buldukça babasıyla kütüphaneye gider birlikte kitap okurlardı. Babasıyla kütüphaneye gittikleri gün renkli, büyük kapaklı bir kitap seçti. Başladı okumaya. Kitapta küçük bir çocuğun kedi ile hikayesi anlatılıyordu. Kitabı okurken yaşadığı heyecan ve gözlerindeki mutluluk babasını oldukça gururlandırmıştı.

1, 2 ve 3. soruları metne göre cevaplayalım.

1. Aysun en çok neyi severmiş?

- A. Kütüphaneye gitmeyi.
- B. Babasıyla zaman geçirmeyi.
- C. Kitap okumayı ve kitap kokusunu.

2. Aysun okumak için nasıl bir kitap seçmiş?

- A. Hikaye kitabı
- B. Renkli, büyük kapaklı bir kitap.
- C. Masal kitabı.



3. Aysun'un okuduğu kitap neyi anlatıyormuş?

- A. Küçük bir çocuk ile kedinin hikayesini.
- B. Kitap sevgisini.
- C. Kitap okumanın faydalarını.

4.



Sinan üzerinde isimleri yazılı olan ürünlerden sözlükte ilk ve son sıradaki gelen sözcüklerin yazılı olduğu ürünleri alacaktır. Sinan'ın alacağı poşetler hangileridir?



5.



Yukarıdaki tavşan hem zıt hem de eş anlamı olan sözcüklerin yazılı olduğu havuçları yiyecektir. Buna göre hangi havucu yemez?







6.  Asya hasta olmuş.

Yukarıdaki cümle ile ilgili aşağıdakilerden hangisi söylenemez?

- A. Kurallı bir cümledir.
B. Olumlu bir cümledir.
C. Olumsuz bir cümledir.

7. Aşağıdaki öğrencilerden hangisi satır sonuna sığmayan kelimeyi doğru ayırmıştır?

- A.  Bu yaz tatile gideceğiz.
B.  Akşam kitap okudum.
C.  Buna gerçekten üzüldüm.

8.  ile okul fakat arkadaş ve gibi kalem ders ama

Emre yukarıda verilen sözcüklerden tek başına anlamı olmayanları yuvarlak içine alacaktır. Buna göre Emre kaç sözcüğü yuvarlak içine alır?

- A. 6 B. 4 C. 5

9. SORUYA GEL



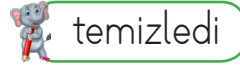


perşembe

fiat

matamatik

Sıla, Ercan ve Merve yanda verilen yazımı hatalı olan sözcükleri aşağıdaki şekilde düzelteceklerdir; Sıla, yazımı yanlış olan sözcükteki ünlü harfi değiştirmiş. Ercan, sözcüğe bir ses ekleyerek hatayı düzeltmiş. Merve ise yazımı yanlış olan sözcükteki ünsüz harfi değiştirmiştir. Buna göre Sıla, Ercan ve Merve'nin düzelttikleri sözcükler hangileridir?

- | | Sıla | Ercan | Merve |
|----|-----------|-----------|----------|
| A. | fiat | matamatik | perşembe |
| B. | matamatik | fiat | perşembe |
| C. | perşembe | matamatik | fiat |




10.  temizledi  yediler
 süpürdü

Annem ve ablam evi










Verilen cümle yukarıdaki hangi sözcük ile tamamlanırsa anlamlı ve kurallı cümle olmaz?

- A. temizledi B. yediler
C. süpürdü

11. Aşağıdaki cümlelerin hangisinde "toprak" sözcüğü yanlış yazılmıştır?

- A.  Adana'nın bereketli topraklarında pamuk yetişir.
- B.  Arkadaşım toprak ile ders çalıştık.
- C.  Annem saksıdaki çiçeğin toprağını yeniledi.

12. Yaşasın()Okullar açılıyor.
Ne zaman geleceksin()
15()00'da ders çalıştım.
Yukarıda ayraç içindeki boşluklara sırasıya hangi noktalama işaretleri gelmelidir?

- A.   
- B.   
- C.   

13. Aşağıdaki cümlelerin hangisi doğru belirtmektedir?

- A. Babam tenis oynamaya gitti
- B. Kuş, yavruları için yiyecek arıyordu.
- C. Duyduklarım beni çok incitti.

14.

Adlar	Özel ad	Çoğul ad
Kuşlar		✓
Fulya		✓
Erikler	✓	

Tablodaki yanlışlığın düzeltilmesi için hangi iki sözcüğün yer değiştirmesi gerekir?

- A. Kuşlar, erikler
- B. Fulya, kuşlar
- C. Fulya, erikler


15.



Bu yaz ailemle Antalya'ya gideceğiz.

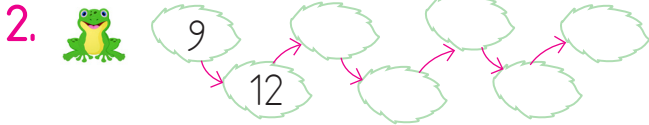
Yukarıdaki cümlede aşağıdaki hangi soruların cevabı yoktu?

- A. Nereye?
- B. Niçin?
- C. Ne zaman?



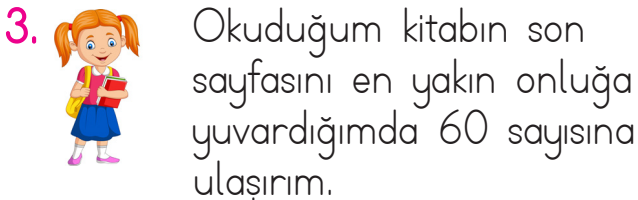
Yukarıdaki kuşların sayısı ile ilgili aşağıdaki ifadelerden hangisi yanlıştır?

- A. 1 düzineden 2 fazladır.
 B. 2 desteden 6 eksiktir.
 C. İki basamaklı en küçük doğal sayıdan 5 fazladır.



Kurbağa 9 sayısından başlayıp ileriye doğru ritmik sayma yaparak yaprakların üzerine sıçrayacaktır. Buna göre 6. ve 7. sıçramada söylediği sayıların toplamı kaçtır?

- A. 51 B. 48 C. 54



Buna göre Birsen'in okuduğu kitabın sayfası aşağıdakilerden hangisi olamaz?

- A. 55 B. 64 C. 65


4. $12 + 24 = \blacksquare \blacktriangle$

$36 + 18 = \bullet \blacklozenge$

Yukarıda verilen işlemlerin sonuçlarına göre $\blacksquare \blacktriangle + \bullet \blacklozenge$ İşleminin sonucu kaçtır?

- A. 90
 B. 80
 C. 70

5.




$$\begin{array}{r} 55 \\ +26 \\ \hline \dots\dots \end{array}$$

Yukarıdaki toplama işleminin sonucuna ait ifadelerden hangisi doğrudur?

- A. Toplam 9 onluk, 1 birlikten oluşur.
 B. Birler basamağında en küçük rakam yer alır.
 C. En yakın olduğu onluk 80'dir.

6.



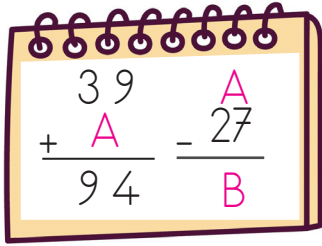
Yukarıdaki verilen varlıklara ait sayılarla yapılan çıkarma işlemlerinden hangisi yanlıştır?

A. - = 23

B. - = 44

C. - = 57

7.



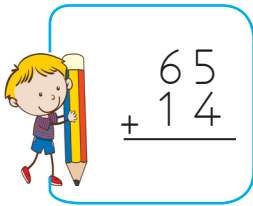
Yukarıdaki işlemlere göre "B" sayısı kaçtır?

A. 28

B. 26

C. 47

8.



Yukarıdaki işlemle ilgili aşağıdaki ifadelerden hangisi yanlıştır?

A. Gerçek sonuç tahmini sonuçtan 1 eksiktir.

B. Gerçek sonuç 9 birlik, 7 onluktan oluşur.

C. Tahmini sonuç 90'dır.

9.

SORUYA GEL



Rafet elindeki kova yardımıyla 10 kova ile dolabilen havuzu doldurmak istiyor. Havuza 7 kova su boşalttıktan sonra kova kırılıyor. Havuzu doldurma işlemine elindeki sürahi ile devam eden Rafet 15 sürahi su ile havuzu dolduruyor. Buna göre 5 kova su kaç sürahi suya eşittir?

A. 30

B. 25

C. 20

10.

28 + A

Yukarıdaki işlemin sonucu 45'ten büyük ise "A" ile belirtilen sayı en az kaç olabilir?

A. 18

B. 19

C. 17

11, 12 ve 13. Soruları aşağıdaki tabloya göre cevaplayınız.

Ürün	Fiyatı
Atkı	24
Tişört
Ayakkabı	63

11. Tişörtün fiyatı atkının fiyatından 17 lira fazladır. Buna göre tişörtün fiyatı kaç liradır?

- A. 41 B. 42 C. 39


12. 1 ayakkabı ve 1 atkı alan Sude ödeme yaptıktan sonra 8 lira para üstü almıştır. Buna göre alışveriş yapmadan önce Sude'nin kaç lirası vardı?

- A. 94 B. 85 C. 95

13. 48 lira para biriktiren Mert'in 2 tişört alması için kaç lira daha biriktirmesi gerekir?

- A. 43 B. 34 C. 26


14.



Yukarıdaki fıçı aşağıdakilerden hangisi ile daha erken dolar?



15.



Bir sürahi, 4 bardak su ile dolmaktadır. 5 sürahi su kaç bardak ile dolar?

- A. 15 B. 20 C. 25

1. evimizin adresini vermemeliyiz.

Boş bırakılan yere aşağıdakilerden hangisi yazılmalıdır?

- A. Yabancılara
- B. Akrabamıza
- C. Öğretmenimize

2. Elektrikten tasarruf etmek amacıyla hangisi yapılmalıdır?

- A. Lambalar açık bırakılmalıdır.
- B. Ütü prizden çekilmemelidir.
- C. İzlemediğimiz zamanlarda televizyonu kapatmalıyız.

3. Evde çocukların yapamayacağı işler de vardır.

Çocuklara tüm sorumlulukları verebiliriz.

Çocuklar aile bütçesine katkı sağlamak amacıyla ağır işlerde çalışabilir.

Doğru bilgi veren cümlelerin başına "D", yanlış bilgi veren cümlelerin başına "Y" yazarsak sonuç ne olur?

- | | | |
|------|------|------|
| A. D | B. D | C. Y |
| Y | Y | D |
| D | Y | Y |

4.

	D	Y
Ailede farklı görüşlere saygı duyulmalıdır.		
Aile içinde sadece baba söz hakkına sahiptir.		
Evde demokratik bir ortam hakimdir.		

Yukarıdaki cümleler doğru ve yanlış olarak değerlendirildiğinde sonuç nasıl olur?


- A.


	✓
	✓
✓	
- B.


✓	
✓	
	✓
- C.

✓	
	✓
✓	

5. Aşağıdaki öğrencilerden hangisi parasını harcarken doğru davranışta bulunmuştur?

A.  Parası bitene kadar harcama yapmıştır.

B.  Sadece isteklerini ön planda tutmuştur.

C.  İhtiyaçlarına göre harcama yapmıştır.

6. Aşağıdaki bilgilerden hangisi yanlıştır?

- A. Ellerimizi yemekten önce ve sonra yıkamalıyız.
- B. Dengeli ve düzenli beslenmeliyiz ve spor yapmalıyız.
- C. Dişlerimizi haftada üç defa fırçalamalıyız.

7. Aşağıdakilerden hangisi doğru bir davranıştır?

- A. Hasta olan komşumuza isteği olup olmadığını sordu.
- B. Arkadaşlarıma iyi görünmek için istedikleri her şeyi yaptım.
- C. Komşumuzun bize gelmesine izin vermedim.

8. Aşağıdakilerden hangisi bir öğrencinin ihtiyacına örnek olamaz



9.









Sedat'ın bu durumunda ortaya koyulacak doğru davranış aşağıdakilerden hangisidir?




- A. Sedat ile alay edip ona gülmeleri gerekir.
- B. Konuyu anlaması için ona yardımcı olmaları gerekir.
- C. Konuyu anlamadığı için Sedat'a kızmaları gerekir.

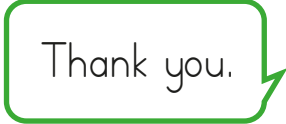


10. Sağlıklı beslenmeye özen gösteren Fulya'nın kahvaltısında hangileri yer almalıdır?



1.  How many are there?  
- Boşluklara hangi kelimeler gelmelidir?
- A) book / Eight B) books / Six C) Notebooks / seven

2. ?  I am five years old. 
- Boşluğa hangi seçenek gelmelidir?
- A) How are you B) What is your name C) How old are you

3.   
- Hangi sorunun cevabı doğrudur?
- A) - How many rulers? - Three
B) - How many books? - Six
C) - How many crayons - Eight

4.  Thank you.  
- Boşluğa hangi ifade gelmelidir?
- A) You are welcome. B) I am great. C) I am fine

5.   Open your please.
- Boşluğa hangi kelime gelmelidir?
- A) window B) door C) books