

Kırmızı Elmalar

Artık koparılma zamanları gelmişti. Her olgunlaşan kırmızı elma, ağaçtan ayrılmak zorunda kalıyordu. Arkadaşlarından ayrıldıkları için üzgünlerdi. İnsanların yararına koparıldıkları için ise mutlulardı.

1 ve 2. soruları metne göre cevaplayalım.

1. Kırmızı elmalar ne zaman ağaçtan ayrılmak zorunda kalıyordu?

- A. Olgunlaştıkları zaman
- B. Ağladıkları zaman
- C. Mutlu oldukları zaman

2. Kırmızı elmaların üzgün olmasının nedeni nedir?

- A. Koparılmaları
- B. İnsanlara gitmeleri
- C. Arkadaşlarından ayrılmaları

3. Aşağıdaki kelime gruplarından hangisi anlam ilişkisi bakımından diğerlerinden farklıdır?

- A. kara - siyah
- B. çok - az
- C. yanıt - cevap


4.



Sinan 1. varlığın üçüncü hecesi, 2. varlığın ilk hecesi ve 3. varlığın son hecesi ile bir sözcük oluşturuyor. Sinan'ın oluşturduğu sözcük hangisi olabilir?

- A. fonksiyon
- B. telefon
- C. televizyon

5.






Yukarıdaki harflerin alfabetik sıraya uygun olarak dizilmesi için hangi harflerin yer değiştirmesi gerekir?

- A. ● ●
- B. ● ●
- C. ● ●


6.

| | | |
|---------------|---------------|----------------|
| hane ev | yaşlı genç | çabuk acele |
| uzak yakın | lisan dil | olay vaka |

Yukarıdaki tabloda eş anlamlı sözcüklerin bulunduğu kutucuklar maviye, zıt anlamlı sözcüklerin bulunduğu kutucuklar kırmızıya boyandığında tablonun görünümü nasıl olur?

- A. 
- B. 
- C. 

7.



Görseldeki hayvanların fiziksel özelliklerinin karşılaştırıldığı bir cümlede hangi sözcük kullanılmaz?

- A. gibi B. için C. kadar

8.



“Deniz” kelimesi hangi cümlede özel isim olarak kullanılmıştır?

- A. Deniz bugün dalgalı.
B. Deniz yakın arkadaşımıdır.
C. Denizde balıklar yüzüyor.

9. SORUYA GEL



Ayça ve Mert noktalama işaretleriyle bir oyun oynayacaktır. Oyunun kuralı; Mert sepetten 5 tane kart çekecek, Ayça ise o kartlarda yazılan noktalama işaretlerinin olduğu bir cümle kuracaktır. Mert kutudan 2 pembe, 1 mavi ve 1 yeşil kart çektiğine göre Ayça hangi cümleyi kurmuş olabilir?

- A. Annem pazardan elma muz armut almış mı
B. Evde peynir zeytin ve ekmek var mı
C. Öğretmen Hasan Merve Tuna ve Aliye soru sordu mu

10.



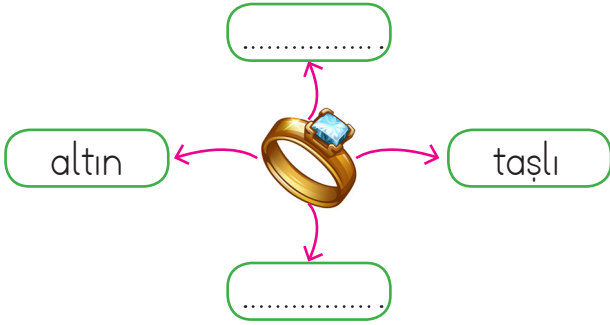
Yukarıdaki sözcüklerle anlamlı ve kurallı bir cümle oluşturulduğunda sıralama nasıl olmalıdır?

- A. 4 3 1 2
B. 1 2 3 4
C. 3 2 1 4

11. ● Sakla gelir zamanı
 ● yaşken eğilir
 ● Laf ile gemisi yürümez.
 Yukarıdaki atasözlerinde verilmeyen sözcükleri karşılayan görseller sırasıyla hangi seçenekte verilmiştir?



12.



Yukarıdaki noktalı yerlere hangi sözcük yazılamaz?

- A. parlak B. sarı C. taze

13. Aşağıdaki cümlelerin hangisinde deyim kullanılmamıştır?

- A. Kimseyi dinlemez, aklına koyduğunu yapardı.
 B. Okulların tatil olması beni çok üzüyor.
 C. Bütün gün bir şey yemedim karnım açlıktan zil çalıyor.

14.



Adem



İpek



Nedim

Babam bana akşam doğum günü sürprizi yaptı.

Yarın hayvanat bahçesine gideceğiz.

Serhan babasının gazetesini getirdi.

Yukarıda isimleri verilen çocuklardan hangisi "Ne zaman?" ve "Nereye?" sorusunun cevabı olan cümle kurmuştur?

- A. İpek
 B. Adem
 C. Nedim

15.

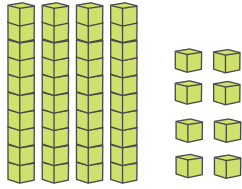


Mahalledeki herkez, yalnız yaşayan Mine teyzeyi tanırdı.

Yukarıdaki cümlede yazımı hatalı olan sözcükler hangileridir?

- A. herkez - teyze
 B. herkez - yalnız
 C. yaşayan - teyze

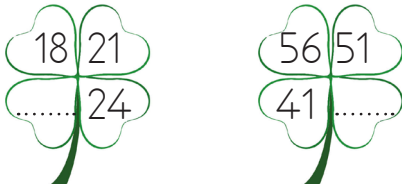
1.



Yukarıdaki onluk taban bloklarının ifade ettiği sayı ile ilgili hangisi yanlıştır?

- A. 4 desteden 8 fazladır.
 B. Onlar basamağı 4 olan en büyük sayıdır.
 C. Onlar basamağının basamak değeri 40'tır.

2.



Yukarıda verilen sayılar belli bir kurala göre dizilmiştir. Buna göre noktalı yerlere sırasıyla hangi sayılar gelmelidir?

- A. 27-44 B. 27-46 C. 28-46

3.

| | | | | |
|----|----|----|----|----|
| 25 | 34 | 41 | 56 | 65 |
|----|----|----|----|----|

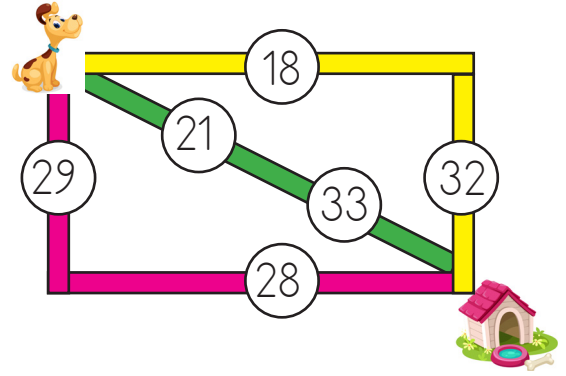
Tablodaki sayılar en yakın onluğuna yuvarlandığında onluğu artan sayılar maviye boyandığında hangi görüntü oluşur?

- A.

B.

C.

4.



Yukarıdaki köpek, kulübesine toplamın en küçük olduğu yoldan ulaşmak istiyor. Buna göre hangi yolu kullanmalı?

- A.

B.

C.

5.

$$\begin{array}{r} 64 \\ -40 \\ \hline \end{array} \quad \begin{array}{r} 77 \\ -43 \\ \hline \end{array} \quad \begin{array}{r} 82 \\ -58 \\ \hline \end{array}$$



Yukarıdaki çıkarma işlemlerinin sonuçları topların üzerine yazılacaktır. Daha sonra toplar potaya atılacaktır. Potanın üzerindeki sayıyla aynı sonuca sahip olan top potaya basket atılmıştır. Buna göre basket atılan toplar hangi seçenekte doğru verilmiştir

- A.

B.

C.

6.

$$\begin{array}{r} 65 \\ + \triangle \\ \hline 84 \end{array}$$


$$\begin{array}{r} 28 \\ + \square \\ \hline 72 \end{array}$$

$$\begin{array}{r} \bullet \\ + 34 \\ \hline 91 \end{array}$$

Yukarıdaki toplama işleminde verilmeyen toplananların büyükten küçüğe doğru sıralanışı hangi seçenekte verilmiştir?

- A.    B.   
- C.   

7.



Bir çiftlikte 90 hayvanın 26'sı koyun, 33'ü keçi geri kalanı ise inek olduğuna göre ineklerin sayısı kaçtır?

- A. 51 B. 41 C. 31

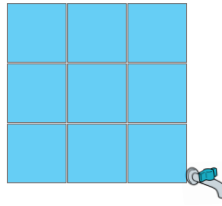
8.



Ece, kitabını 1. gün 14, 2. gün 26, 3. gün ise 18 sayfa daha okuyarak bitirmiştir. Buna göre Ece hangi kitabı okumuştur?

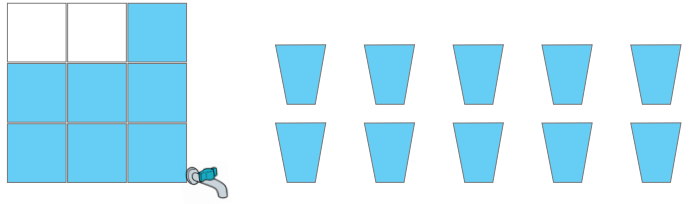
- A. Küçük Prens B. Zürafa Zozi
C. Karga İle Tilki

9. SORUYA GEL



Yandaki içi su dolu kap eşit bölmelere ayrılmıştır. Her bölmedeki su miktarı eşittir.

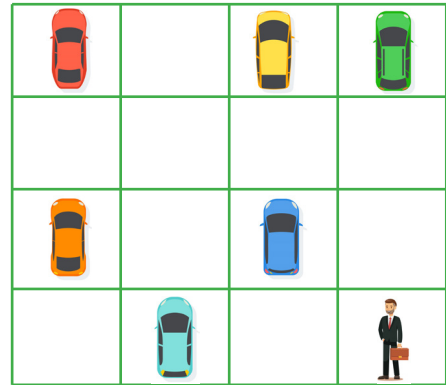
Bu kaptaki bulunan su eş bardaklara doldurulduktan sonra kalan su miktarı aşağıdaki gibidir.



Buna göre kalan su için kaç bardağa daha ihtiyaç vardır?

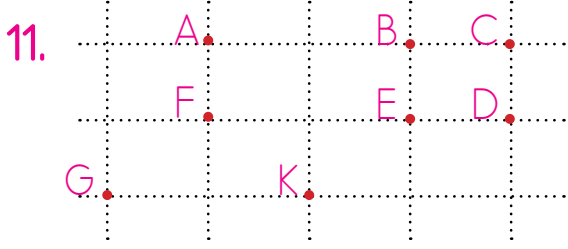
- A. 30 B. 35 C. 40

10.



Nedim Bey'in otoparkta arabasını kolay bir şekilde bulmak için 2 sola 2 yukarı, 2 sağ ve 1 yukarı hamle yapması gerekmektedir. Buna göre Nedim Bey'in arabasının solundaki arabanın rengi nedir?

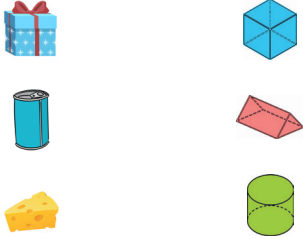
- A.  B.  C. 



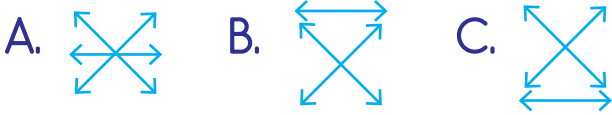
Yukarıda verilen noktalar için aşağıdaki ifadelerden hangisi yanlıştır?

- A. GEK noktalarının birleşmesiyle üçgen elde edilir.
 B. BEDC noktalarının birleşmesiyle kare elde edilir.
 C. AFEB noktalarının birleşmesiyle elde edilen şeklin tüm kenarları eşittir.

12.



Yukarıdaki nesnelere benzedikleri geometrik şekiller eşleştirilirse hangi görüntüyü elde ederiz?



13. Aşağıdakilerden hangisi iki eş parçaya ayrılamaz?



Yukarıdaki örüntüdeki kurala göre boşluklara gelmesi gereken şekiller hangi seçenekte verilmiştir?




15. Yukarıdaki örüntü için aşağıdakilerden hangisi söylenemez?

- A. İkinci boşluğa gelmesi gereken şekil sarı karedir.
 B. İlk boşluğa gelmesi gereken şekil mor karedir.
 C. İkinci boşluğa gelmesi gereken şekil kırmızı üçgendir.

1. Sude resim yapayı, Alper ise kitap okumayı sever.

Yukarıdaki bilgilere göre aşağıdakilerden hangisi söylenebilir?

- A. Fiziksel özellikleri farklıdır.
- B. Yetenekleri aynıdır.
- C. İlgi alanları farklıdır.

2.  Her gün çantamı
..... hazırlarım.

Yukarıdaki boşluğa hangi ifade gelmelidir?

- A. anneme sorarak
- B. ders programına göre
- C. ilgi alanıma göre

3.  Annemin erkek kardeşi
■ babamın kız kardeşi
ise ▲ olur.




Yukarıdaki ifadeye göre ■ ve ▲ yerine yazılması gerekenler hangi seçenekte verilmiştir?

- A. ■ dayım ▲ halam
- B. ■ amcam ▲ dayım
- C. ■ eniştem ▲ teyzem

4.

| | |
|---------|----------|
| Kıyafet | Çikolata |
| Oyuncak | Ev |

Yukarıda verilen ifadelerden istek olanlar kırmızıya, ihtiyaç olanlar maviye boyanırsa hangi şekli elede ederiz?

- A. 
- B. 
- C. 

5. Aşağıdaki davranışlardan hangisi doğru değildir?

- A. Başkasının tabağından yemek
- B. Ağzımızı peçete ile silmek
- C. Yemekten sonra ellerimizi yıkamak




6. Hangisi sağlığımızı korumaya yönelik bir davranıştır?
- A. Dengeli ve düzenli şekilde beslenmek.
- B. Geç yatıp erken kalkmak.
- C. Sevdiğimiz besinleri bolca tüketmek.

7. Aşağıdakilerden hangisi doktora ve hastaya yardımcı olan sağlık çalışanıdır?









..... doktorun verdiği reçeteji hazırlar.

8. Yukarıda boş bırakılan yere aşağıdakilerden hangisi gelmelidir?
- A. Hemşire B. Diş hekimi
- C. Eczacı

9.  Düzenli ve dengeli beslenmek.
-  Hazır satılan yiyecekleri tüketmek.
-  Uykumuza dikkat etmek.

Sağlıklı olabilmek için hangilerini yapmalıyız?

- A.  
- B.  
- C.  

10. Aşağıdakilerden hangisi sağlık kurumlarından biri değildir?
- A. Polis merkezi
- B. Sağlık ocağı
- C. Hastane

1.

A:

B: It's green.



Yukarıdaki diyaloga göre aşağıdaki seçeneklerden hangisi gelmelidir?

A) How old are you?

B) How many boards are there?

C) What colour is a the board?


2. • a pencil



• a pencil



• a pencil



Yukarıdaki boşluklar doldurulduğunda hangi seçenek dışarıda kalır?

A)green

B)red

C)blue

3.



Hangisi yukarıdaki resimlerle eşleşmez?

A) A yellow bus

B) A pink cake

C) A green baloon

4. Eren: What colour is the


İlke : It is

Boşluklara hangi kelimeler gelmelidir?

A) desk / brown

B) table / red

C) table / brown



5.

My name is Mert. This is my school bag. It is This is my book. It is



Boşluklara hangi kelimeler gelmelidir?

A) red / blue

B) brown / red

C) blue / red