

ÇİFTLİK GEZİSİ

Merhaba arkadaşlar, benim adım Ezgi. Sıkı durun, size başımdan geçen bir macerayı anlatacağım.


Pazar günüydü, kahvaltı ediyorduk. Annemden bir bardak süt doldurmasını istedim. Ben de haşlanmış yumurtalarımı soyuyordum. Birden babamın telefonu çaldı. Arayan, iş arkadaşıydı. Bizi çiftliklerine davet ediyordu. Daha önce hiç çiftlik görmemiştim. Babam bize gitmek isteyip istemediğimizi sorunca heyecanlandım. Tabii ki gitmek istiyordum. Annem de kendisi için değişiklik olacağını düşündüğünden kabul etti. Hep birlikte arabaya atladık ve çiftliğin yolunu tuttuk. Kocaman bir yerdi. Her yer yeşillikti. Çeşit çeşit hayvan vardı. Horozlar, tavuklar, inekler... Babamın arkadaşının adı Erman'dı. Bizi karşıladı ve evine davet etti. Çiftlik evi de çok büyüktü. İçeri girdik biraz oturduk. Ben dışarıdaki hayvanları çok merak ettiğim için dolaşmak istedim. Onlar da rahat rahat sohbet edebilirlerdi. Babam izin verince dolaşmaya başladım. Hemen karşıda horoz ve tavuklar vardı. Köşede duran yem kabını onlara verdim. Cıvıvlar de yanıma geldi hemen. Sonra yalnız başına duran ineği fark ettim. Sanki arkadaşlık yapmamı ister



gibi bakıyordu. Onun yanına da gittim. Ona da ot verdim. Bir de baktım horoz ve tavuk beni takip etmiş. Cıvıvlar de peşlerinden gelmiş. İneğin üzerine zıplamaya başladılar. İnek de karşılık vermeye çalışınca ortalık karıştı. Çıkan seslere bizimkiler hemen koştu. Erman abi tüm hayvanları yatıştırdı. Olayı sonradan öğrendim. Meğerse eskiden inek ile horoz çok iyi arkadaşmış. İnek bir gün yanlışlıkla horozun kümesini dağıtmış. Horoz da bu duruma çok sinirlenmiş. O gündür bu gündür iyi geçinemiyorlarmış. Erman





abinin anlattığı olayı dinleyince kendime hakim olamadım ve gülmeye başladım. Horozu ve ineği çektim köşeye. Gelin buraya şu sorunu halledelim, dedim. Bir güzel konuştum ikisiyle de. Bizimkiler beni izlerken gülüşmeye başladılar. İnek kafasını salladı, horoz ise yine onun üstüne atladı. İnatçı horoz laf dinlemiyor ki. Neyse ben karışmayayım, kendi aralarında çözsünler deyip geri çekildim. Kısacası aksiyon dolu bir gün yaşadık.


 Aşağıdaki boşlukları okuduğumuz metne uygun dolduralım.


 Merhaba arkadaşlar, benim adım

 günüydü, kahvaltı ediyorduk.

 Annemden bir bardak doldurmasını istedim.

 Ben de haşlanmış soyuyordum.

 Daha önce hiç görmemiştim.

 Hep birlikte atladık ve çiftliğin yolunu tuttuk.

 Aşağıdaki ifadelerden doğru olanlara "D", yanlış olanlara "Y" yazalım.

Çiftlikte horozlar, tavuklar, inekler vardı.


Erman abinin çiftlik evi çok küçüktü.

Ezgi; horoz, tavuk ve civcivlere yem verdi.

Ezgi daha sonra yalnız başına duran köpeğin yanına gitti.

Erman abi tüm hayvanları yatıştırdı.

İnek bir gün yanlışlıkla horozun kümesini dağıtmış.

 Aşağıdaki soruları cevaplayalım. Doğru seçenekleri işaretleyelim.

1. Ezgi barıştırmak için hangi hayvanlarla konuşmuş?

A. inek - tavuk

B. inek - horoz

C. tavuk - civciv

2. Erman abi, inekle horozun sorununu anlatınca Ezgi nasıl tepki vermiş?

A. Ağlamış.


B. Sinirlenmiş.




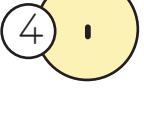

C. Gülmüş.

 Aşağıdaki soruları cevaplayalım.













1. Metnin konusu nedir?

2. Metnin ana fikri nedir?

 Aşağıdaki cümleleri parantez içlerine gelmesi gereken noktalama işaretleriyle örnekteki gibi sırasıyla eşleştirelim.

Arda()nın kalemi() defteri ve silgisi yokmuş()	5, 1, 4	1 
Hey() nereye bastığına dikkat et()		2 
Pazardan elma() armut ve patates aldın mı()		3 
Ankara()nın en güzel yeri burası mı()		4 
Babasının arabasını aldı() köye gitti()		5 
18()12()2009 tarihinde mi doğdun()		

 Cümlelerdeki kelimelerden yanlış yazılanların örnekteki gibi altlarını çizip doğrusunu kaplumbağanın üstüne yazalım.

 Helikopter	<u>Helikofter</u> çok uzaktaydı.		Pilan yapmak sana göre değil.
	Gastede bugün ne yazıyor?		Yalnız yaptığını fark etti.
	Yalnız kalınca mutsuz oluyor.		Herkez işini yapmalıdır.
	Sipor yapmak huzur veriyor.		Tırafikteki kalabalık beni sıktı.
	Tirenin gelmesi uzun sürdü.		Perşembe günü babam gelecek.
	Ezzaneden ilaçlarımı aldım.		Okulun tualeti yeni temizlendi.

 Aşağıda sözcükleri karışık olarak verilen atasözlerini düzenleyerek altlarına anlamlarıyla birlikte yazalım.



yorganına

uzat

ayağını

göre

ATASÖZÜ:

ANLAMI:



muhtaçtır

külüne

komşunun

komşu

ATASÖZÜ:

ANLAMI:



olur

göl

damlaya

damlaya

ATASÖZÜ:

ANLAMI:



demir

pas

işleyen

tutmaz

ATASÖZÜ:

ANLAMI:



hesap

uymaz

çarşıya

evdeki

ATASÖZÜ:

ANLAMI:

Ezgi'nin Yeni Arkadaşı

İlkbahar sabahıydı. Ezgi, evinin bahçesinden dışarıyı seyrediyordu. Canı çok sıkılıyordu. Babası bu durumu fark edince kızının yanına geldi. "Neden canın sıkılıyor?" dedi. Ezgi derin bir offff çekerek "Buraya taşındığımızdan beri hiç arkadaşım olmadı. Tek başıma oyunlar da oynayamıyorum." dedi. Babası kızının bu durumuna kısa süreli bir çözüm aramaya başladı. Kızının salıncakları sevdiğini biliyordu. Bahçedeki ağaca güzel bir salıncak yaptı. Ezgi, salınc



cağı görünce çok sevindi. Babası bunun kısa süreli bir çözüm olduğunun farkındaydı. Bir süre sonra salıncaktan da sıkılacağını biliyordu. Tam da tahmin ettiği gibi oldu. Salıncığı bırakıp babasının yanına gitti. Babası kızının bu durumuna kalıcı bir çözüm bulmalıydı. Aklına çok güzel bir fikir geldi. Ezgi, hayvanları da çok seviyordu. Ona bir arkadaş getirebilirdi. Barınağa gitti ve yavru bir köpek sahiplendi. Ezgi köpeği görünce sevinçten havalara uçtu. Babasına çok teşekkür etti. Çünkü babasının kendisi için ne kadar uğraştığını görebiliyordu.

 Aşağıdaki istenenleri yukarıdaki metne göre dolduralım.

ZAMAN

YER

OLAY

ANA FİKİR


BAŞLIK

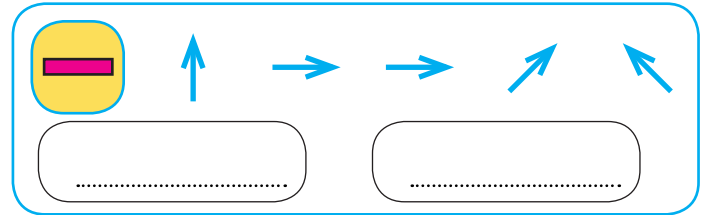
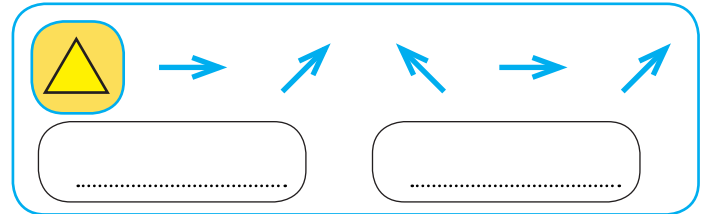
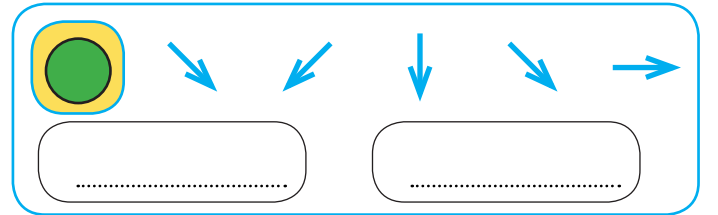
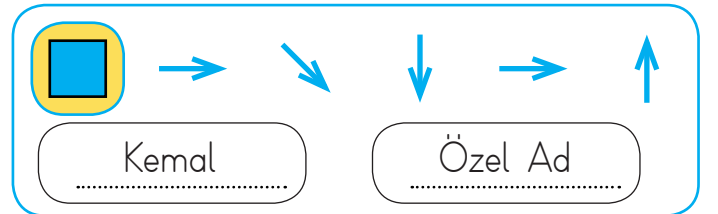
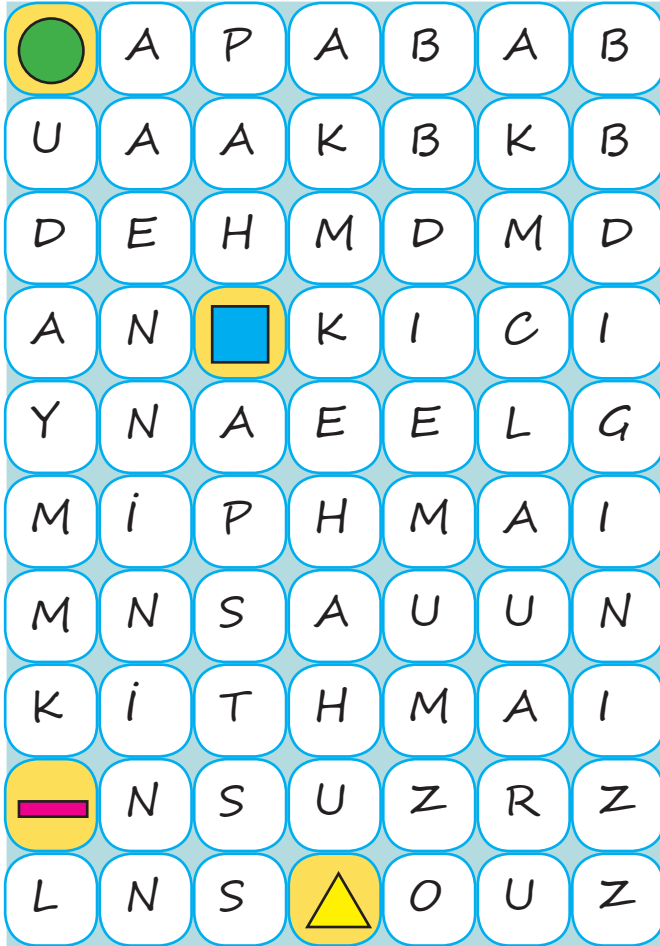
KAHRAMANLAR

 Aşağıdaki tabloyu örnekteki gibi dolduralım.

Adlar	Tekil Ad	Çoğul Ad	Topluluk Adı
ağaç	✓		
sürü			
eşekler			
grup			
orman			
düzine			
kapı			
ordu			
samanlar			
millet			
kitap			





 Aşağıdaki kodları kullanarak bulmacada gizlenen adı bulalım. Özel ad mı, tür adı mı olduğunu örnekteki gibi yazalım.





 Aşağıdaki cümlelerin gerçek mi, hayal unsuru mu olduğunu işaretleyelim.


CÜMLE	GERÇEK	HAYAL UNSURU
Dev, sihirli yatağında uyuyakaldı.		
Annem saçımı okşayarak beni uyandırdı.		
Ağacın dibinde üzgün üzgün oturdum.		
Sevimli tavşanım benimle konuştu.		
Elma, armutla iyi arkadaş olmuştu.		
Arkadaşım ile sinemaya gittik.		
Ablam bana kazak ördü.		
Güneş, gökyüzünden bana el salladı.		


 Aşağıdaki tavşanlar ifadelerine göre uygun olan dağa gideceklerdir. Gidecekleri dağın dairelerine, sembollerini çizelim.





 Dağın küs-
mesi





 Ayın gül-
mesi





 Topun
patlaması





 İğnenin
batması





 Sineğin
sinirlenmesi





 İnsanın
korkması




 Köpeğin
konuşması



 Telefonun
bozulması



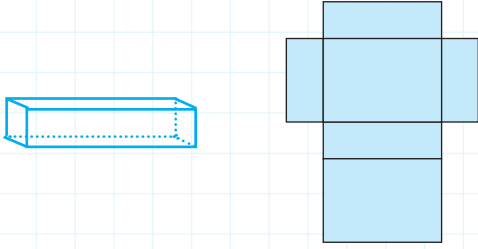
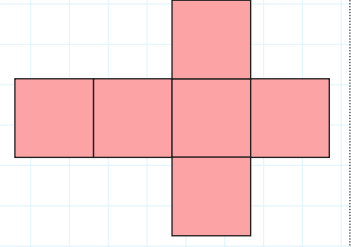
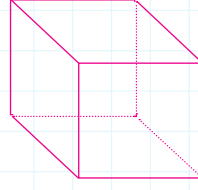
GERÇEK DAĞI



**HAYAL
UNSURU DAĞI**

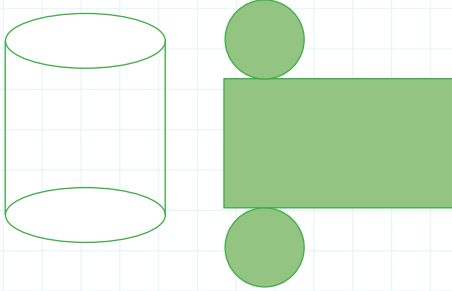

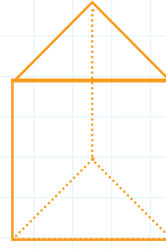
➤ Aşağıdaki geometrik cisim modellerini ve açınımlarını inceleyelim. Cümlelerdeki boşlukları dolduralım.

- Küpün yüzeyi, ayrıtı ve köşesi vardır.
- Küpün yüzeyi bölgedir.
- Küpün yüzeyleri birbirine



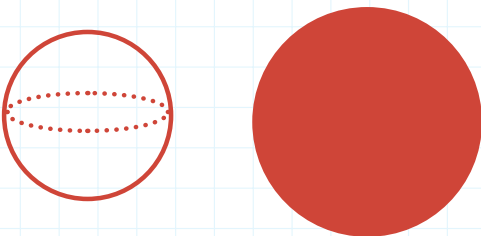

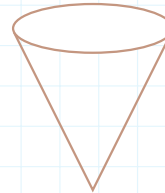
- Dikdörtgenler prizmasının yüzeyi, ayrıtı ve köşesi vardır.
- Dikdörtgenler prizmasının yüzeyleri bölgedir.
- Dikdörtgenler prizmasının karşılıklı yüzeyleri

- Üçgen prizmanın yüzeyi, ayrıtı ve köşesi vardır.
- Üçgen prizmanın 2 yüzeyi bölge, 3 yüzeyi bölgedir.




- Silindirin yüzeyi vardır.
- Silindirin ve yoktur.
- Silindirin 2 yüzeyi bölge, yan yüzeylerinin açık şekli ise bölgedir.


- Koninin yüzeyi vardır.
- Konide ve yoktur.
- Koninin 1 yüzeyi bölgedir.

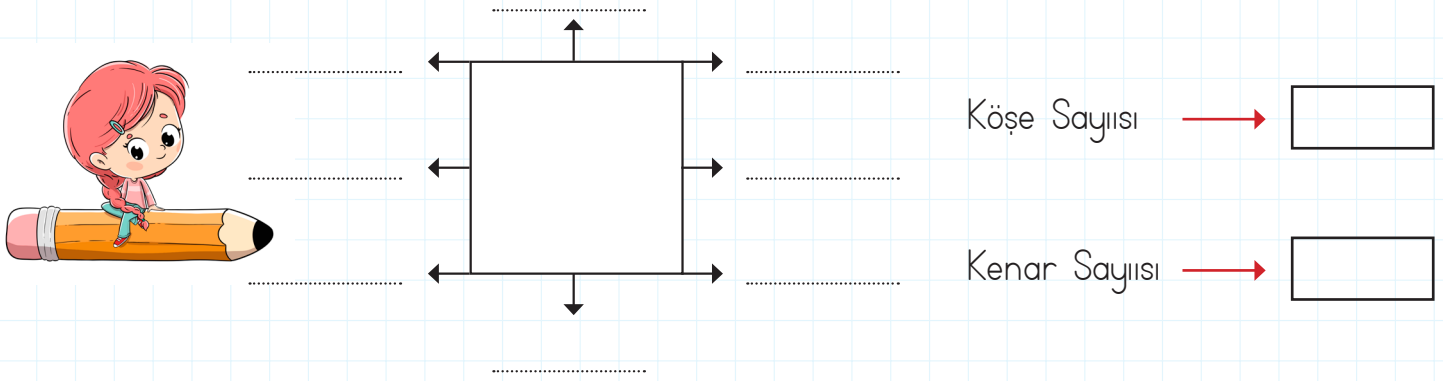


- Kürenin yüzeyi vardır.
- Kürede ve yoktur.

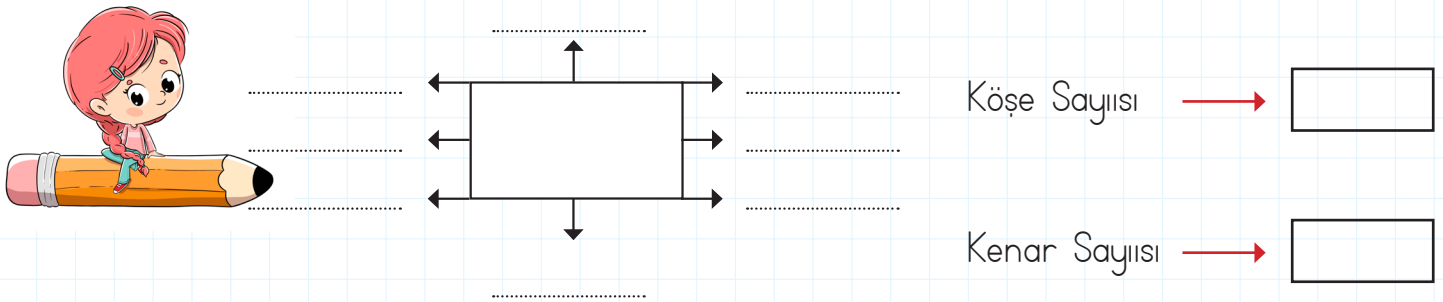
 Aşağıdaki kareli alandan yararlanarak farklı büyüklükte kare, üçgen, dikdörtgen çizelim ve boyayalım.




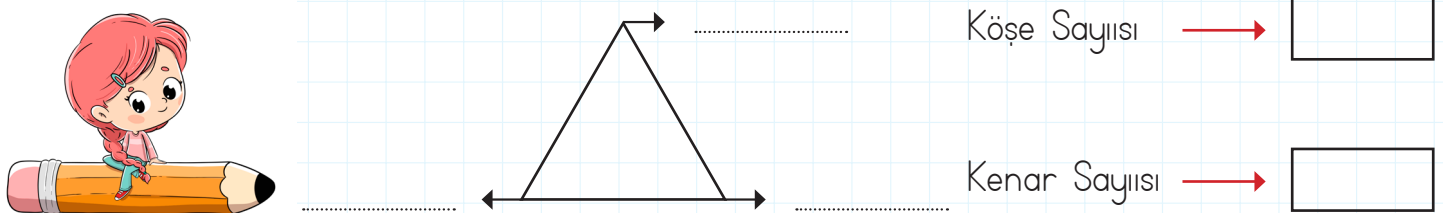
 Aşağıdaki karede okla gösterilen yerlerin isimlerini yazalım. Karenin kenar ve köşe sayılarını kutucuklara yazalım.



 Aşağıdaki dikdörtgende okla gösterilen yerlerin isimlerini yazalım. Dikdörtgenin kenar ve köşe sayılarını kutucuklara yazalım.

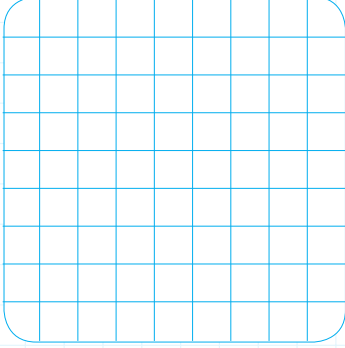


 Aşağıdaki üçgende okla gösterilen yerlerin isimlerini yazalım. Üçgenin kenar ve köşe sayılarını kutucuklara yazalım.

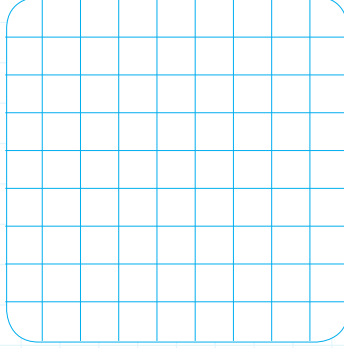


 Aşağıdaki kareli alanların üzerine kenar uzunlukları verilen kareleri çizelim.

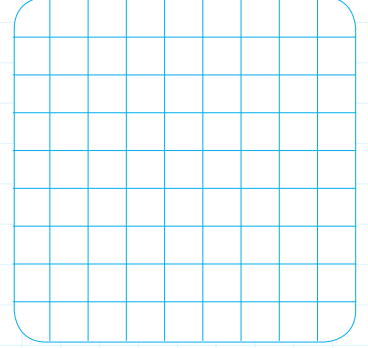
Bir kenar uzunluğu 4
birim olan kare




Bir kenar uzunluğu 5
birim olan kare

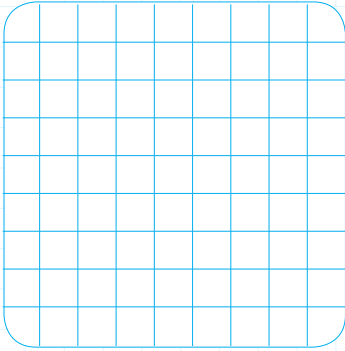


Bir kenar uzunluğu 6
birim olan kare

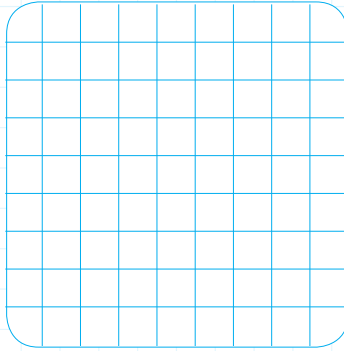


 Aşağıdaki kareli alanların üzerine kenar uzunlukları verilen dikdörtgenleri çizelim.

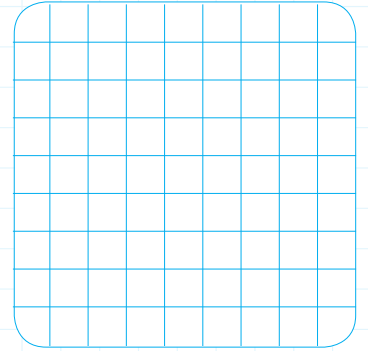
Uzun kenarı 6, kısa
kenarı 3 birim



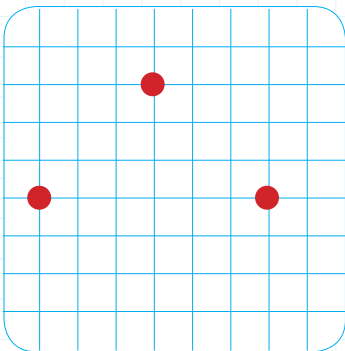
Uzun kenarı 5, kısa
kenarı 4 birim

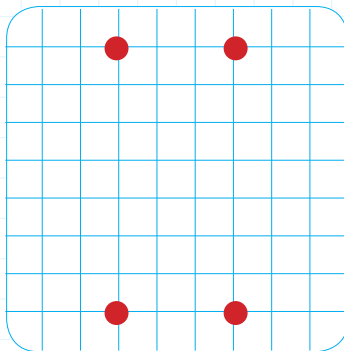


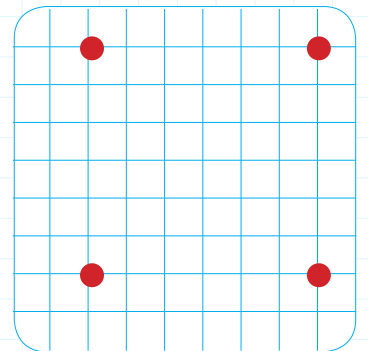
Uzun kenarı 7, kısa
kenarı 5 birim




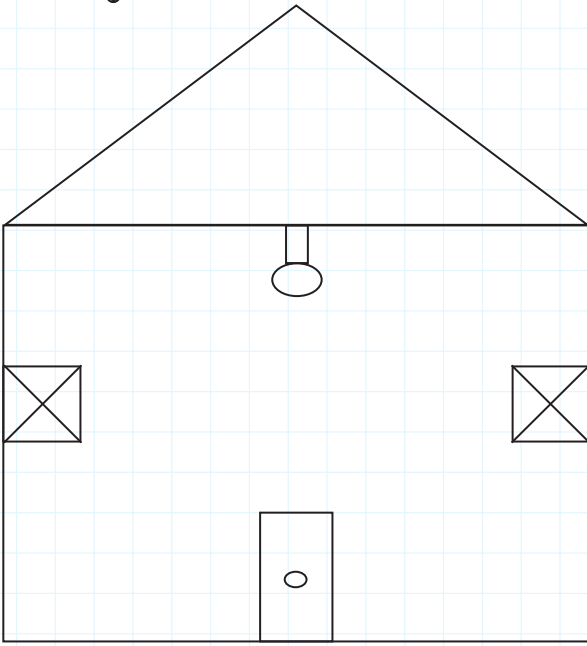
 Aşağıdaki kareli alanların üzerindeki noktaları birleştirelim. Oluşan şeklin adını yazalım.










 Noktalı yerleri görsele göre tamamlayalım.




 Görsele tane üçgensel bölge vardır.


 Görsele tane karesel bölge vardır.

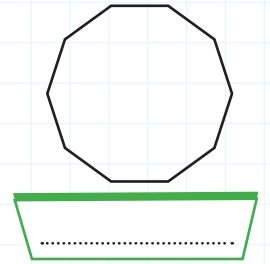
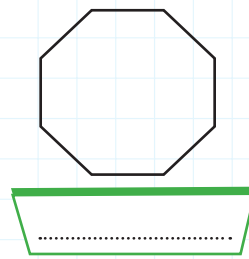
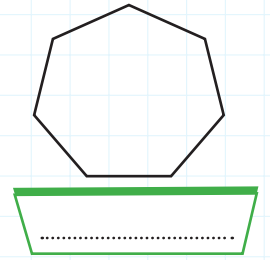
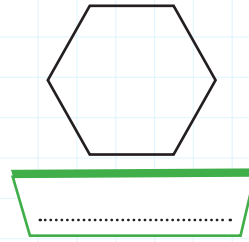
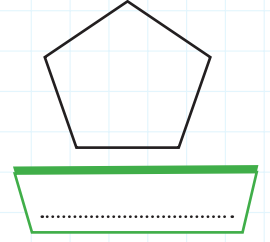
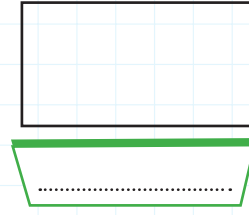
 Görsele tane dairesel bölge vardır.

 Görsele tane dikdörtgenel bölge vardır.





 Aşağıdaki ifadelerden doğru olanlara "D", yanlış olanlara "Y" yazalım.

- Karenin kenar ve köşe sayıları toplamı 8'dir.
- Üçgenin köşe sayısı, kenar sayısından azdır.
- Dikdörtgenin bütün kenarları birbirine eşittir.
- Küp kullanarak kare çizebiliriz.

 Aşağıdaki geometrik şekillerin isimlerini yazalım.



 Aşağıdaki tabloyu dolduralım.

Şekil	Kenar Sayısı	Köşe Sayısı	Açı Sayısı
			
			
			
			

1.

Bir çiftlikte 28 koyun, 17 tavuk ve 14 inek vardır. Çiftlikteki hayvanların ayak sayıları toplamı kaçtır?



Çözüm:

2.

Funda 14 yaşındadır. Annesinin yaşı Funda'nın yaşının 3 katından 3 fazla olduğuna göre ikisinin yaşları toplamı kaçtır?



Çözüm:

3.

Bir sinema salonunda 30 sıra, her sırada 22 koltuk vardır. Salonda 384 izleyici olduğuna göre boş koltuk sayısı kaçtır?



Çözüm:

4.

Bir kırtasiyeci her birinde 18 kalem bulunan 36 kutu ile her birinde 15 kalem bulunan 19 kutu kalem satmıştır. Kırtasiyeci toplam kaç kalem satmıştır?



Çözüm:

5.

İki araç aynı yerden, aynı yöne doğru hareket etmektedir. Birinin hızı saatte 70 km, diğerinin hızı saatte 78 km'dir. 8 saat sonra aralarındaki uzaklık kaç km olur?



Çözüm:

6.

Bir yolcu treninin her vagonunda 36 koltuk vardır. 17 vagonu olan trene 325 yolcu binerse kaç koltuk boş kalır?



Çözüm:

1.

50 yumurta her birine 5 yumurta konulabilen sarı kutulara, 30 yumurta her birine 6 yumurta konulabilen mavi kutulara yerleştirilecektir. Sarı ve mavi kutuların toplamı kaçtır?



Çözüm:

2.

Ceren 40 fıstığın çeyreğini Arda'ya kalan fıstıklarının yarısını da babasına vermiştir. Ceren'in kaç tane fıstığı kalmıştır?



Çözüm:

3.

96 santimetrelilik bir ipin önce $\frac{1}{8}$ 'ini daha sonra kalanın yarısını kesersem geriye kaç santimetre ipim kalır?



Çözüm:

4.

18.20'de İstanbul'da kalkan uçak 100 dakika sonra Adana'ya iniyor. Uçak indiğinde saat kaç gösterir?



Çözüm:

5.

Annem 40 dakika fırında pişen keki 20 dakika boyunca soğutuyor. Ardından hemen servis ediyor. Annem keki saat 15.20'de servis ettiğine göre saat kaçta fırına atmıştır?



Çözüm:

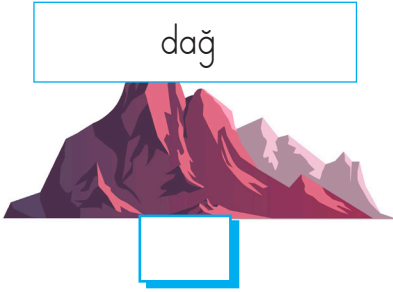
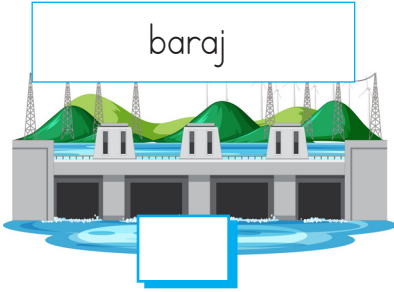


6.

Kilosu 55 lira olan etten 3 kg, kilosuz 25 lira olan tavuklardan 4 kg alan babam satıcıya 300 lira para vermiştir. Kaç lira para üstü alır?

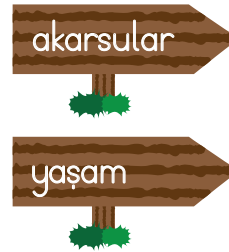
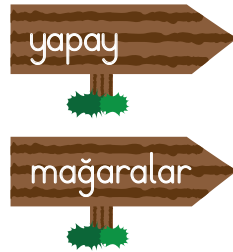
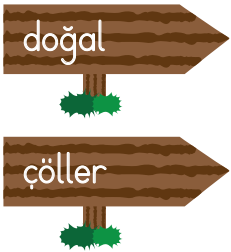


Çözüm:

✏️ Aşağıdaki görsellerden doğal olanların kutucuğunu maviye, yapay olanların kutucuğunu kırmızıya boyayalım.



✏️ Aşağıdaki cümleleri uygun keilemelerle tamamlayalım.



- ➔ Yapay çevreyi insanlar, doğadaki kullanarak oluşturmuştur.
- ➔ Artık maddelerin kullanılabilir ürüne dönüştürülebilmesine denir.
- ➔ Barajlar, yollar, hayvanat bahçeleri çevreye örnektir.
- ➔ Doğal çevreler pek çok canlının alanıdır.
- ➔, ormanlar, denizler ve dağlar doğal çevreye örnektir.
- ➔ İnsan elinin değmediği, doğada kendiliğinden oluşan çevreye çevre denir.
- ➔ Eski zamanlarda insanların yaşadığı doğal çevreye örnektir.
- ➔ Bitki örtüsünün olmadığı, kurak alanlardan oluşan doğal çevre örneğidir.



Ülkemize karşı sorumluluklarımız vardır. Ülkemizin gelişmesi için hep birlikte çalışmalıyız. Üzerimize düşen sorumlulukları yerine getirmeliyiz. Öğrenci olarak sorumluluklarımız; çalışkan olmak, başarılı olmak, kurallara uymaktır. Ayrıca ülkemizde yaşayan bireylerin genel sorumlulukları vardır. Bunlar; yasalara uymak, hak ve sorumluluklarımızı bilerek hareket etmektir. Ayrıca demokrasi, özgürlük, eşitlik gibi kavramları bilerek yaşamamız gerekmektedir.

✏️ Aşağıdaki cümleleri, verilen sözcüklerden uygun olanı ile tamamlayalım.



uyarmalıyız

tutumlu

kurallara

çalışmalıdır

bilerek

sorumlulukları

- ➡️ Ülkemizin gelişmesi için herkes çok
- ➡️ Herkes üzerine düşen görev ve yerine getirmelidir.
- ➡️ Kaynakları kullanarak ülke ekonomisine katkı sağlamalıyız.
- ➡️ Devlet malına zarar verenleri
- ➡️ uymak her vatandaşın görevidir.
- ➡️ Hak ve sorumluluklarımızı hareket etmeliyiz.

✏️ Ülkemize karşı sorumluluklarımızın kutucuklarını maviye boyayalım.

➡️ Yasalara ve kurallara her zaman uymalıyız.

➡️ Seçimlerde oy kullanmak vatandaşlık görevlerimiz arasındadır.

➡️ Derslerimize çalışıp ailemizi üzmememiz gerekmektedir.

➡️ Devlet eşyalarına zarar verenleri uyarmalıyız.

➡️ Gerektiğinde anlayamadığımız insanlarla tartışmalıyız.



1. Doğru olanı daire içine alalım.

1	School	→ a		b		c	
2	Office	→ a		b		c	
3	Bank	→ a		b		c	
4	Police Station	→ a		b		c	
5	Restaurant	→ a		b		c	
6	Shopping center	→ a		b		c	
7	Carnival	→ a		b		c	

2. Eşleştirelim ve yazalım

bank

restaurant

mosque


museum

zoo

library

market

hospital



1. Neden okula gelmeyeceksin ▲
Elindekini yere düşürdün ■
Aaa, seni böyle bilmezdim ●

Yukarıdaki sembollerin yerine hangi noktalama işaretleri kullanılmalıdır?

- A. ▲ → Soru işareti
■ → Nokta
● → Ünlem işareti
- B. ▲ → Nokta
■ → Ünlem işareti
● → Soru işareti
- C. ▲ → Ünlem işareti
■ → Soru işareti
● → Nokta

2. Aşağıdaki cümlelerin hangisinde sıra bildiren sayılar doğru yazılmıştır?

- A. Yarışmada 8.'inci oldum.
B. Binanın 4'ncü katında oturuyoruz.
C. Bilet kuyruğunda 7. sıradayım.




3.

	Özel Ad	Tür Adı
1	İlke	Hayvan
2	Ankara	Kitaplık
3	Araba	Türkiye

Yukarıdaki tabloda hangi satırdaki adlar yanlış gruplanmıştır?

- A. 1 B. 2 C. 3

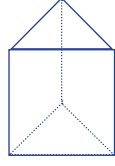
4. Aşağıdaki çocuklardan hangisi hayal ürünü bir anlatım yapmıştır?

- A.  Dün gece yıldızlarla konuştum.
- B.  Babamla denizde yüzdük.
- C.  Seni görünce mutlu oldum.

5. Aşağıdaki atasözlerinden hangisi tasarrufla ilgilidir?


- A. Bir elin nesi var, iki elin sesi var.
B. Damlaya damlaya göl olur.
C. Üzüm üzüme baka baka kararır.

1. Yandaki geometrik cismin yüz sayısı ile köşe sayısının toplamı kaçtır?



- A. 11 B. 12 C. 13

2.



Yukarıdaki düzlemsel şekiller hangi geometrik cisme aittir?

- A. Kare prizma
B. Üçgen prizma
C. Küp

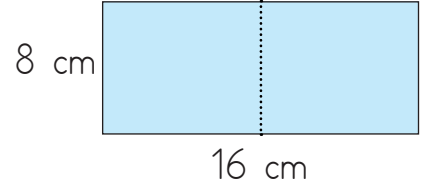
3. Aşağıdaki geometrik cisimlerden hangisinin dairesel yüzeyi yoktur?



4. Aşağıda verilen bilgilerden hangisi yanlıştır?

- A. Karenin 4 köşesi vardır.
B. Altıgenin 6 kenarı vardır.
C. Dikdörtgenin tüm kenarları eşittir.

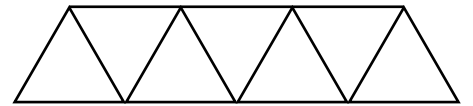
5.



Yukarıdaki dikdörtgen ortasından 2 eş parçaya ayrılıyor. Oluşan şekillerle ilgili hangisi söylenebilir?

- A. İki eş üçgen oluşur.
B. İki eş kare oluşur.
C. İki eş dikdörtgen oluşur.

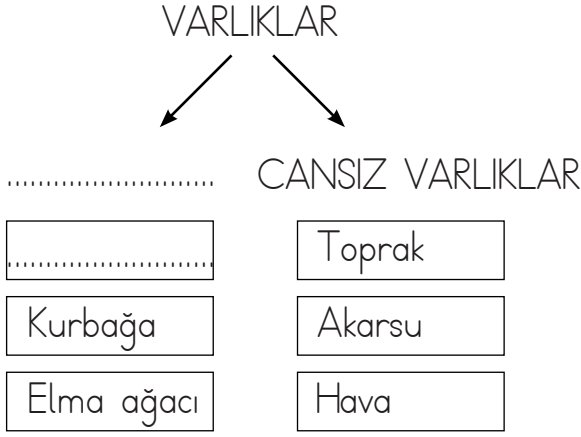
6.



Yukarıdaki şekilde kaç tane üçgen vardır?

- A. 4 B. 6 C. 7

1.



Yukarıdaki tabloda boş alanlara aşağıdakilerden hangisi yazılamaz?

- A. Canlı varlıklar
- B. İnsan
- C. Sandalye

2.

Aşağıdakilerden hangisi canlı varlıkları, cansız varlıklardan ayıran bir özellik değildir?

- A. Boşaltım
- B. Büyüme
- C. Kırılma

3.



Yukarıdaki görsel için aşağıdakilerden hangisi söylenebilir?

- A. Doğal çevreye örnektir.
- B. Yapay çevreye örnektir.
- C. İnsan eliyle yapılmıştır.

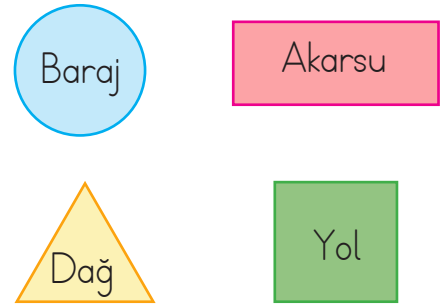
4.

Ayça her gün ormanda koşu yapardı. Koşu yolunun sonuna kadar gelmeden geri dönerdi. Bir gün yolun sonunda ne olduğunu merak etti. Gördüğü şey karşısında adeta büyülenmişti. Yolun sonunda kocaman bir dağ vardı. Ayrıca dağın yanında çok güzel bir şelale bulunuyordu.

Yukarıdaki metinde kaç tane doğal çevre türünden bahsedilmiştir?

- A. 2
- B. 3
- C. 4

5.



Yukarıda, içinde doğal çevre yazan şekiller birleştirilerek hangi şekil oluşturulabilir?

- A.
- B.
- C.

1.



Yasalara uymalıyız, çünkü
.....

İlke, cümlesini aşağıdakilerden hangisiyle tamamlamalıdır?

- A. bu bizim sorumluluğumuzdur.
- B. daha çok seviliriz.
- C. büyüklerimiz öyle istiyor.

2.

Aşağıdakilerden hangisi cumhuriyet yönetiminin getirdiği hak ve özgürlüklerle ilgili değildir?

- A. Herkes istediği şekilde davranabilir.
- B. Herkese soyadı alma hakkı verilmiştir.
- C. 18 yaşını dolduran herkes seçme ve seçilme hakkına sahip olur.

3.

Aşağıdakilerden hangisi çalışkan bir kişinin kazanımı değildir?

- A. Başarılı olur.
- B. Kendine güveni artar.
- C. Zorluklar karşısında pes eder.

4.

Aşağıdakilerden hangisi ülkemize karşı görev ve sorumluluklarımızdan biridir?

- A. İnatçı olmak
- B. Top oynamak
- C. Kurallara uymak

5.

Aşağıdaki görsellerden hangisi tarihi özellik taşımaktadır?

A.



B.



C.



TÜRKÇE

1- A

2- C

3- C

4- A

5- B

MATEMATİK

1- A

2- B

3- A

4- C

5- B

6- C

FEN BİLİMLERİ

1- C

2- C

3- A

4- B

5- C

HAYAT BİLGİSİ

1- A

2- A

3- C

4- C

5- B