


## GERGEDAN

Bu hayvanın adı gergedandır. Ortalama 40-50 yıllık ömürleri vardır. Otçul hayvanlardır. Gergedanların en ilginç özelliklerinden biri de zıplayamamalarıdır. Koku alma duyuları, görme duyularına göre çok daha kuvvetlidir. Ayrıca gergedanların atlar ve zebralarla akrabalıkları vardır.



1, 2 ve 3. soruları metne göre cevaplayalım.

1. Gergedanların ömrü ne kadardır?

- A. 40 - 50 yıl
- B. 20 - 30 yıl
- C. 30 - 40 yıl

2. Gergedanların hangi hayvanlarla akrabalıkları vardır?

- A. Atlar ve zebralar
- B. Zürafalar ve filler
- C. Kuşlar ve koyunlar




3. Yukarıdaki okuma parçasının son cümlesi kaç heceden oluşmaktadır?

- A. 23
- B. 24
- C. 25

4.



Yukarıdaki kelimelerden hangisi satır sonuna sığmadığında yanlış bölünmüştür?

- A. 
- B. 
- C. 

5.

Leyla, kalemi ters tuttuğu için yazı yazmakta zorlandı.

Yukarıda verilen cümlede aşağıdakilerden hangisinin cevabı yoktur?


- A. Kim?
- B. Niçin?
- C. Ne zaman?


Kelime	Eş anlam	Zıt anlam
ihtiyar	genç	yaşlı
büyük	iri	küçük
beyaz	ak	siyah


Yukarıdaki tabloda kelimelerin eş ve zıt anlamlıları verilirken bir hata yapılmıştır.

Aşağıdaki kelimelerden hangileri yer değiştirirse hata düzeltilmiş olur?

- A. genç - yaşlı  
B. iri - küçük  
C. ak - siyah

7.  Az ileride çok güzel kokan bir çiçek gördüm.

 Yavaş yavaş yürürken köpeği görünce hızlı adımlar atmaya başladı.

 Uzun bir yolda ince adımlarla yürüyordu.


Hangi sembolle gösterilen cümlede zıt anlamlı sözcükler bir arada kullanılmıştır?

- A.  B.  C. 

8. Aşağıdaklerden hangisi hem özel hem tür adı olarak kullanılır?

- A. Kitap B. Masa  
C. Gül

9. Oyy (1) tatlı torunum gelmiş (2)  
Yukarıdaki cümlede (1) ve (2) numaralı yerlere sırasıyla hangi noktalama işaretleri gelmelidir?




- A. (,) (.)  
B. (,) (!)  
C. (.) (?)

10.  A balon 1.   
 A bayat 2.   
 K balık 3.   
 Y bardak 4.

Yukarıdaki kelimeleri, harfleri kullanarak alfabetik olarak sıraladığımızda hangi kelimeye ulaşırız?

- A. AKAY  
B. YAKA  
C. KAYA

11. "Ağı kulaklarına varmak" deyimini anlatılan bir kişinin yüz ifadesi aşağıdakilerden hangisi gibi olur?




Çiftlikteki her hayvanın bir adı ve o hayvana ait bir su kabı bulunmaktadır. Köpeğin su kabının ismi aşağıdakilerden hangisi olabilir?

- A. Köpek  
B. Küçük  
C. Büyük

13. Aşağıdaki cümlelerin hangisinde kesme işareti yanlış kullanılmıştır?

- A. Atatürk Selanik'te doğdu.  
B. Ali'ler bize geldi.  
C. Adana'da kebab yedik.

#### 14. SORUYA GEL



Yukarıda bir bitkinin büyüme aşamaları verilmiştir. Her aşamaya belli bir kurala göre harf verilmiştir. 4. aşamadan sonra harf dizilimine göre bitkiye isim koyulmuştur. Bitkinin ismi aşağıdakilerden hangisi olamaz?

- A. KOŞU  
B. KOYU  
C. KORU

15. Aşağıdaki cümlelerin hangisinde topluluk ismi kullanılmıştır?

- A. Ormanda yangın çıkmış.  
B. Kuşlar göç ediyor.  
C. Bardağıma su doldurur musun?

1.



Toplananlar yer değiştirirse sonuç değişmez.



Bir toplama işleminde en fazla iki toplanan olur.



Bir toplama işleminde toplam, toplananlardan büyük olur.

Yukarıdaki öğrenciler toplama işlemi ile ilgili bilgiler vermiştir. Hangisi yanlış bilgi vermiştir?



2.  $47A$  doğal sayısının çift doğal sayı olabilmesi için "A" yerine yazılabilecek rakamların toplamı kaçtır?

A. 15

B. 20

C. 25

3.

$$158 + 267 = A$$

$$236 + 124 = B$$

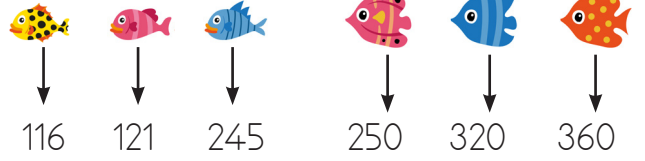
Yukarıdaki toplama işleminde  $A+B$  işleminin sonucunun onluğa yuvarlanmış hali aşağıdakilerden hangisidir?

A. 785

B. 780

C. 790

## 4. SORUYA GEL



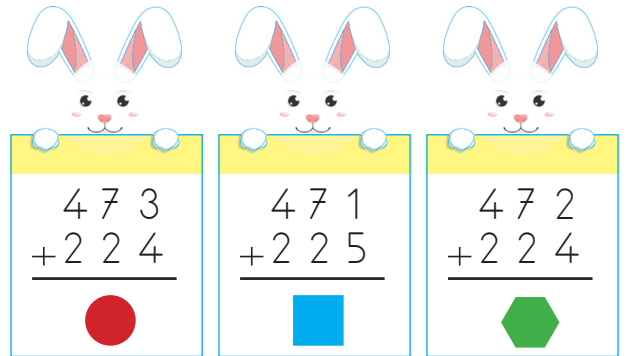
Barış, Samet ve Savaş balık tutma yarışması yapmıştır. Yarışmanın kuralı şu şekildedir:

- Küçük balık yakalayanın aldığı puan ceza puanıdır.
- Büyük balık yakalayanın aldığı puan ödül puanıdır.
- Ödül puanları toplanır, ceza puanları ise çıkarılır.

Aşağıda üçünün tuttıkları balıklar verilmiştir. Yarışmayı kazanan kim olmuştur?



5.



Yukarıdaki toplama işlemlerinde tahmini sonucu en fazla olan hangi sembolle gösterilmiştir?



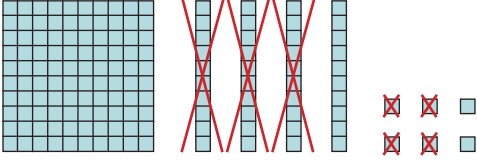
6.

$$\begin{array}{r} 47 \text{ ●} \\ + 3 \text{ ■} 8 \\ \hline 843 \end{array}$$

Yukarıdaki işleme göre ● + ■ toplamı kaçtır?

- A. 11      B. 12      C. 13

7.




Yukarıda modellenen çıkarma işlemine göre aşağıdakilerden hangisi doğrudur?

- A. Eksilen 34'tür.  
B. Çıkan 146'dır.  
C. Fark 112'dir.


8.

Yandaki 4 kibrit çöpünü de kullanarak Romen rakamları ile oluşturulabilecek en küçük sayı kaçtır?



- A. 8      B. 4      C. 7


9.



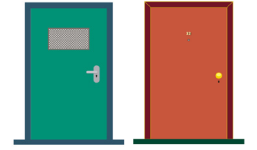
Yukarıdaki kapıların üzerinde numaraları verilmiştir.

Buna göre aşağıdaki hangi iki kapı numarası arasındaki fark en azdır?

A.



B.



C.



10.

Canan, bir kitabın birinci gün 45 sayfasını, ikinci gün 55 sayfasını, üçüncü gün ise ilk iki günün toplamı kadar sayfa okumuştur. Canan üç günde toplam kaç sayfa okumuştur?

- A. 100      B. 155      C. 200

11.



Mert koşu bandında yavaş tempo yürüyerek 1. dakikanın sonunda 120 adım atmıştır. Daha sonra hızlanarak 2. dakikanın sonunda, 1. dakikada attığı adım sayısından 130 fazla adım atmıştır. Mert 2 dakikada toplam kaç adım atmıştır?

- A. 370      B. 250      C. 130

12. Soner Öğretmen, tahtaya bir sayı yazıyor. Bu sayıdan 50 çıkarılmasını istiyor. Esmâ, bu işlemi zihinden yaparken tahtadaki sayıya yanlışlıkla 50 ekliyor ve sonucu 300 buluyor. Esmâ, bu işlemi doğru yapsaydı aşağıdaki sayılardan hangisini bulurdu?

- A. 200      B. 250      C. 350

13.

$$\begin{array}{r} 7 \text{ yüzlük} + 4 \text{ onluk} + 1 \text{ birlik} \\ 2 \text{ yüzlük} + 6 \text{ onluk} + 8 \text{ birlik} \\ \hline \end{array}$$

Yukarıdaki çıkarma işlemiyle ilgili aşağıdaki ifadelerden hangisi yanlıştır?

- A. Farkın onlar basamağı 7'dir.  
B. Fark tek sayıdır.  
C. Farkın yüzler basamağının basamak değeri 500'dür.

14.

İki çift sayının toplamı çift sayıdır.

Yukarıdaki açıklamaya örnek olarak hangisi verilebilir?

A. 
$$\begin{array}{r} 423 \\ +104 \\ \hline \end{array}$$

B. 
$$\begin{array}{r} 206 \\ +520 \\ \hline \end{array}$$

C. 
$$\begin{array}{r} 199 \\ +435 \\ \hline \end{array}$$

15.



Elmalar içerisinde verilen sayılar belli bir kurala göre dizilmiştir.

Buna göre A - B işleminin sonucu nedir?


- A. 48      B. 52      C. 56


1. Aşağıdakilerden hangisi göz sağlığımızı korumak için yapılması gerekenlerdendir?


- A. Gürültülü ortamlardan uzaklaşmalıyız.
- B. Televizyonu uygun uzaklıktan izlemeliyiz.
- C. Kötü kokan yerlerden uzak durmalıyız.

2. Bisikleti ile yokuştan inen Buse'nin yaptığı hareket aşağıdakilerden hangisidir?

- A. Dönme
- B. Hızlanma
- C. Yavaşlama

3.  Duymak için kullandığımız duyu organımızdır.

 Koku almamızı sağlayan duyu organımızdır.

 Görmemizi sağlayan duyu organımızdır.

Yukarıda duyu organlarıyla ilgili bilgiler verilmiştir. Hangi duyu organı hakkında yanlış bilgi verilmiştir?


A. 

B. 

C. 

4. Tat işi benden sorulur. Acı mı tatlı mı hemen hissederim.

Yukarıda verilen bilmecede hangi duyu organından bahsedilmiştir?



5.


Nalan çorbanın kokusunu alınca karnının aç olduğunu fark etti. Tabağa bir kaşık koydu ve tadına baktı.

Nalan bu olayda hangi duyu organını kullanmamıştır?

A. Burun

B. Dil

C. Kulak



Görselde oyun oynayan çocuklar hangi hareket türünü hiç yapmamıştır?

- A. Sallanma  
B. Dönme  
C. Hızlanma

7.



Hasan Amca oltasını attıktan sonra oltaya takılan balığı yakalamak için nasıl bir kuvvet uygulamış olabilir?

- A. İtme  
B. Çekme  
C. Sallanma

8.

Çalışan vantilatöre elimizi sokmak

Hareket halindeki oyuncak arabayı durdurmak

Düşen bıçağı tutmaya çalışmak

Yukarıdaki olaylardan kaç tanesi hareketli cisimlerin neden olabileceği tehlikelere örnektir?

- A. 1  
B. 2  
C. 3

9.

Çalışan elektrikli testere

Havalanan balon

Hafif sünger

Tepeden yuvarlanan araba

Yukarıda tehlike oluşturabilecek hareketli cisimler boyanacaktır. Boyalı hali aşağıdakilerden hangisi gibi olmalıdır?

- A. B. C.

10. Aşağıdakilerden hangisi farklı bir hareket yapar?






1.





Aşağıdakilerden hangisi yukarıdaki afişle anlatılmak istenenler arasında olamaz?

- A. Kaynaklar sınırlıdır.
- B. Kaynakları dikkatli kullanmalıyız.
- C. Kaynakları israf etmeliyiz.

2. Hangi öğrenci, çiftçilik mesleği ile ilgili doğru bilgi vermiştir?

A.  Kıyafet tamiriyle uğraşır.

B.  Sağlık alanında çalışmaktadır.

C.  Toprağı ekip biçmekle uğraşır.

3.



Yukarıdaki görsel hangi mesleğe aittir?

- A. Fırıncı
- B. Bakkal
- C. Terzi

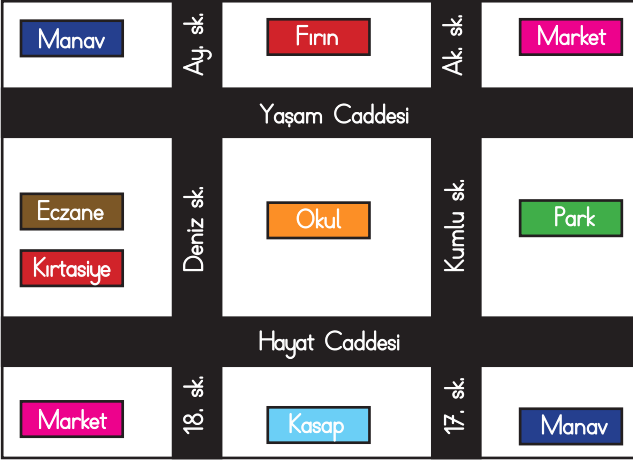
4. Ecem okul merdivenlerinden düşmüştür. Buna göre hangi öğrencinin yaptığı davranış doğrudur?

- A. Ayfer, Ecem'e sırtını dönüp yanından uzaklaşmıştır.
- B. Meltem, Ecem'in bu durumuna gülüp onunla dalga geçmiştir.
- C. Figen, nöbetçi öğretmene haber vermiştir.

5. "Bir isteği bildirmek amacıyla, resmi kurumlara yazılan yazıya ..... denir.

Yukarıdaki cümlede noktalı yere aşağıdakilerden hangisi gelmelidir?

- A. İhtiyaç
- B. Dilekçe
- C. İstek



6 ve 7. soruları yukarıdaki krokiye göre cevaplayalım.

6. Yukarıdaki krokiye göre aşağıdakilerden hangisi yanlıştır?

- A. 18. Sokak ile 17. Sokak arasında kasap bulunmaktadır.
- B. Yaşam Caddesi ile Hayat Caddesi arasında fırın bulunmaktadır.
- C. Eczane ile kırtasiye yan yanadır.

7. Yukarıdaki krokiye göre parkın çevresinde hangisi bulunmamaktadır?

- A. Market
- B. Eczane
- C. Manav

8. Aşağıdaki atasözlerinden hangisi yardımlaşma ile ilgilidir?

- A. Bir elin nesi var, iki elin sesi var.
- B. Ağaç yaşken eğilir.
- C. Sakla samanı, gelir zamanı.

9.



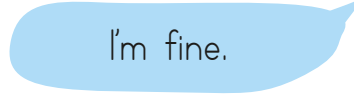
Öğretmenin tahtaya yazdığı ile ilgili doğru örnek aşağıdakilerden hangisidir?

- A. Sıraları çizmemeliyiz.
- B. Duvarları boyamalıyız.
- C. Tebeşirleri yere atmeliyiz.

10. Aşağıdakilerden hangisi yanlıştır?

- A. Düşüncelerimizi söylerken karşımadaki insanı kırmamalıyız.
- B. Farklı bir düşüncemiz varsa söylememeliyiz.
- C. Farklı düşüncelere saygı göstermeliyiz.

1.



Yukarıdaki boşuğa aşağıdakilerden hangisi gelmelidir?

A) What is your name? B) How old are you? C) How are you?

2. Aşağıdaki eşleştirmelerden hangisi yanlıştır?

A)



Good morning

B)



Good afternoon

C)



G-E-O-R-G-E

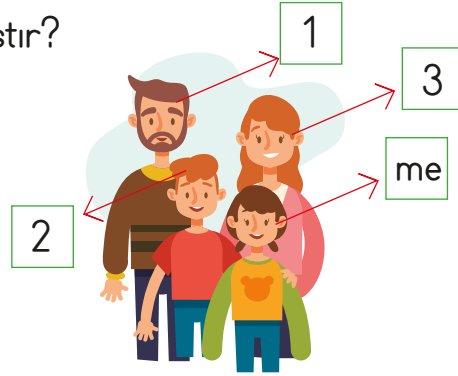
Spell your name, please

3. Aşağıdaki eşleştirmelerden hangisi yanlıştır?

A) 1 → He is my father.

B) 2 → He is my sister.

C) 3 → She is my mother.



4. Görsele göre boşluğa hangisi gelmelidir?

A) grandmother

B) grandfather

C) brother



A: Who is this?  
B: She is my .....

5. Yandaki kişi hangisini söylerse doğru olur?

A) I'm short and thin.

B) I'm fat and tall.

C) I'm short and fat.

