

## FİDAN DİKELİM

Bulut, elinde fidanla en iyi arkadaşı Serap'ın yanına gitti. Evlerinin karşısındaki parkta hiç ağaç olmadığı için Bulut oraya fidan dikmeyi düşünüyordu. Serap'ın da kendisine eşlik etmesini istiyordu. Bulut'un bu düşüncesi Serap'ın çok hoşuna gitmişti. Birlikte parka gittiler. Toprağı kazıp fidanları yerleştirdiler. Daha sonra güzelce suladılar. Her hafta o parka gidip fidanları sulamaya devam ettiler.



1, 2 ve 3. soruları metne göre cevaplayalım.

1. Bulut, elinde fidanla kimin yanına gitti?

- A. Serap'ın
- B. Ailesinin
- C. Fidan'ın

2. Bulut, neden parka fidan dikmeyi düşünüyordu?

- A. Parkta ağaç olmadığı için
- B. Fidan dikmeyi çok sevdiği için
- C. Parkı yeşillendirmek istediği için

3. Fidanı toprağa dikmek için önce ne yaptılar?

- A. Ellerine kürek aldılar.
- B. Toprağı kapattılar.
- C. Toprağı kazdılar.

4.

tasa	akıl
us	kaygı
uyarı	ikaz

Tablodaki eş anlamlı sözcük çiftleri aynı sembollerle gösterildiğinde doğru görsel aşağıdakilerden hangisi gibi olur?

- A. 

■	●
◆	◆
●	■
- B. 

●	■
■	●
◆	◆
- C. 

●	◆
●	■
■	◆

5.

Kızlar ödül alınırken erkekler alkışladı.

Yukarıdaki cümlede çoğul eki almış sözcüklerin ortak özelliği hangi seçenekte verilmiştir?

- A. Özel adlardır.
- B. Zıt anlamlı sözcüklerdir.
- C. Sesteş sözcüklerdir.

6. Dedem yuvarklak gözlüğünü takıp kırık  
 ① ②  
bastonu ile yürümeye çalışıyordu.  
 ③

Altı çizili sözcüklerden hangisi kendisinden sonra gelen sözcüğün durumunu bildirmemektedir?

- A. ① B. ② C. ③

7.



- Dikkatle dinlemek
- Korkusuz, yürekli
- Aceleden ne yapacağını şaşırarak

Seçeneklerde verilen deyimlerden hangisinin anlamı yukarıda yoktur?

- A. Gözü pek  
 B. Gözlerini dört açmak  
 C. Kulak kesilmek

8. Aşağıdaki cümlelerden hangisinin sonuna gelmesi gereken noktalama işaretinde hata yapılmıştır?

- A. Nasıl koştuğunu anlamadım?  
 B. Ne zaman geleceksin?  
 C. Ne kadar yersem o kadar kilo alıyorum.

9. Gözleri bozuk olduğu için yarın hastaneye gidecek.

Yukarıdaki cümlede aşağıdaki sorulardan hangisinin cevabı yoktur?

- A. Kim?  
 B. Nereye?  
 C. Ne zaman?

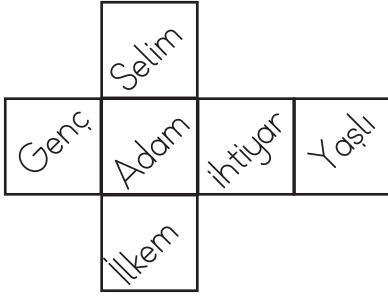
10.



Karışık verilen kelimelerden kurallı ve anlamlı bir cümle oluşturulursa sonuna hangi noktalama işareti gelmez?

- A. Nokta  
 B. Ünlem işareti  
 C. Soru işareti

## 11. SORUYA GEL



Yukarıda bir küpün açılımı verilmiştir. Küpün kapalı halinde karşılıklı yüzlere gelen kelimeler hakkında aşağıdakilerden hangisi söylenemez?

- A. Eş anlamlı kelimelerin yazılı olduğu karşılıklı yüz vardır.
- B. Zıt anlamlı kelimelerin yazılı olduğu karşılıklı yüz vardır.
- C. Özel adların yazılı olduğu karşılıklı yüz vardır.

## 12.

- ★ geldi - arkadaşım - eve
- okumayı - seviyorum - kitap
- dün - abimin - kazağı

Hangi sözcük grubuyla cümle oluşturulamaz?

- A. ■      B. ●      C. ★

## 13. SORUYA GEL

Simge, defterine bir cümle yazmıştır. Yazılan cümle ilgili şu bilgiler verilmiştir:

- Cümle 6 sözcükten oluşmaktadır.
  - Cümlede birbiri ardınca sıralanmış 4 tane ad vardır.
  - Birbiri ardınca sıralanmış adlardan ikisinin arasına "ve" sözcüğü konulmuştur.
- Yukarıda verilen bilgilere göre Simge, kaç tane virgül kullanmış olabilir?

- A. 1      B. 2      C. 3

## 14.

Eylem'in, elindeki kitabı yere dü( ) şürmesine çok üzüldüm.

Yukarıdaki cümlede parantez "( )" içine hangi noktalama işareti gelmelidir?

- A. Uzun çizgi (—)
- B. Kısa çizgi (-)
- C. Soru işareti (?)

## 15.



Rüzgar eken ..... biçer.

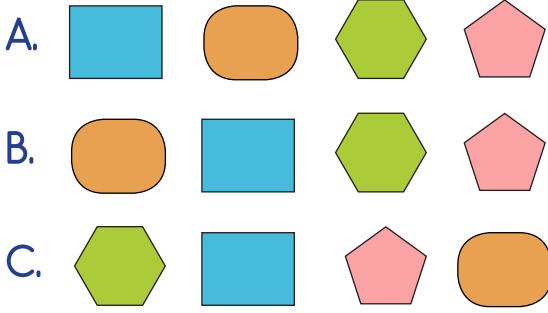
Yukarıdaki atasözünde noktalı yere aşağıdakilerden hangisi gelmelidir?

- A. kasırga
- B. yağmur
- C. fırtına

1.



Dairenin ve karenin içinde yazan sayılar en yakın onluğa yuvarlandıktan sonra tüm sayılar küçükten büyüğe doğru sıralandı. Sıralama aşağıdakilerden hangisi gibi olmalıdır?



2.

D Bir çıkarma işleminde eksilenden farkı çıkarırsak çıkanı buluruz.

Y Bir toplama işleminde verilmeyen toplananı bulmak için toplamdan verilen toplananı çıkarırız.

D Fark, çıkarma işleminin elemanlarından biridir.

Canan yukarıdaki ifadelerden doğru olanlara "D", yanlış olanlara "Y" yazmıştır. Canan kağıdında hata fark etmiştir. Aşağıdakilerden hangisini yaparsa hatasını düzeltmiş olur?

- A. "D" yazdıklarından birini "Y" harfine çevirerek
- B. Tamamını "D" harfi yaparak
- C. Tamamını "Y" harfi yaparak

3. A → İki basamaklı en büyük çift sayıdır.

B → Üç basamaklı rakamları farklı en küçük sayıdır.

C → En büyük rakamdır.

Yukarıdaki bilgilere göre aşağıdakilerden hangisinin sonucu çift sayıdır?

A.  $A + B$

B.  $A + C$

C.  $C + B$

4. Bir kırtasiyede bir haftada 4 deste silgi, 3 düzine kalem satılmıştır. Kalem ve silgilerin başlangıçtaki toplamı 95 ise geriye satılmayan kaç kalem ve silgi kalmıştır?

A. 19

B. 32

C. 48

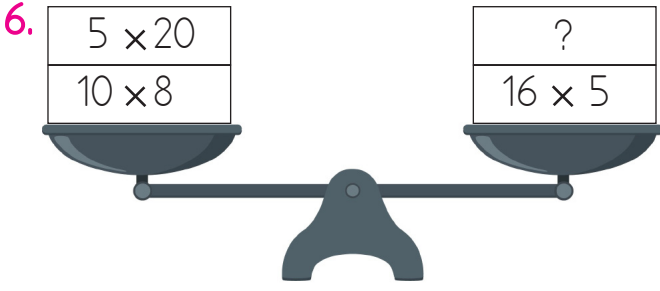
5. Küçük kuşun yuvasına uçması için konduğu daldan 30 metre yükseğe çıkması gerekmektedir. Yuvasının yerden yüksekliği 37 metre olduğuna göre dalın üzerindeki kuş yerden kaç metre yüksektedir?



A. 67

B. 47

C. 7



Yukarıdaki terezinin dengede olabilmesi için "?" yerine hangi işlem gelmelidir?

- A.  $10 \times 10$                       B.  $12 \times 5$   
C.  $10 \times 7$

7. Üç kardeşin yaşları toplamı 45'tir. En küçüğü 12 yaşında ise diğer ikisinin 4 yıl sonra yaşları toplamı kaç olur?

- A. 41                      B. 37                      C. 33

8. A, B birer doğal sayı olmak üzere,  
 $3 < A < 9$   
 $5 < B < 12$   
İse  $A \times B$  işleminin sonucu en fazla kaç olabilir?

- A. 108                      B. 88                      C. 68




Not: Her resim 5 kişiyi göstermektedir.

Yukarıdaki tabloya göre armut sevenler muz sevenlerden kaç fazladır?

- A. 1                      B. 7                      C. 5

10.



Celil yukarıdaki iki ağaç arasına onar adım mesafelerle ağaçlar dikecektir. Dikilen ağaçlardan sonra alanda toplam kaç ağaç olur?

- A. 5                      B. 6                      C. 4

Bölünen	Bölen	Bölüm	Kalan
279	7		■
●	6	29	4

Bölme işlemi tablosuna göre sembollerle gösterilen yerlere gelmesi gereken sayılar hangileridir?

- A. ● → 178      B. ● → 226  
 ■ → 6              ■ → 5
- C. ● → 198  
 ■ → 4

12. Her birinde dokuzar kalem olan 12 kalem kutusundaki kalemlerin tamamını 3 arkadaşına eşit olarak paylaştım. Her birine kaç kalem düşer?

- A. 54      B. 48      C. 36

13.

A	B
-----	
	9
-----	
2	

B	2
-----	
	1
-----	
1	

Yukarıda "A" yerine aşağıdakilerden hangisi gelmelidir?

- A. 45      B. 38      C. 29

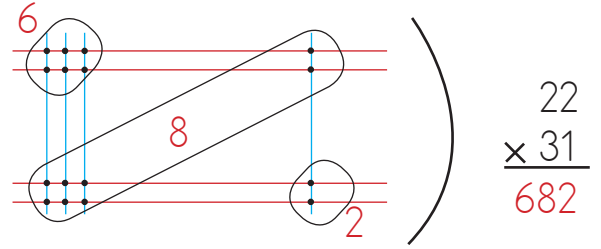
14.

÷	2	3	6
36	A	D	G
42	B	E	H

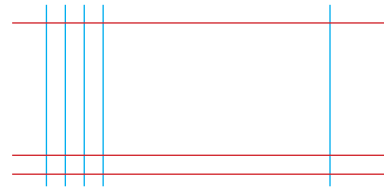
Yukarıdaki tabloya göre harflerin yerine gelmesi gereken sayıların toplamı aşağıdakilerden hangisidir?

- A. 69      B. 78      C. 85

15. SORUYA GEL



Yukarıda Japon çarpma metoduna göre iki basamaklı iki sayının çarpımı verilmiştir. Yatay çubuklar iki basamaklı bir sayıyı, dikey çubuklar ise iki basamaklı diğer sayıyı göstermektedir.



Yukarıdaki Japon metoduna göre yapılan işlemin sonucu hangisidir?

- A. 45      B. 492      C. 33

1.



Yukarıdaki ışık kaynaklarından kaç tanesi yapay ışık kaynağıdır?

- A. 1                      B. 2                      C. 3

2. Aşağıdaki ifadelerden hangisi yanlıştır?

- A. Cam pürüzlü bir maddedir.  
B. Su akışkandır.  
C. Tahta katı bir maddedir.

3.



Loş ışıkta kitap okumayı çok seviyorum.

Emre'nin ifadesi için aşağıdakilerden hangisi söylenebilir?

- A. Yazıları daha net görür.  
B. Çok daha iyi okur.  
C. Göz sağlığı olumsuz etkilenebilir.

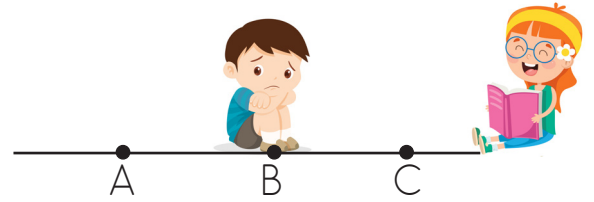
4. Aşağıdaki tabloda esnek maddelerin yazılı olduğu kutular boyanacaktır.

Cam	Tahta	Taş	Yay
Kum	Sünger	Kağıt	Lastik

Boyama tamamlandığında tablonun son görünümü nasıl olur?

- A.
- B.
- C.

5.



Erdal, Merve'nin sesini iyi duyamadığı için oldukça üzgündür. Çünkü kitap-taki hikayeyi çok merak etmektedir. Erdal, Merve'nin sesini daha şiddetli duymak için aşağıdakilerden hangisini yapmalıdır?

- A. A noktasına gitmelidir.  
B. C noktasına gitmelidir.  
C. Oturduğu yerde kalmalıdır.

6. Aşağıdaki ortamların hangisinde kalmak işitme duyusuna zarar verebilir?

A.



B.



C.



7. Işık ve sesin fark edildiği duyu organları hangi seçenekte doğru olarak verilmiştir?

	<u>Işık</u>	<u>Ses</u>
--	-------------	------------

- |    |       |       |
|----|-------|-------|
| A. | Göz   | Kulak |
| B. | Göz   | Burun |
| C. | Burun | Kulak |

8. Aşağıdakilerden hangisi ses ve ışık kaynağıdır?

- |           |          |
|-----------|----------|
| A. Davul  | B. Güneş |
| C. Şimşek |          |

9.



Yukarıdaki ses kaynaklarıyla aynı grupta yer alanlar hangi seçenekte doğru verilmiştir?

- |    | <u>a</u> | <u>b</u> |
|----|----------|----------|
| A. | telefon  | ayı      |
| B. | insan    | radyo    |
| C. | yıldırım | rüzgar   |

10. ( ) Şimşek, yıldız, güneş ve mum doğal ışık kaynaklarıdır.

( ) Işık varlıkları görmemiz için gereklidir.

( ) Duymamıza yardımcı olan duyu organımız kulaktır.

Yukarıdaki ifadelere göre doğru olanlara "D", yanlış olanlara "Y" yazdığımızda sıralama hangisi gibi olur?

- |        |        |        |
|--------|--------|--------|
| A. (D) | B. (Y) | C. (Y) |
| (Y)    | (D)    | (D)    |
| (D)    | (D)    | (Y)    |



1.  Tırnak bakımına ve temizliğine önem verir.  
 Dişlerini haftada iki defa fırçalar.  
 Giysilerini temiz tutmaya özen gösterir.

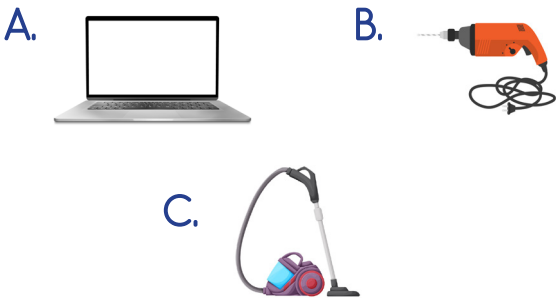
Kişisel temizliğe önem veren bir kişi yukarıda verilenlerden hangilerini yapar?

- A.   B.   C.


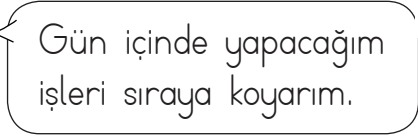

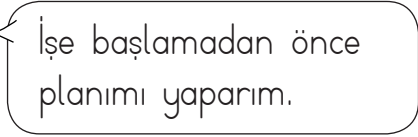

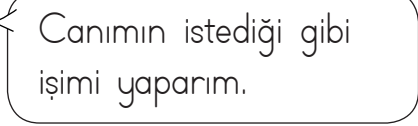
2. Derya almak istediği hikaye kitabı için harçlıklarından birikim yapıyor. Derya için aşağıdakilerden hangisi söylenebilir?

- A. Para harcarken planlı hareket etmiyor.  
B. Aile bütçesine önem veriyor.  
C. İstekleri ihtiyaçlarından önce geliyor.

3. Aşağıdaki teknolojik ürünlerden hangisi ev temizliğinde kullanılır?



4. Hangi öğrencinin düzenli ve planlı yaşadığını söyleyemeyiz?

- A.  
- B.  
- C.  

- 5.



Yukarıdaki görselle ilgili aşağıdakilerden hangisi söylenebilir.

- A. Ortak kullanım alanı olduğu için temiz bırakmalıyız.  
B. Ortamda düzenli olmamalıyız.  
C. Oyun oynarken çevredekilerin rahatsız olması bizi ilgilendirmez.

6. Sokakların temiz bırakılması için belediye ekipleri ..... koymuştur.

Yukarıdaki noktalı alana aşağıdakilerden hangisi getirilebilir?

- A. süpürge
- B. çöp kovası
- C. peçete

7. Sergen ve ailesi aşağıdakilerden hangisini yaparsa kaynakları verimli kullanmış olurlar?



- A. Suyu kullanmadıklarında musluğu kapatırlarsa
- B. Diş fırçalarına bol bol diş macunu sürerlerse
- C. Dişlerini fırçalarken suyu açık bırakırlarsa

8. Aşağıdakilerden hangisi temizlik ve hijyen kurallarıyla ilgili olumsuz bir davranıştır?

- A. Çöpleri çevreye değil, çöp kutusuna atmamız.
- B. Günde sadece bir kez elimizi yıkamamız yeterli olur.
- C. Günde en az 2 kez dişlerimizi fırçalamamız.

9. Aşağıdakilerden hangisi ortak kullanım alanlarından değildir?




10.



Yukarıdaki görsel için aşağıdaki yorumlardan hangisi yapılabilir?

- A. Dengeli ve düzenli beslenmektedir.
- B. Sağlıklı gıdalar tüketmektedir.
- C. Yedikleri, kilo almasına neden olmaktadır.

1.



Resme göre hangi seçenek doğrudur?

- A) There are five kites.      B) There are three kites.      C) There are six kites.

2.

They are my .....



Konuşma balonunda boş bırakılan yere hangi seçenek gelmelidir?

- A) kite      B) balls      C) toys

3. Hi! I'm Sema. I have a teddy bear and playing cards.

Verilen ifadede söylenmemiş olan resmi işaretleyiniz?


A)



B)



C)



4.



It is a .....



Konuşma balonunda boş bırakılan yere hangi seçenek gelmelidir?

- A) doll      B) teddy bear      C) block

5.



My ball is .....

Konuşma balonunda boş bırakılan yere hangi seçenek gelmelidir?

- A) orange      B) green      C) blue