

Yunuslar yüksek derecede zeki olan ve insanlar tarafından çok sevilen deniz canlılarıdır. Balinalarla aynı aileden gelmektedirler. Yunuslar da yarasalar gibi yönlerini bulmak ve avlanmak için seslerini kullanırlar. Yüksek frekanslı sesin objelere ya da diğer canlılara çarpıp yansması sonucu oluşan ekodan faydalanırlar. Boğulmalarını engellemek amacıyla yunuslar uyduklarında beyinlerinin sadece yarısı uykuya dalar, bu şekilde uyanık kalan yarısı sayesinde nefes almaya devam edebilirler. Yunuslar oyunculukları ve atiklikleriyle meşhurdurlar. Bu yüzden izlemesi en keyif veren hayvanlardan biridirler.



1 ve 2. soruyu metne göre cevaplayalım.

1. Aşağıdakilerden hangisi metne göre yunusların özelliklerinden birisi değildir?

- A. Yüksek derecede zekidirler.
- B. İnsanlar tarafından çok sevilirler.
- C. Balinalarla aynı aileden gelirler.
- D. Avlanmak için hızlarını kullanırlar.

2. Yunusların uyduklarında beyinlerinin yarısının uyanık kalmasının sebebi nedir?

- A. Boğulmalarını engellemek için
- B. Uyurken yemek yemek için
- C. Çevrelerini daha iyi görebilmek için
- D. Oyun oynamak için

3. Aşağıdaki cümlelerin hangisi benzetme cümlesidir?

- A. Nereden geldiğini söylemendenin.
- B. Sınıfın en başarılısı Mehmet oldu.
- C. Bağırıldığı için sesi kısıldı.
- D. Buradan dev gibi bir yılan geçti.

4. Aşağıdaki cümlelerin hangisinde altı çizili sözcüğün eş seslisi yoktur?

- A. Marketten iki ekmek aldım.
- B. Atletizmde ilk derecesini kazandı.
- C. Arda çok yüksekte düsmüs.
- D. Siyah bir palto aldım.

5.

1 - yaş

2 - derman

3 - uslu

4 - cömert

a - yaramaz

b - cimri

c - kuru

d - dert

Yukarıdaki sözcükler zıt anlamlıları ile eşleştirilirse aşağıdaki tablolardan hangisi doğru olur?

A.	1	2	3	4
	b	a	c	d

B.	1	2	3	4
	c	d	a	b

C.	1	2	3	4
	c	a	d	b

D.	1	2	3	4
	a	c	b	d

6.



Yukarıdaki çocuğun ifadesinde ● sembolüyle gösterilen yere aşağıdaki ifadelerden hangisi gelmelidir?

- A. Mecaz
- B. Terim
- C. Gerçek
- D. Deyim

7. "Gel" sözcüğü aşağıdakilerden hangisinde "biz" kişinin yerine gelecek şekilde geçmişte yapılmış olarak kullanılmıştır?

- A. geliyorlar
- B. gelmişsin
- C. gelmiştik
- D. geliyoruz

8. Aşağıdaki ifadelerden hangisi yanlıştır?

- A. Atasözlerinin söyleyeni bellidir.
- B. Deyimler, öğüt verme amacı taşımazlar.
- C. Deyimler ve atasözleri kalıplaşmış sözlerdir.
- D. Deyimlerin söyleyeni belli değildir.

9. Aşağıdaki cümlelerden hangisinde altı çizili sözcükler mecaz anlamlarıyla kullanılmıştır?

- A. Seni kırdığımı sanmıştım.
- B. Ödevlerim dağ gibi birikti.
- C. Soğuk havalarda hep dışarı çıkar.
- D. Bu projesiyle bize ışık oldu.

10.

T.B.M.M.	mye	vb.leri
prof.	MEB'e	İst.da

Yukarıdaki tabloda kısaltmalar ve kısaltmalara gelen eklerin yazılışında hata yapılanlar kırmızıya boyanacaktır. Tablonun son görünümü aşağıdakilerden hangisidir?

- A.

- B.

- C.

- D.

11. Aşağıdaki cümlelerin hangisinde türü farklı bir ön ad kullanılmıştır?
- A. Uzun elbisesini kısaltması için terziye götürdü.
 B. Alışveriş merkezinden bu kazağı aldım.
 C. Siyah köpek bize doğru yaklaşıyordu.
 D. Geziye pembe çantasıyla geldi.

12. Aşağıdaki cümlelerin hangisinde "için" sözcüğü cümlede sebep - sonuç ilişkisi kurmamıştır?
- A. Bağırıldığı için ona küstüm.
 B. Koştuğun için terlemişsin.
 C. Hastalandığım için okula gelemedim.
 D. Senin için çok uzak yoldan geldim.

13.

- Serkan, sınıfın en çalışkanıdır.
- Fil, aslandan daha büyüktür.
- Adana'da hava çok sıcakmış.
- Ağrı Dağı, Türkiye'nin en büyük dağıdır.

Yukarıdaki cümlelerden kaç tanesi karşılaştırma anlamı içerir?

- A. 1 B. 2 C. 3 D. 4

14. Aşağıdaki cümlelerin hangisinde yazım hatası yapılmıştır?

- A. Parkta, Hasan'ın kolu kırıldı.
 B. Törene, Serhan Bey katıldı.
 C. Hasanlar, Başkent Ankara'ya gitmişler.
 D. Fen Bilgisi dersinde Dünya'nın hareketleri konusunun işledik.

15.

1 - Ona da bunu vermeli miydimki?

2 - Ağaçtaki kuşta mı gitti?

3 - Senki bu dersi demi geçemedin?

4 - Osman, sendeki kalemleri de mi aldı?

Derste yazım kuralları konusunu işleyen Ali Öğretmen öğrencilerden Orkun, Ahmet, Veli ve Pelin'den bazı cümleler yazmalarını istemiştir. Çocukların yazdıkları cümleler ile ilgili aşağıdaki bilgiler verilmiştir.

Pelin'in cümlesinde yazım hatası bulunmamaktadır.

Orkun "de" yi doğru yazamamıştır.

Veli "ki" yi doğru yazamamıştır.

Ahmet "mi" ve "ki" yi doğru yazamamıştır.

Buna göre çocukların kurdukları cümle eşleştirilmesi ile ilgili aşağıdakilerden hangisi doğrudur?

- | | |
|--------------|--------------|
| A. Pelin → 2 | B. Pelin → 2 |
| Orkun → 3 | Orkun → 1 |
| Veli → 1 | Veli → 4 |
| Ahmet → 4 | Ahmet → 3 |
| C. Pelin → 4 | D. Pelin → 4 |
| Orkun → 2 | Orkun → 3 |
| Veli → 1 | Veli → 2 |
| Ahmet → 3 | Ahmet → 1 |

1.

$$\begin{array}{r} A \quad 15 \\ \hline \quad 22 \\ \hline \end{array}$$

Yukarıdaki bölme işleminde A'nın alabileceği en büyük değer ile en küçük değer toplamı kaçtır?

- A. 574
- B. 594
- C. 644
- D. 674

2. Koray 22 yaşındadır. Koray'ın dedesinin yaşı Koray'ın yaşının 4 katından 12 eksiktir. Koray ile dedesinin yaşları toplamı kaçtır?

- A. 88
- B. 94
- C. 97
- D. 98

3.

$$\begin{array}{r} 48 \text{ dk } 29 \text{ sn} \\ - 45 \text{ dk } 57 \text{ sn} \\ \hline \end{array}$$

Yukarıdaki çıkarma işleminin sonucunun saniye türünden eşiti aşağıdakilerden hangisidir?

- A. 112
- B. 152
- C. 182
- D. 212

4.



Sezgin, Adem ve Ahmet toplanıp dakikada okudukları kelime sayısını hesaplıyorlar. Çocukların dakikada okudukları kelime sayıları hakkında aşağıdaki bilgiler veriliyor.

Ahmet'in bir dakikada okuduğu kelime sayısı Sezgin'in bir dakikada okuduğu kelime sayısının $\frac{6}{8}$ 'ine eşittir.

Adem'in bir dakikada okuduğu kelime sayısı Ahmet'in bir dakikada okuduğu kelime sayısının 2 katından 18 eksiktir.

Sezgin bir dakikada 240 kelime okumuştur.

Buna göre Adem'in bir dakikada okuduğu kelime sayısı kaçtır?

- A. 242
- B. 342
- C. 362
- D. 382

5. Bir manavda bulunan 930 kilogram patates 12 ve 15 kilogram alan çuvalara konulacaktır. 15 kilogram alan çuvalardan 22 adet kullanıldığına göre kaç tane 12 kilogramlık çuvala ihtiyaç vardır?

- A. 48
- B. 49
- C. 50
- D. 51

6. 18.15'te başlayan sinema filmi 195 dakika sürüyor. Buna göre bu filmin bitiş saati kaçtır?

A. 21.30
B. 21.45
C. 22.00
D. 22.30

7.

Şehirler	Varış Süresi
Adana - Ankara	6 saat 25 dakika
Hatay - Aydın	11 saat 15 dakika
İzmir - Bursa	3 saat 25 dakika

Yukarıda bazı şehirlerin birbirleri arasındaki yolculuk süreleri verilmiştir. Buna göre aşağıdaki yorumlardan hangisi yanlıştır?

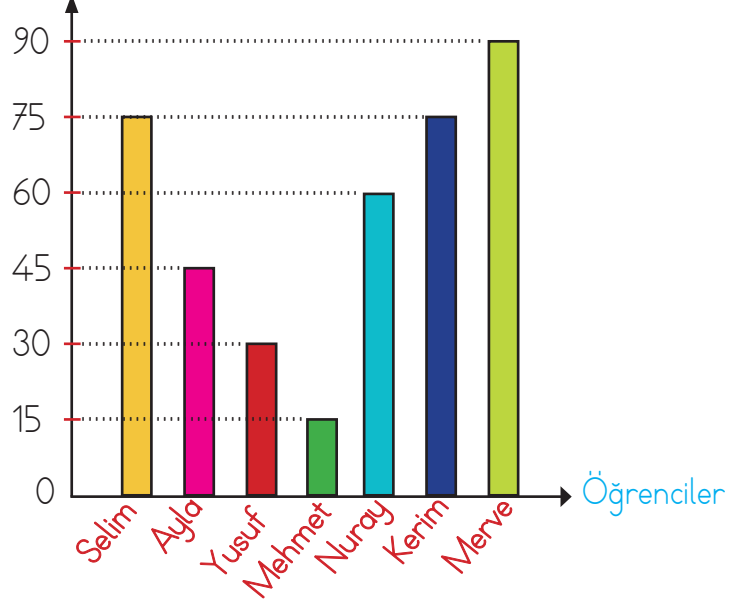
- A. Adana'dan 11.00'da yola çıkan bir kişi Ankara'ya 17.25'te varacaktır.
B. İzmir - Bursa arası yolculuk 205 dakika sürmektedir.
C. Hatay'dan saat 23.00'da yola çıkan bir kişi Aydın'a 09.15'te varacaktır.
D. Adana, Ankara arası yolculuk 23100 saniye sürmektedir.



Yukarıdaki sayı doğrusunda gösterilen A, B ve C noktalarıyla ilgili aşağıdaki ifadelerden hangisi yanlıştır?

- A. $C < 1$
B. $B > \frac{6}{8}$
C. $A > \frac{1}{8}$
D. $C > B$

Alınan Oy Sayısı



Grafik : Okul temsilciliği seçiminde alınan oy sayıları

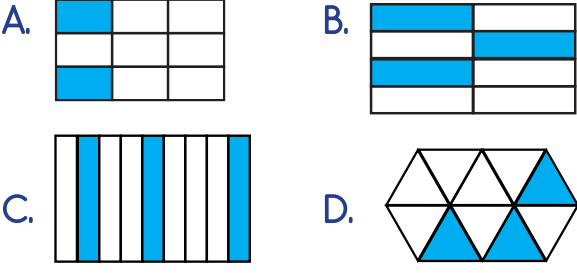
Yukarıdaki grafikte okul temsilciliği seçimine katılan adayların aldıkları oy sayıları verilmiştir. (9 ve 10. soruları yukarıdaki tabloya göre cevaplayalım.)

9. Okulda bulunan tüm öğrencilerin oy kullandığı bilindiğine göre bu okulda kaç öğrenci vardır?
- A. 360
B. 370
C. 380
D. 390

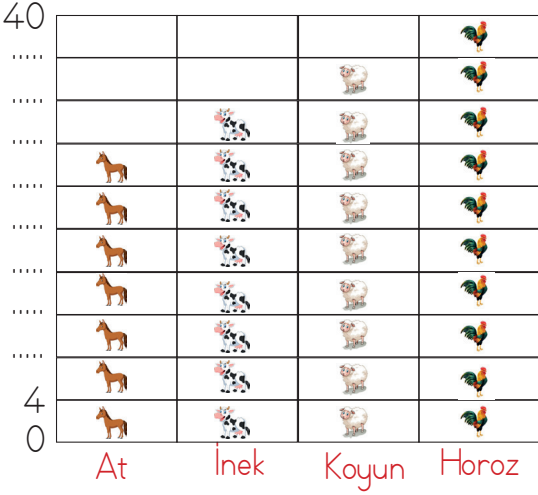
10. Kerim'in okul temsilcisi seçilmesi için en az kaç oy daha alması gerekirdi?

A. 16
B. 17
C. 18
D. 19

11. Aşağıdakilerden hangisi $\frac{8}{9} - \frac{5}{9}$ işleminin sonucu olan kesrin modelini ifade eder?



Grafik : Çiftlikteki hayvan sayıları



Her şekil 4 hayvanı göstermektedir.

Yukarıdaki şekil grafiğine göre (12. ve 13. soruyu cevaplayalım.)

12. Bu çiftlikte toplam kaç hayvan bulunmaktadır?
A. 120 B. 128 C. 136 D. 140
13. Bu çiftlikte bulunan koyun ve horozların ayak sayıları toplamı kaçtır?
A. 188
B. 204
C. 216
D. 224

14. Aydan 2005'ten sonraki ilk artık yılda Şubat ayının son gününde doğmuştur. Buna göre Aydan'ın 22 Mayıs 2013'teki yaşı gün ay yıl olarak aşağıdakilerden hangisidir?

- A. 5 yıl 1 ay 23 gün
B. 5 yıl 1 ay 18 gün
C. 5 yıl 2 ay 23 gün
D. 5 yıl 3 ay 23 gün

15. SORUYA GEL



$$\frac{1}{3}$$



$$\frac{3}{4}$$



$$\frac{2}{8}$$



$$\frac{6}{9}$$

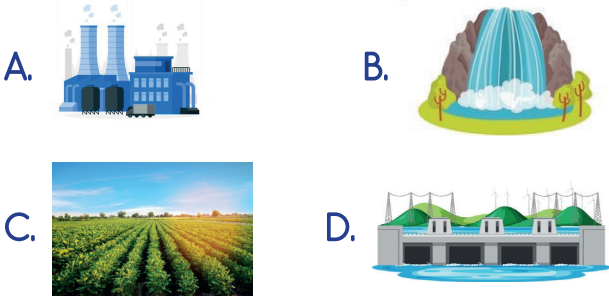
Yukarıdaki dört arabanın yakıt depoları eşit miktarda benzin almaktadır. Arabaların yakıt depolarındaki benzinin oranları verilmiştir. 2 numaralı arabada 162 litre benzin olduğuna göre dört arabadaki benzinlerin toplam miktarı kaç litredir?

- A. 430
B. 431
C. 432
D. 444

1. I. Dünya Savaşı sonunda yenik kabul edilen Osmanlı Devleti, İtilaf Devletleri ile aşağıdaki antlaşmalardan hangisini imzalamıştır?

- A. Lozan Barış Antlaşması
- B. Gümrü Antlaşması
- C. Mondros Ateşkes Antlaşması
- D. Moskova Antlaşması

2. Aşağıdakilerden hangisi "doğal unsurlardan" bir tanesidir?



3. Aşağıdaki ifadelerden hangisi yanlıştır?

- A. Doğal bitki örtüsünün korunması çeşitli afetleri önler.
- B. Evleri dere yakınına kurmak çok tehlikelidir.
- C. Doğal afetlere karşı korunmanın en önemli yolu insanları bilinçlendirmektir.
- D. Deprem sırasında varsa binadaki asansör kullanılmalıdır.

4.



Genellikle bitki örtüsü olmayan engebeli, dağlık ve eğimli arazilerde kar kütlelerinin yamaçtan aşağı doğru hızla kayması sonucu oluşan doğal afettir.

Can'ın tanımını yaptığı doğal afet aşağıdakilerden hangisidir?

- A. Heyelan
- B. Deprem
- C. Çığ
- D. Sel

5.



Yukarıdaki teknolojik aletlerin kullanım alanları hangi seçenekte doğru olarak verilmiştir?

- | | | | |
|----|---|---|---|
| |  |  |  |
| A. | Ulaşım | Temizlik | İletişim |
| B. | Sağlık | Temizlik | İletişim |
| C. | Sağlık | Ulaşım | Temizlik |
| D. | Sağlık | İletişim | Temizlik |

6. Aşağıdaki teknolojik aletlerden hangisi "John Logie Baird" tarafından icat edilmiştir?



7.



Yukarıdaki teknolojik aletin temelini oluşturacak çalışmalar yapan bilim insanı aşağıdakilerden hangisidir?

- A. El Cezeri
- B. Wright Kardeşler
- C. Graham Bell
- D. Thomas Edison

8. Aşağıdaki ifadelerden hangisi yanlıştır?

- A. Yaşamımızı sürdürebilmek için karşılamamız gereken gereksinimlere temel ihtiyaçlar denir.
- B. Bir şeye karşı duyulan ilgi ve heyecana istek denir.
- C. Öncelikle ihtiyaçlar değil, isteklerimizi karşılamaya çalışmalıyız.
- D. Sağlık, eğitim gibi alanlar da insanlar için ihtiyaçtır.

9. Aşağıdaki ihtiyaçlardan hangisi "beslenme, sağlık ve giyinme" ihtiyaçlarından herhangi biriyle ilgili değildir?

- A. Hasta olduğu zaman doktora gidip ilaçları düzenli kullanmak
- B. Sabah okula giderken kahvaltı yapmak
- C. Mevsimine uygun kıyafetler giyinmek
- D. Evlerimizin depreme uygun olması konusunda dikkatli davranmak

10. Aşağıdaki verilenlerden hangisi ihtiyaçtır?







1. "Mevsimler" aşağıdaki olaylardan hangisinin sonucunda oluşur?
- Dünya'nın dolanma hareketinin
 - Dünya'nın dönme hareketinin
 - Ay'ın dönme hareketinin
 - Dünya'nın şeklinin

2. Proteinler vucutta¹..... rolde görev alırken, karbonhidratlar,²..... görevini alır.

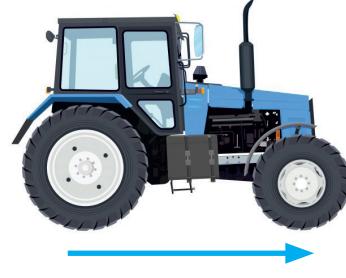
Yukarıdaki ifadede 1 ve 2 numaralı boşluğa aşağıdakilerden hangisi getirilmelidir?

- | <u>1</u> | <u>2</u> |
|----------------------|-------------------|
| A. Düzenleyici | Enerji verici |
| B. Enerji verici | Yapıcı ve onarıcı |
| C. Yapıcı ve onarıcı | Enerji verici |
| D. Enerji verici | Yapıcı ve onarıcı |





3. Aşağıdaki besin içeriklerinden hangisi bitkisel kaynaklı değildir?

- | | |
|--|--|
| A.  | B.  |
| C.  | D.  |

4.



Yukarıdaki traktör ok ile belirtilen yöne doğru hareket etmektedir. Bu traktörün hızını yavaşlatmak için hangi yönde kuvvet uygulanmalıdır?

- | | |
|---|--|
| A.  | B.  |
| C.  | D.  |

5. Aydınlatma ile ilgili söylenen aşağıdaki ifadelerden hangisi yanlıştır?

- Sokak aydınlatması yapılırken, ışığın gökyüzüne yayılması engellenmelidir.
- Aydınlatma araçları seçilirken verimli olanları tercih edilmelidir.
- Akkor lambalar yerine floresan veya led lambalar kullanılmalıdır.
- Ortamda daha iyi görebilmek için ışık gözde direkt gelmelidir.

6. Aşağıdaki aydınlatma araçlarından hangisi günümüze daha yakın bir zamanda kullanılmaya başlanmıştır?

A.



B.



C.



D.



7. Aşağıdakilerden hangisi madde değildir?

A.



B.



C.



D.



8. Aşağıdaki karışımlardan hangisi süzme yöntemi ile birbirinden ayrılamaz?

A. Makarna ve su

B. Şekerli su

C. Kum ve su

D. Çay ve su

9. Aşağıdaki ifadelerden hangisi yanlıştır?

- A. Bir maddenin katı, sıvı ve gaz halleri arasında değişime uğramasına hal değişimi denir.
- B. Isı etkisiyle, maddenin katı halden sıvı hale geçmesine donma denir.
- C. Bir maddenin sıcaklığını azaltmak için yapılan işleme soğutma denir.
- D. Sıcaklık termometre ile ölçülür.

10.



Aşağıdaki verilenlerden hangisi tükenince geri dönüşümü yapılabilir?

A.



B.



C.

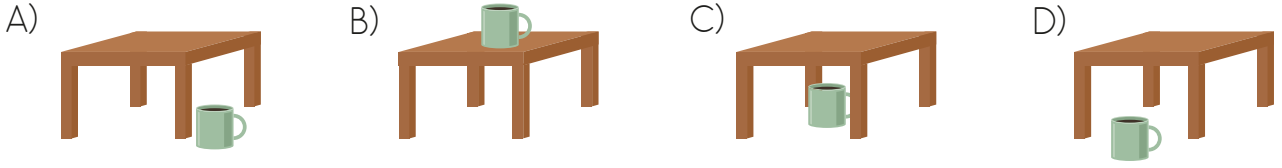


D.



1. Put the cup on the table.

Cümleyi anlatan görsel hangi seçenekte verilmiştir?



2. glass with water.

Boşluğa hangi ifade gelmelidir?

- A) Make
B) Place
C) Cover
D) Fill

3. A:?
B: It is in the lab.

Boşluğa hangisi tamamlar?

- A) Where is Jack
B) Where is the tube
C) Where is Olive
D) Where are they

4. Einstein is a

Boşluğa hangi ifade gelmelidir?

- A) teacher
B) science
C) scientist
D) experiment

5. What is "....." in Turkish?
It is "sulamak".

Boşluğa hangi ifade gelmelidir?

- A) bottle
B) box
C) plant
D) water