

MİLLİ MÜCADELE DÖNEMİ

Milli Mücadele Dönemi, Mustafa Kemal Atatürk'ün Samsun'a çıktığı tarih olan 19 Mayıs 1919'da başlar ve 11 Ekim 1922'de zaferle sonuçlanır. Bu dönemde Atatürk önderliğinde, Türk Devleti dünyayı sömüren ve onlarla hareket eden devletlerle büyük mücadeleler vermiş ve onlara karşı büyük bir zafer elde etmiştir. Bu yapılan mücadele mazlum milletlere umut ışığı olmuştur. Atatürk bu mücadeleyi sürdürürken sayısız yeniliklere de imza atmıştır. Devletimizin muasır medeniyetler seviyesine ulaşması yolunda büyük emek sarfetmiştir.



1 ve 2. soruyu metne göre cevaplayalım.

1. Milli Mücadele Dönemi hangi iki tarih arasındadır?

- A. 19 Mayıs 1919 - 11 Ekim 1922
- B. 19 Mayıs 1919 - 23 Nisan 1920
- C. 11 Ekim 1922 - 29 Ekim 1923
- D. 19 Mayıs 1919 - 11 Ekim 1924

2. Milli Mücadele Dönemi kimlere umut ışığı olmuştur?

- A. Sömürgeci devletlere
- B. Büyük devletlere
- C. Mazlum milletlere
- D. Zengin milletlere

3. Aşağıdaki sözcük çiftlerinden hangisi anlam ilişkisi bakımından diğerlerinden farklıdır?

- A. uzun - kısa
- B. ihtiyar - genç
- C. hız - sürat
- D. dik - eğik

4. Aşağıdaki öğrencilerden hangisinin cümlesinde eş seslisi bulunan bir kelime yoktur?



Bu yaz ailece yurt dışına gitmeyi düşünüyoruz.



Abim bu akşam çok güzel saz çaldı.



Gökyüzünü birden kara bulutlar kapladı.



Bu sonbahar çok soğuk geçecekmiş.

5. Aşağıdaki hayvanlardan hangisinin isminde ince ve kalın ünlü sayısı eşittir?

A.



B.



C.



D.





Yukarıda dağınık olarak verilen sözcüklerle bir atasözü oluşturulursa sıralama nasıl olur?

- A. 1 - 5 - 3 - 4 - 2
 B. 1 - 5 - 3 - 2 - 4
 C. 5 - 1 - 2 - 4 - 3
 D. 3 - 1 - 2 - 2 - 4


7. Aşağıdaki kelimelerden hangisinde kesme işaretinin kullanıldığı yer yanlıştır?

- A. **Ankara'nın** B. **Ağrı Dağı'nın**
 C. **Hasan Amca'da** D. **TBMM'de**

8. Aşağıdaki cümlelerin hangisinde mecaz anlamıyla kullanılan bir sözcük bulunmaktadır?

- A. Ağaçların yaprakları teker teker düşüyordu.
 B. Bu kadar ince giyersen, üşürsün.
 C. Bu sözler onu çok kırmıştı.
 D. Sobaya bu kadar yaklaşma, yanarsın.

9. Simge ()sabah erkenden kalkıp babasıyla koyunları otlatmaya çıktı()Babası ona dönüp,()Gelirken hikaye kitabını getirdin mi()” dedi.



Yukarıdaki paragrafta noktalı yerlere sırasıyla hangi noktalama işaretleri gelmelidir?

- A. (!) (?) (.) (")
 B. (.) (.) (") (?)
 C. (.) (.) (") (?)
 D. (!) (.) (") (.)

10.



sarmısak

mahsun

yanlız

sipiker

kibrit

maydonoz

yanlışı



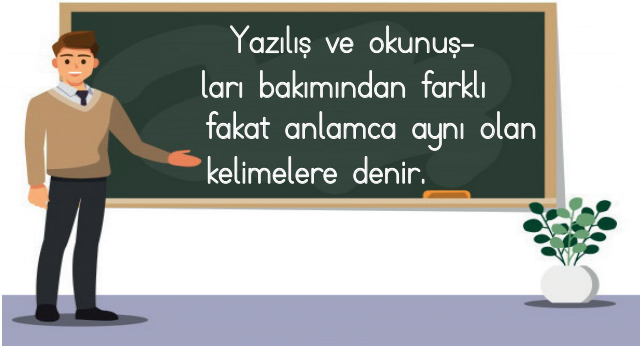
Yukarıdaki maymun yazımı doğru olan sözcüklerin her birinin üzerine atlayıp muza ulaşmak istiyor. Buna göre kaç kutunun üzerine atlamamıştır?

- A. 2
 B. 3
 C. 4
 D. 5

11. Aşağıdaki cümlelerin hangisinde yazım hatası yapılmıştır?
- A. Pazartesi günü de salı günü kadar yağışlı olacaktı.
- B. 20 Mayıs 2012 Cuma günü hiç unutamadığım gündür.
- C. Sendeki eşyalarımı yarın getirmeyi unutma.
- D. Kitabı yanına alki, arabadayken okusun.

12. Aşağıdaki deyimlerden hangisi "çok sevinmek" anlamında kullanılır?
- A. Ağzı kulaklarına varmak
- B. Etekleri zil çalmak
- C. Başına çorap örmek
- D. Baltayı taşa vurmak

13.



Aşağıdaki sözcük çiftlerinden hangisi yukarıdaki tanıma örnek olarak verilemez?

- A. hekim - doktor
- B. görev - vazife
- C. ak - kara
- D. kaygı - tasa

14. Eksilti (bitirilmemiş) cümlelerin sonunda kullanılır.
- Korku, heyecan belirten cümlelerde kullanılır.
- Birden fazla sıralı cümleyi birbirinden ayırmak için kullanılır.
- Alıntı cümlelerinin başında ve sonunda kullanılır.

Yukarıdaki tabloda aşağıdaki noktalama işaretlerinden hangisinin kullanım alanıyla ilgili açıklama yapılmamıştır?

- A. Ünlem işareti
- B. Noktalı virgül
- C. Tırnak işareti
- D. İki nokta

15. Aşağıdaki tablolardan hangisinde sözcükler alfabetik sıralamasına göre yanlış sıralanmıştır?


A.	acemi	acıkmak	açlık
B.	zafer	zahmet	zatüre
C.	vazo	yargıç	yargı
D.	kale	kalem	kalemlik

1.

37	44	39	46	41
----	----	----	----	----

Yukarıdaki sayı örüntüsü devam ettirildiğinde 9. terim aşağıdakilerden hangisi olur?

- A. 44
B. 45
C. 46
D. 47

2. 

Yukarıda verilen sayılardan kaç tanesinin onluğa yuvarlanmış şekli 5680'dir?

- A. 3
B. 4
C. 5
D. 6

3. 

Yukarıdaki rakamlar birer kez kullanılarak oluşturulabilecek en büyük dört basamaklı çift sayının yüzler basamağındaki rakamın basamak değeri kaçtır?

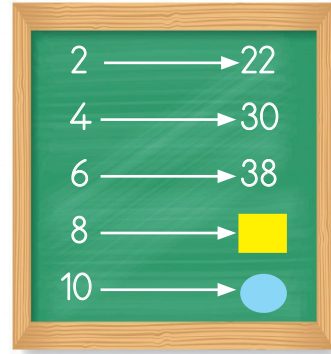
- A. 80
B. 500
C. 700
D. 800



4. $3500 + 4800 = \text{I}$
 $4850 + 3900 = \text{II}$
 $5324 + 1254 = \text{III}$
 $3256 + 2526 = \text{IV}$

Yukarıdaki toplama işlemlerinin sonuçlarından en küçüğü aşağıdakilerden hangisidir?

- A. I
B. II
C. III
D. IV

- 5.



Yukarıdaki sayılar belirli bir ilişkiye göre dizilmiştir. Buna göre  ve  sembollerinin toplamı kaçtır?

- A. 99
B. 100
C. 101
D. 102

6.



3 artan, 5 azalan örüntü oluşturdum.

Ali yukarıda oluşturduğu örüntünün kuralını söylemiştir. Alinin oluşturduğu örüntü 48'den başladığına göre 3. ve 4. terimin toplamı kaçtır?

- A. 93
- B. 94
- C. 95
- D. 96

7. Bir çiftçi topladığı zeytinin 2559 kilogramını satıyor. 3656 kilogramı ile zeytinyağı yapıyor. Elinde 1250 kilogram zeytin kaldığına göre bu çiftçi toplam kaç kilogram zeytin toplamıştır?

- A. 7450
- B. 7455
- C. 7460
- D. 7465

8. Buğday yüklü bir kamyon 9865 kg gelmektedir. Bu kamyonun boş kütlesi 3856 kg olduğuna göre kamyon kaç kg buğday taşımaktadır?

- A. 5019
- B. 6009
- C. 6010
- D. 6019

9.



Hasan'ın babası yukarıdaki bilgisayara şifre koymuştur. İşe giderken Hasan'a şifrenin rakamları farklı dört basamaklı en büyük çift sayı olduğunu söylemiştir. Buna göre şifre aşağıdakilerden hangisidir?

- A. 9998
- B. 9876
- C. 9896
- D. 9866

10.

A - 4525

B - 3965

C - 4850

D - 4322

Yukarıda harflerle eşleştirilen sayıların doğru sıralanışı aşağıdakilerden hangisidir?

- A. $B < D < C < A$
- B. $D > B > A > C$
- C. $B < D < A < C$
- D. $A > B > C > D$

11. Aşağıdaki çıkarma işlemlerinden hangisinin sonucu en küçüktür?

A.
$$\begin{array}{r} 7585 \\ - 6778 \\ \hline \end{array}$$

B.
$$\begin{array}{r} 2858 \\ - 1659 \\ \hline \end{array}$$

C.
$$\begin{array}{r} 9562 \\ - 7999 \\ \hline \end{array}$$

D.
$$\begin{array}{r} 5822 \\ - 4125 \\ \hline \end{array}$$

12.

$$45A98 < 45698$$

$$5B325 > 54325$$

Yukarıdaki sıralamalara göre A ve B'nin yerine aşağıdakilerden hangisi gelirse sıralama bozulmuş olur?

	A	B
A.	3	5
B.	4	6
C.	6	5
D.	5	3

13. "4658 + 3895" işleminin sonucunun yüzler yuvarlanmış hali aşağıdakilerden hangisidir?

- A. 8400
B. 8500
C. 8600
D. 8700


14.

9 yüz binlik + 6 on binlik + 5 yüzlük + 4 onluk + 3 birlik

Yukarıdaki gibi çözümlenen sayı aşağıdakilerden hangisidir?

- A. 96543
B. 96043
C. 960543
D. 965043

15.



Bir otobüs firmasının bir yılda taşıdığı yolcu sayısı ile ilgili aşağıdaki bilgiler verilmiştir.

- 1 - Beş basamaklı, çift bir sayıdır.
- 2 - Binler basamağı ile yüzler basamağının sayı değeri aynıdır.
- 3 - Onlar basamağının basamak değeri 80'dir.

Buna göre bu firmanın bir yılda taşıdığı yolcu sayısı aşağıdakilerden hangisi olabilir?

- A. 5680
B. 65581
C. 74486
D. 83394

1.

müzik dinlemek

su içmek

futbol oynamak

beslenmek

Yukarıdaki verilenlerden kaç tanesi bir kişinin ilgi alanına örnek olarak gösterilebilir?

- A. 1
B. 2
C. 3
D. 4
2. Milli Mücadele Dönemi'nde Güney Cephesi'nde daha çok aşağıdaki devletlerden hangisiyle savaşmıştır?
- A. Fransa
B. İngiltere
C. Ermenistan
D. Yunanistan

3. Aile tarihiyle ilgili araştırma yapan bir öğrencinin aşağıdakilerden hangisinden yararlanması beklenemez?
- A. Ailenin geçmişe ait fotoğraf albümünden
B. Geçmişte kullanılan araç ve gereçlerden
C. Annesinin okuduğu kitaplardan
D. Aile büyüklerinin oynadıkları oyunlardan

4.



Bugün çok sevinçliyim. Kardeşim dünyaya geldi. Babam, yeni doğan kardeşimin nüfus cüzdanını çıkarmak için Nüfus Müdürlüğü'ne gitti. Nüfus cüzdanına koyulması için kardeşimin çok güzel bir fotoğrafını çekti.

Hakan'ın yukarıdaki metinde düştüğü hata aşağıdakilerden hangisidir?

- A. Yeni doğan bebeğin nüfus cüzdanında fotoğraf olmaz.
B. Nüfus cüzdanı belediyeden çıkarılır.
C. Yeni doğan bebeğe yalnızca annesi nüfus cüzdanı çıkarabilir.
D. Yeni doğan bebeklere nüfus cüzdanı çıkarılmaz.

5. Aşağıdaki ifadelerden hangisi yanlıştır?

- A. Milli Mücadele Dönemi, Amasya Genelgesi ile başlar.
B. Milli Mücadele Dönemi'nde, Doğu Cephesi'nin komutanlığını Kazım Karabekir yapmıştır.
C. Milli Mücadele Dönemi 1919 - 1922 yılları arasındaki dönemdir.
D. Milli Mücadele Dönemi'nde, Batı Cephesi'nde başta Yunanistan olmak üzere onu destekleyen büyük devletlerle mücadele edilmiştir.

6.

- | | |
|--------------|-----------|
| ● Cirit | ● Körebe |
| ● Birdirbir | ● Tetris |
| ● Beştaş | ● Dalıe |
| ● Ortayı Bul | ● Sek Sek |

Yukarıdakilerden kaç tanesi geleneksel çocuk oyunlarımızdandır?

- A. 3
B. 4
C. 5
D. 6

7. "Safranbolu Evleri" hangi ilimizde yer almaktadır?



- A. Mersin
B. Karabük
C. İstanbul
D. Balıkesir

8.



Bugün öğretmenimiz bize soy ağacı hazırlama ödevi verdi. Soy ağacını hem en sevdiğim arkadaşım hem de kuzenim olan Aslı, büyükbabam, babam ve ben hazırladık.

Metin yukarıdaki ifadede geçenlerden hangisine soy ağacında yer vermemelidir?

- A. Babasına
B. Öğretmenine
C. Büyükbabasına
D. Aslıya

9. Serhan futbolu hem çok iyi oynamakta hem de çok sevmektedir. Soner ise resim yapmayı çok sevmektedir. Bu bilgilere dayanarak aşağıdaki yorumlardan hangisi yapılamaz?

- A. Serhan'ın ilgi alanlarından biri futbol oynamaktır.
B. Serhan futbol oyununda yeteneklidir.
C. Resim yapmak Soner'in ilgi alanıdır.
D. Soner resim yapmada yeteneklidir.

10.



Yukarıdaki haritada Mondros Ateşkes Antlaşması'ndan sonra işgal edilen yerler numaralandırılarak gösterilmiştir. Haritadaki numaralara göre 1 numaralı yer hangi devlet tarafından işgal edilmiştir?

- A. İtalya
B. İngiltere
C. Yunanistan
D. Fransa

1.



Yukarıda verilen görselle ilgili aşağıdaki yorumlardan hangisi yanlıştır?

- A. Görselde yer alan canlı bir fosil kalıntısıdır.
- B. Paleontoloji biliminin inceleme alanıdır.
- C. İçeriğinde herhangi bir mineral bulunmaz.
- D. Çok uzun bir zaman diliminde oluşmuştur.

2. Aşağıdaki ifadelerden hangisi yanlıştır?

- A. Demir ülkemizde çıkarılan, geniş kullanım alanına sahip bir madendir.
- B. Bakır, elektrikiği ileten bir madendir.
- C. Bor minerali rezervi açısından ülkemiz çok zengindir.
- D. Boksit termometre yapımında kullanılır.

3. A ülkesinde Güneş, B ülkesinden 2 saat önce doğmaktadır. Bu bilgiye göre aşağıdaki yorumlardan hangisi yanlıştır?

- A. A ülkesi daha doğuda yer almaktadır.
- B. B ülkesinde saat 14:00 iken A ülkesinde saat 16:00'dir.
- C. B ülkesinde Güneş, A ülkesinden daha sonra batmaktadır.
- D. A ülkesi yıl boyunca, B ülkesinden daha sıcak olmaktadır.

4.

Elma → 1 → Vitamin

Tavuk → 2 → Karbonhidrat


Ekmek → 3 → Protein

Tereyağı → 4 → Yağ

Yukarıda verilen besinler ve içeriklerinden hangilerinin yeri değiştirilirse hata giderilmiş olur?

- A. 1 ve 3
- B. 1 ve 4
- C. 2 ve 3
- D. 3 ve 4

5.



Yukarıda verilen besin piramidi ile ilgili yapılan aşağıdaki yorumlardan hangisi yanlıştır?

- A. 1. katında yer alan besinler karbonhidrat bakımından zengindir.
- B. 2. katında vitamin bakımından zengin olan besinler yer almaktadır.
- C. 4. katında yer alan besinler yapıcı ve onarıcı besin grubunda yer alır.
- D. 3. katında yer alan besinler daha çok enerji verici besin grubundadır.


6. Aşağıda verilen besin gruplarından hangisi daha yüksek oranda protein içerir?



7. Aşağıdaki bilgilerden hangisi yanlıştır?

- A. Ceviz, fındık gibi besinler daha çok enerji vermektedir.
- B. Yaralarımızın çabuk iyileşmesi için protein ağırlıklı beslenmeliyiz.
- C. Hastalandığımız zaman vitamin ağırlıklı beslenirsek çabuk iyileşiriz.
- D. Su ihtiyacımızı sadece içtiğimiz sudan karşılarız.

8.



Yukarıdaki görselle ilgili aşağıdaki yorumlardan hangisi doğrudur?


- A. Dünya'nın her bölgesi gündüzü yaşamaktadır.
- B. Dünya'nın her bölgesi yaz mevsimini yaşamaktadır.
- C. Dünya'nın bir kısmı geceyi yaşamaktadır.
- D. Geceyi yaşayan bölgedeki mevsim kıştır.

9. Aşağıdaki bilgilerden hangisi yanlıştır?

- A. Alkol başta karaciğer olmak üzere birçok organa zarar verir.
- B. Sigaranın zarar verdiği organların başında mide gelir.
- C. Sigarada başta nikotin olmak üzere birçok zararlı madde vardır.
- D. Alkol bağımlılığı olan insanların beyin hücreleri zarar görür.

10. Aşağıdaki bilgilerden hangisi doğrudur?

- A. Sebzelerin hiçbirinde protein bulunmaz.
- B. Vücudumuz, yağdan enerji ihtiyacını karşılayamazsa karbonhidratlardan karşılar.
- C. Ispanakta bol miktarda demir minerali bulunur.
- D. Proteinler düzenleyici besin grubunda yer alır.

1.  Where are you from?
I am from Germany.

Yukarıdaki çocuğun soruya verdiği cevaba göre aşağıdaki bayraklardan hangisi çocuğun yaşadığı ülkeye aittir?

- A.  B. 
- C.  D. 





2.

Turkey
Turkish

Germany
German
- | |
|-------|
| Spain |
| Span |

Canada
Canadian

Yukarıda verilen ülke isimlerine göre verilen millet isimlerinden kaç tanesi doğrudur?

- A. 1 B. 2
C. 3 D. 4
3. Aşağıdaki cümlelerden hangisinde altı çizili sözcüğün yerine ok işareti ile gösterilen kelime getirilemez?
- A. This is Merve's bag.  her
- B. It is Metin and Arda's homework.  them
- C. Utku is from Turkey.  your
- D. It is Hakan's computer.  his

4.

they

my

- | |
|------|
| them |
|------|

you

Aşağıdaki boşuklardan hangisine yukarıda verilenlerden herhangi biri gelemez?

- A. Where are from?
B. are rulers.
C. name is Serkan.
D. is from Denmark.

5.


--



- | |
|--|
|  |
|--|



Aşağıdaki ifadelerden hangisi yukarıdaki görsellerden herhangi birisi ile alakalı değildir?

- A. playing football B. riding a horse
C. read a book D. riding a car